

第一章

章末综述





考点突破

高频考点 1 中国的疆域

【考情剖析】考试时主要考查我国的纬度位置和海陆位置及其优越性、领土的四端、面积、濒临的海洋、海峡、主要的岛屿、半岛以及陆上相邻和隔海相望的国家,通常以我国疆域全图或者局部图为载体,以选择题或者读图题形式出现。



1. (宜昌市中考)下列有关中国地理位置的说法,正确的是 ()

A. 位于南半球

B. 位于西半球

C. 位于亚洲东部、太平洋西岸

D. 领土大部分在北温带,小部分在寒带





2. (昆明市中考)关于中国的疆域,说法正确的是

()

- A. 北部邻蒙古,东北部邻朝鲜
- B. 岛屿众多,最大岛为海南岛
- C. 从北向南临南海、黄海、渤海、东海
- D. 最北端位于乌苏里江主航道中心线上



3. (龙东地区中考)以下省区都有我国领土端点的是

()

- A. 吉林省,台湾省,新疆维吾尔自治区
- B. 黑龙江省,海南省,新疆维吾尔自治区
- C. 黑龙江省,云南省,内蒙古自治区
- D. 海南省,吉林省,内蒙古自治区

4. (荆州市中考)下图是广州人和哈尔滨人的对话。
导致两地作息时间产生差异的主要因素是 ()

我们一般午后要休息一会儿，晚上9点以后喜欢走上大街，很晚才回家。

广州人



我们一般午后不休息，一年中除夏季外，晚上8点以后，大街上就很少有行人了。

哈尔滨人



- A. 地球自转
- C. 纬度位置

- B. 地形地势
- D. 海陆位置

高频考点 2 中国的行政区划

【考情剖析】重点考查各省级行政区域的名称、简称、行政中心、位置和轮廓识记。通常以中国政区图或者省级行政区域轮廓图为载体进行命题,题型以选择题居多。

5. (凉山州中考)下列省级行政区、简称及行政中心对应错误的是 ()

- A. 内蒙古自治区—内蒙古—乌鲁木齐
- B. 吉林省—吉—长春
- C. 四川省—川或蜀—成都
- D. 青海省—青—西宁



8. (呼和浩特市中考)我国下列省级行政单位中,既有陆上国界线,又有海岸线,同时还有阳光直射现象的是 ()

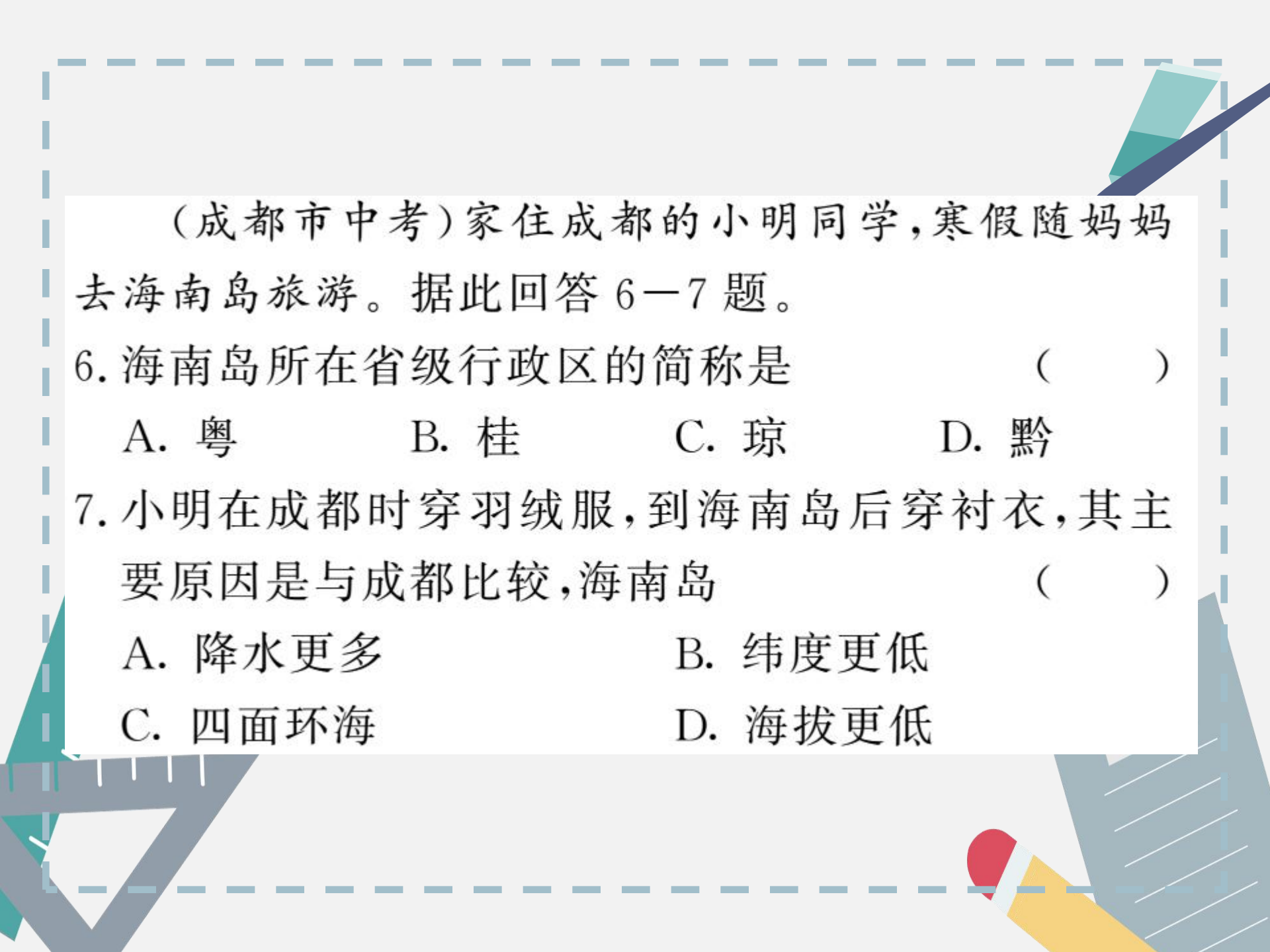
A. 桂

B. 澳

C. 滇

D. 辽





(成都市中考)家住成都的小明同学,寒假随妈妈去海南岛旅游。据此回答6—7题。

6. 海南岛所在省级行政区的简称是 ()

- A. 粤 B. 桂 C. 琼 D. 黔

7. 小明在成都时穿羽绒服,到海南岛后穿衬衣,其主要原因是与成都比较,海南岛 ()

- A. 降水更多 B. 纬度更低
C. 四面环海 D. 海拔更低

高频考点 3 中国的人口和民族

【考情剖析】主要考查人口的增长特点、人口问题、人口和民族的分布、民族风情等，多以选择题或图表题的形式出现，人口问题多以读图分析题形式考查。

9. (贵港市中考)我国是世界上人口最多的国家,下列说法符合我国目前人口国情的是 ()

- A. 劳动力不足
- B. 人口分布不均匀,西多东少
- C. 人口基数小,人口增长慢
- D. 老龄人口比例不断提高

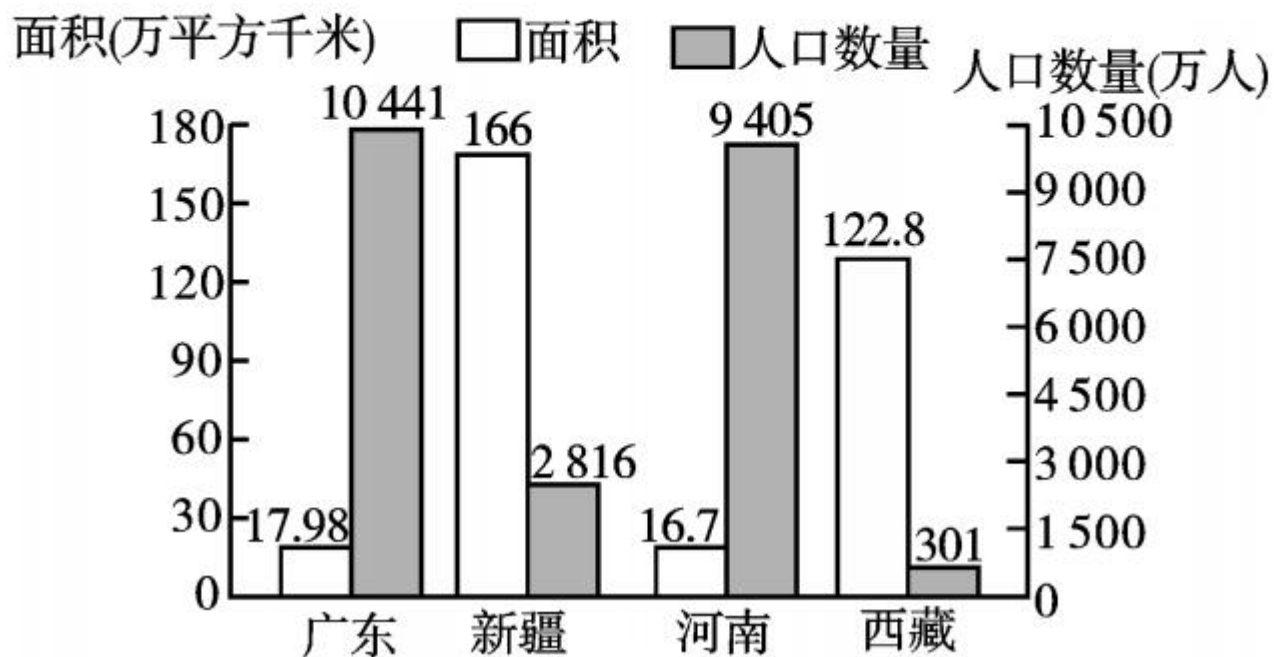


10. (连云港市中考)下列有关我国人口分布的说法,正确的是 ()

- A. 山区人口稠密,平原人口稀疏
- B. 沿海人口稠密,内陆人口稀疏
- C. 西部人口稠密,东部人口稀疏
- D. 农村人口稠密,城市人口稀疏



(保定市中考)下图示意我国 2010 年四个省区面积和人口数量,读图完成 11—12 题。





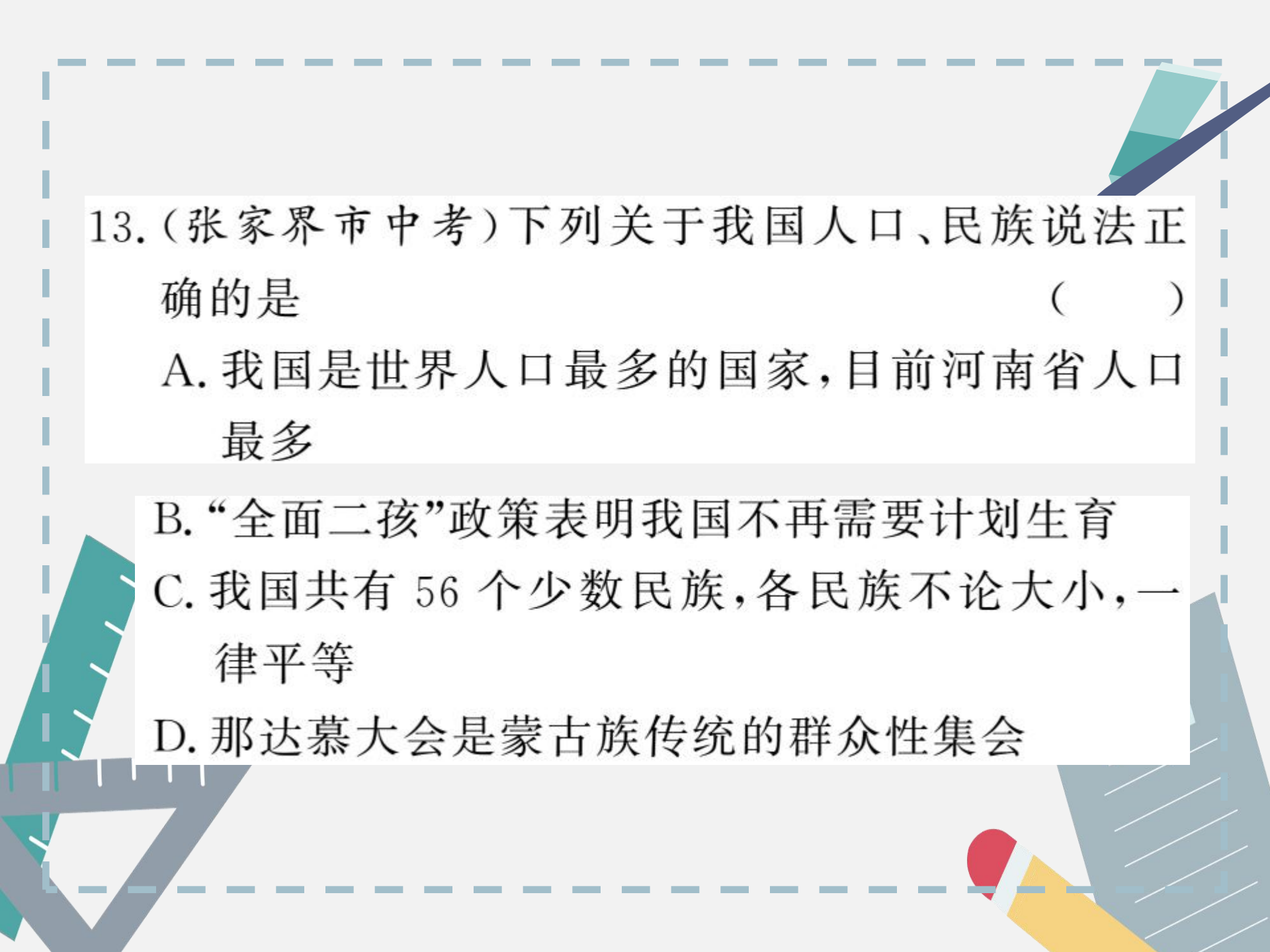
11. 四省区中人口密度最大的是 ()

A. 广东 B. 新疆 C. 河南 D. 西藏

12. 该图反映了我国人口 ()

A. 基数大 B. 增长速度快
C. 老龄化严重 D. 地区分布不均匀





13. (张家界市中考) 下列关于我国人口、民族说法正确的是 ()

A. 我国是世界人口最多的国家, 目前河南省人口最多

B. “全面二孩”政策表明我国不再需要计划生育

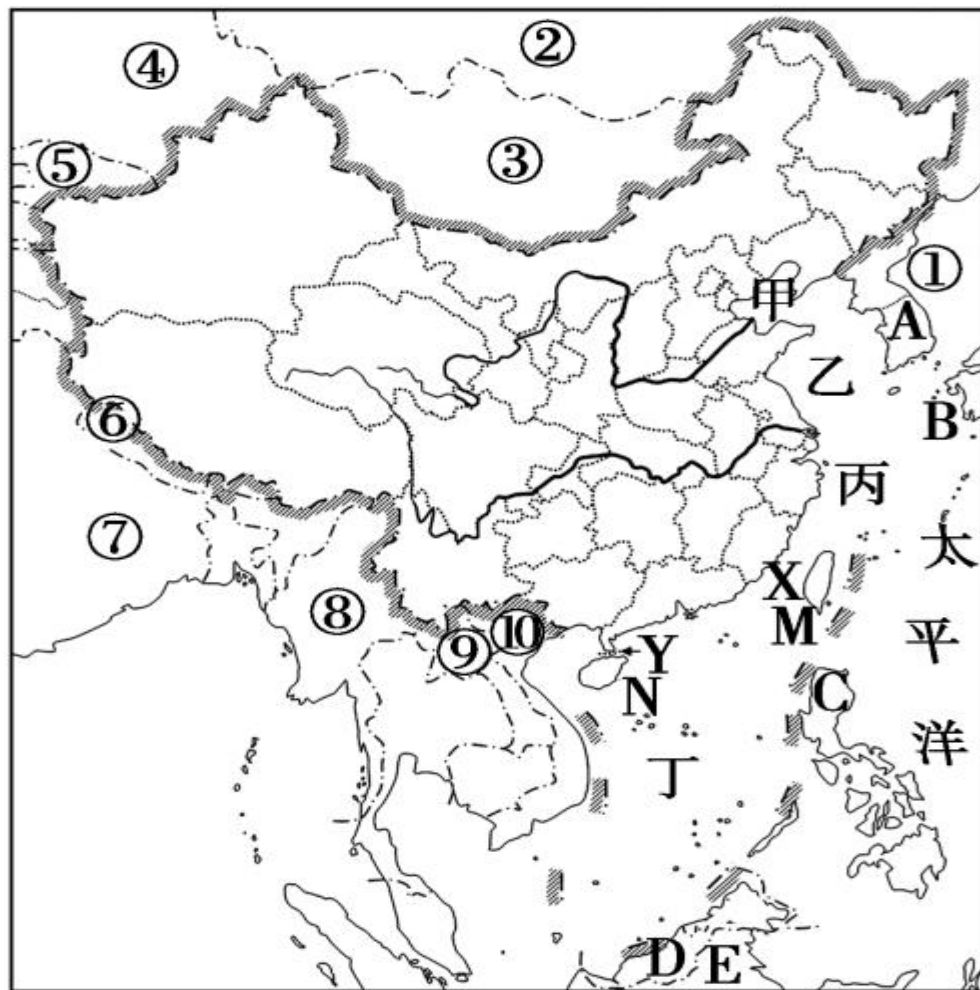
C. 我国共有 56 个少数民族, 各民族不论大小, 一律平等

D. 那达慕大会是蒙古族传统的群众性集会



识图训练

1. 读“中国疆域示意图”，写出相应地理事物的名称。



(1) 陆上邻国：

① _____, ② _____, ③ _____, ④ _____,
⑤ _____, ⑥ _____,
⑦ _____, ⑧ _____, ⑨ _____,
⑩ _____。

(2) 海上邻国：

A _____, B _____, C _____, D _____,
E _____。



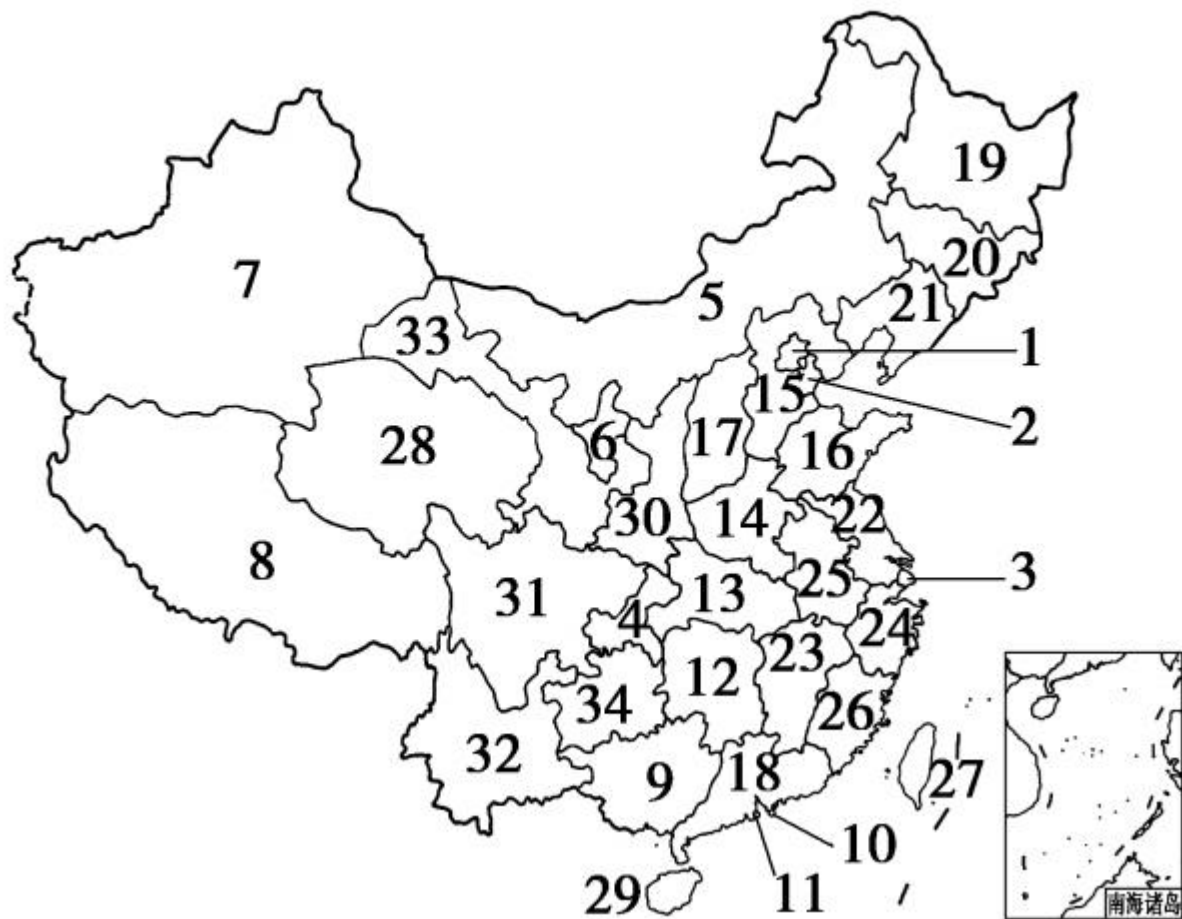
(3) 海洋：

甲 _____ , 乙 _____ , 丙 _____ , 丁 _____
_____。

(4) 岛屿：M _____ , N _____。

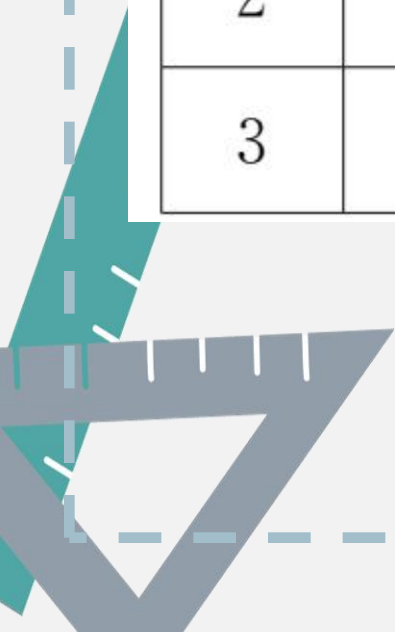
(5) 海峡：X _____ , Y _____。

2. 读“中国政区图”，完成下表。





序号	名称	简称	行政中心
1	北京市	京	北京
2	天津市	津	天津
3	上海市	沪	上海



序号	名称	简称	行政中心
4	重庆市		重庆
5	内蒙古自治区	内蒙古	
6		宁	银川
7	新疆维吾尔自治区	新	
8	西藏自治区	藏	
9	广西壮族自治区		南宁

10	香港特别行政区		香港
11	澳门特别行政区		澳门
12		湘	长沙
13	湖北省	鄂	
14	河南省		郑州
15	河北省	冀	
16	山东省	鲁	
17		晋	太原

18	广东省	粤	
19	黑龙江省		哈尔滨
20	吉林省	吉	
21		辽	沈阳
22	江苏省	苏	
23		赣	南昌
24	浙江省	浙	
25	安徽省		合肥

26		闽	福州
27	台湾省	台	
28	青海省	青	
29	海南省		海口
30	陕西省	陕或秦	
31		川或蜀	成都
32	云南省	云或滇	
33	甘肃省	甘或陇	
34		贵或黔	贵阳

