



第三章

章末综述





考点突破

高频考点 1 自然资源的基本特征

【考情剖析】主要考查可再生资源与非可再生资源的区别、自然资源的特点和利用。也常常结合时事材料、热点或漫画等进行考查。题型多为选择题或材料分析题。




1. (宜昌市中考)我们要珍惜和合理利用自然资源,下列属于非可再生资源的是 ()

A. 矿产资源

B. 土地资源

C. 气候资源

D. 水资源





2. 我国自然资源总量丰富,人均不足。下列说法正确的是 ()

A. 煤、森林、水资源都属于非可再生资源

B. 我国北方地少水多、南方地多水少

C. 我们应该培养节约能源的意识,开发新材料、新能源


D. 我国土地利用类型齐全,耕地比重大

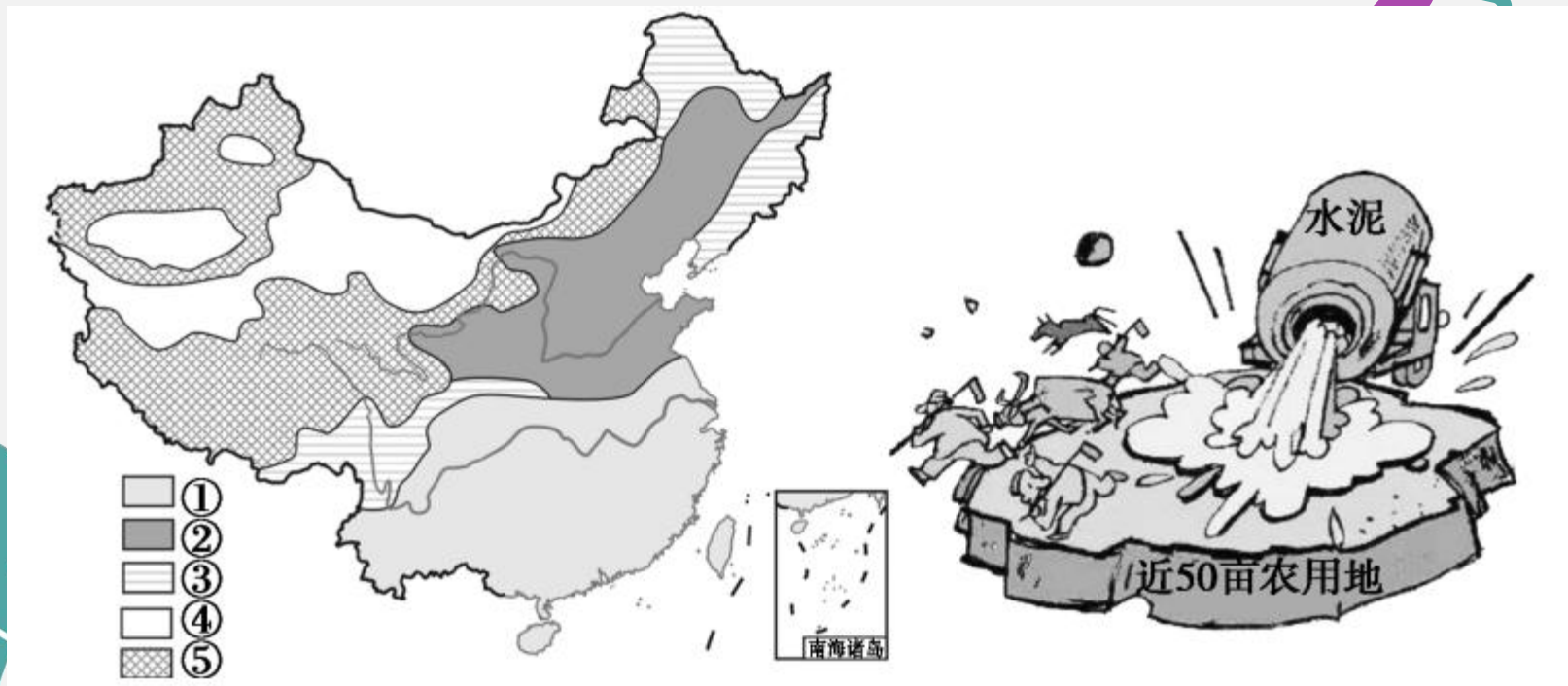
高频考点 2 土地资源

【考情剖析】主要考查的知识点是：①土地资源的分类及其基本状况；②各类土地资源的分布状况；③土地资源的利用和保护。通常结合我国的气候和地形特点考查我国耕地、林地与草地的分布状况，使用中存在的问题和解决的措施等。多以选择题、读图分析题的形式出现。



(滨州市中考)2018年6月25日是我国第28个“土地日”，自然资源部在全国部署开展主题为“珍惜土地资源，建设美丽家园”的系列宣传活动。读“我国土地资源类型分布图”和漫画，完成3—4题。







3. 关于我国土地资源的说法,正确的是 ()

- A. 土地资源类型多样,人均土地资源充足
- B. 我国土地资源构成中,①和②所占比重最大
- C. ③主要分布在西北和东南地区
- D. ⑤适合发展畜牧业





4. 关于漫画中的问题,合理的对策有 ()

- ①加强耕地保护立法,切实保护耕地 ②为了保障农业产量,大量使用农药、化肥 ③严禁建设用地占用耕地 ④在城市周边农村建设高尔夫球场等休闲娱乐设施

A. ①④

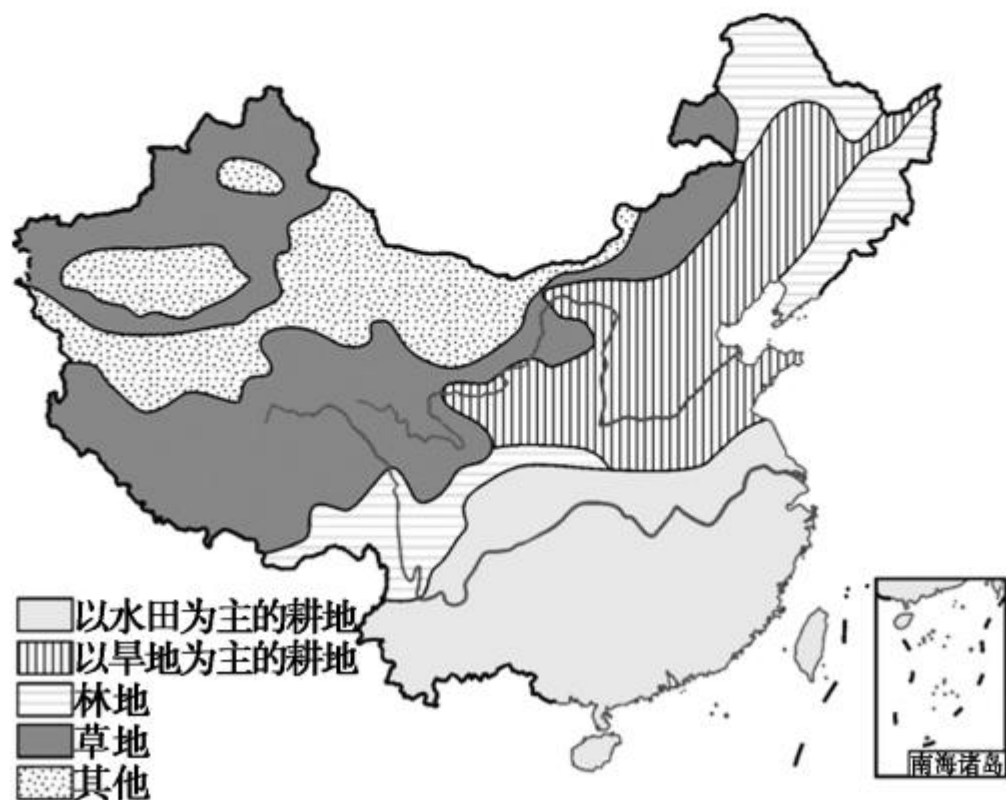
B. ②③

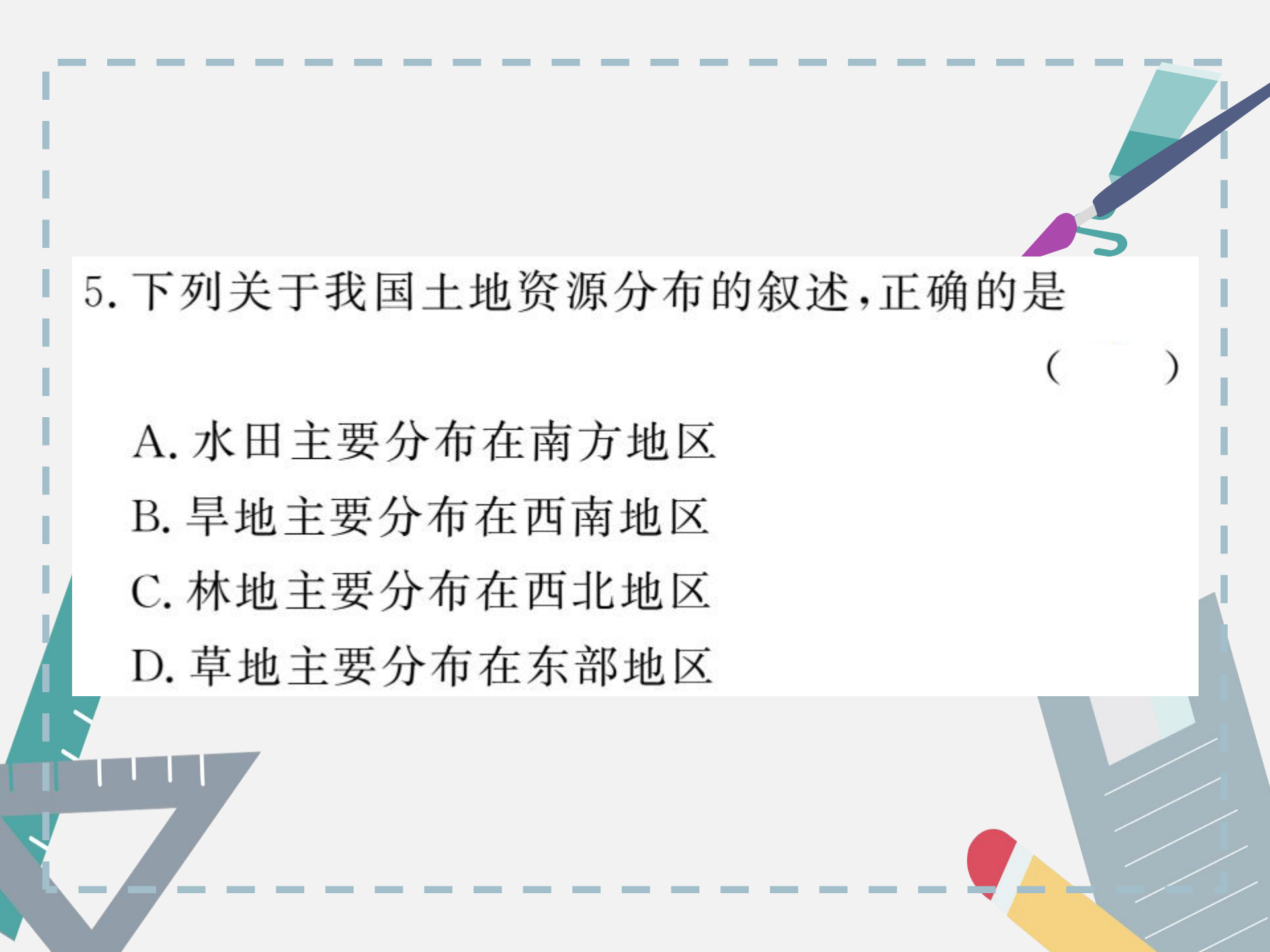
C. ①③

D. ③④



(海南省中考)2018年“世界地球日”的主题是“珍惜自然资源,呵护美丽国土——讲好我们的地球故事”。读“中国土地资源分布图”,完成5—6题。





5. 下列关于我国土地资源分布的叙述,正确的是

()

- A. 水田主要分布在南方地区
- B. 旱地主要分布在西南地区
- C. 林地主要分布在西北地区
- D. 草地主要分布在东部地区



6. 下列举措有利于保护土地资源的是 ()

- A. 在陡坡垦荒, 扩大耕地
- B. 利用耕地扩大城市建设
- C. 珍惜和合理利用每一寸土地
- D. 农业生产大量使用有毒农药



高频考点 3 水资源

【考情剖析】主要考查我国水资源的时间空间的分布特点、解决水资源时空分布不均的措施以及节约用水、防治水污染的做法。多以选择题、漫画分析题等形式并结合时事热点进行考查。

7. (连云港市中考)“南水北调工程”能够反映我国水资源具有的特点是 ()
- A. 地区分布不均 B. 季节变化大
- C. 年际变化大 D. 总量丰富,人均不足

(湘潭市中考)下表为我国南方地区和北方地区水资源、人口数量、耕地面积占全国的比重情况。结合下表完成 8—9 题。

	人口数量	水资源	耕地面积
南方地区占比	53.5%	80%	35.2%
北方地区占比	44.4%	14.7%	59.2%

8. 与北方地区相比,南方地区 ()
- A. 人口数量少
 - B. 耕地多、水资源少
 - C. 人均水资源占有量少
 - D. 人均耕地面积小




9. 解决南方地区和北方地区水资源分配不均的有效措施是 ()

A. 修建水库

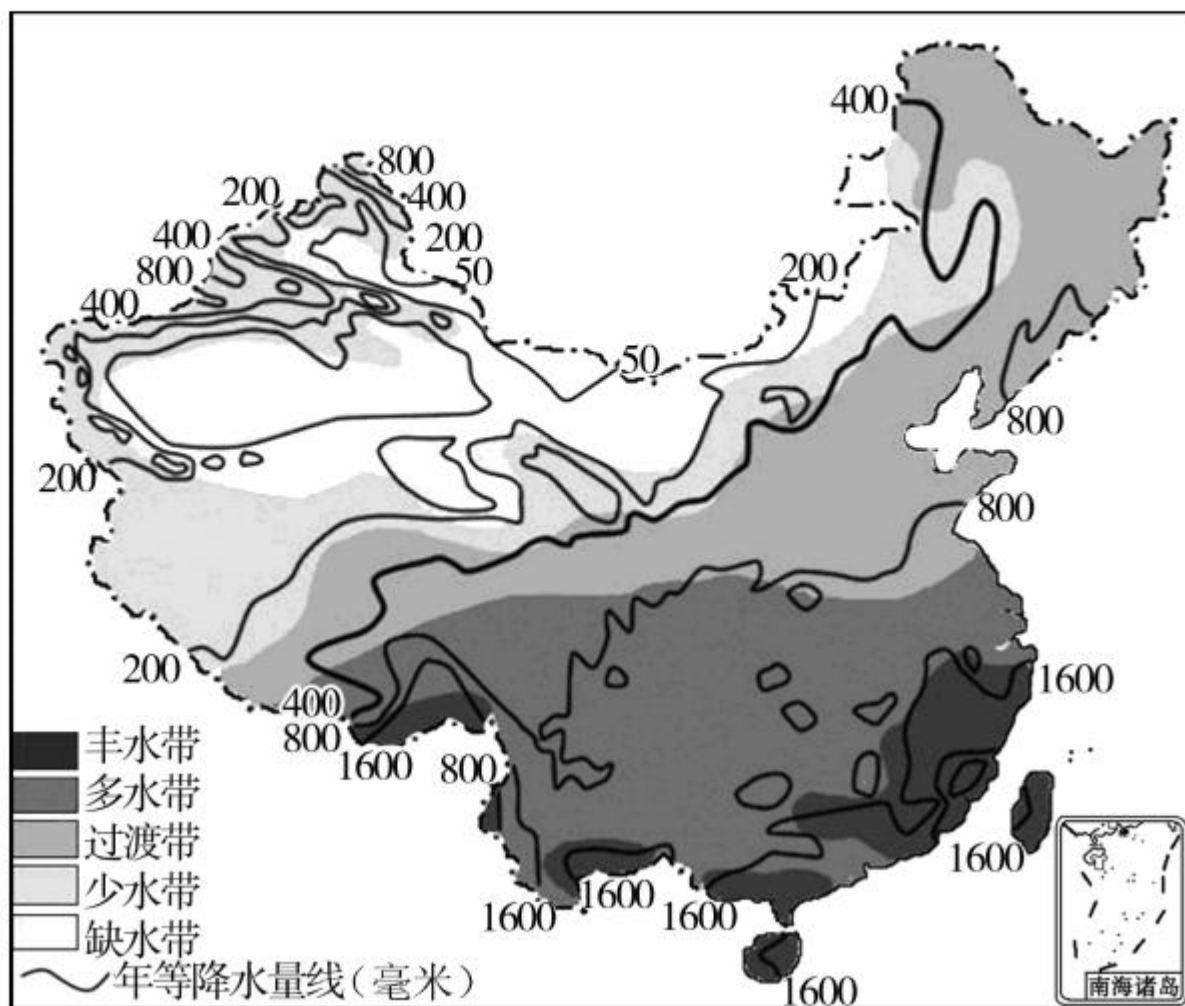
B. 南水北调

C. 节约用水

D. 防治水污染



10. (昆明市中考) 下图为“我国年降水量及水资源空间分布示意图”, 读图回答下列各题。



(1)我国降水量空间分布的总趋势是_____。
_____。

(2)根据年降水量空间分布推测,我国西北内陆土地利用类型以_____为主。

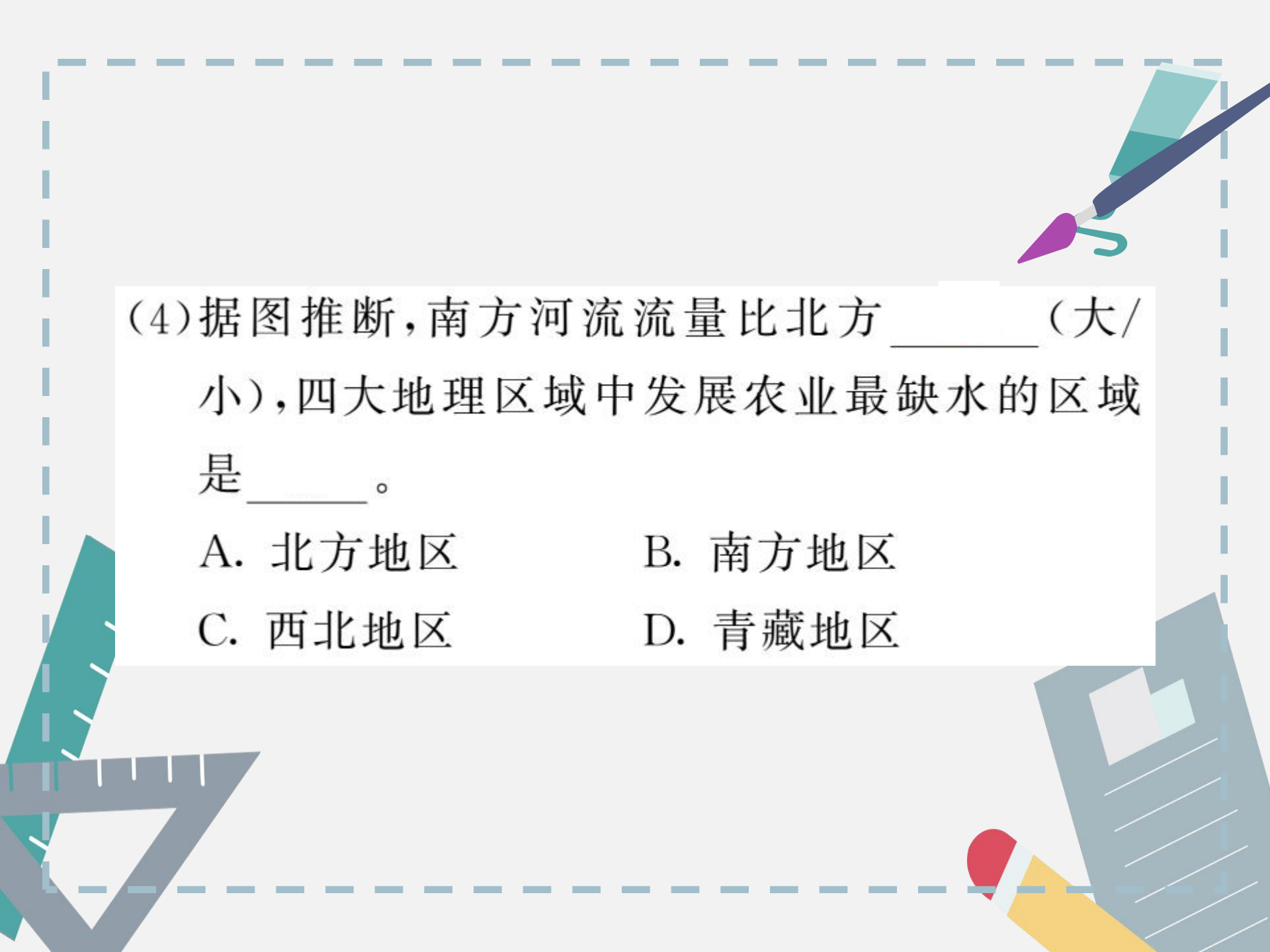
A. 耕地

B. 草地

C. 林地

D. 建设用地

(3)我国水资源南方_____,北方少,西北最少;解决水资源空间分布不均的措施是_____。
_____。



(4)据图推断,南方河流流量比北方_____ (大/小),四大地理区域中发展农业最缺水的区域是_____。

A. 北方地区

B. 南方地区

C. 西北地区

D. 青藏地区



识图训练

1. 自然资源的种类。



照明

冶炼

甲 _____ 资源




农业灌溉

乙 _____ 资源



种植粮食


丙 _____ 资源



造纸、制铅笔

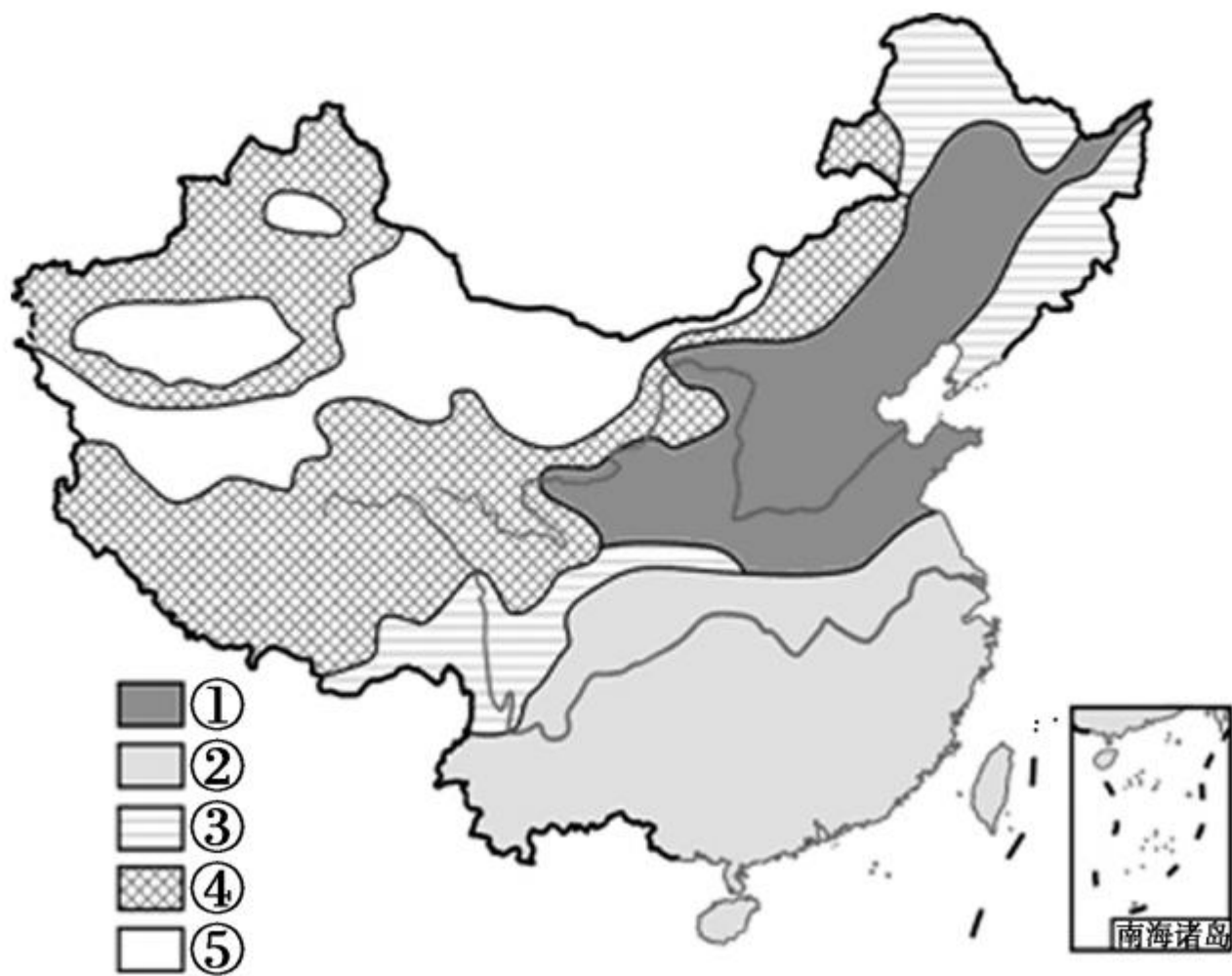
丁 _____ 资源

2. 读“我国土地利用类型比例图”，写出图中数字代号所表示的土地类型的名称。



① _____, ② _____, ③ _____。

3. 读“我国土地资源分布图”，写出图中数字代号所表示的土地类型的名称。

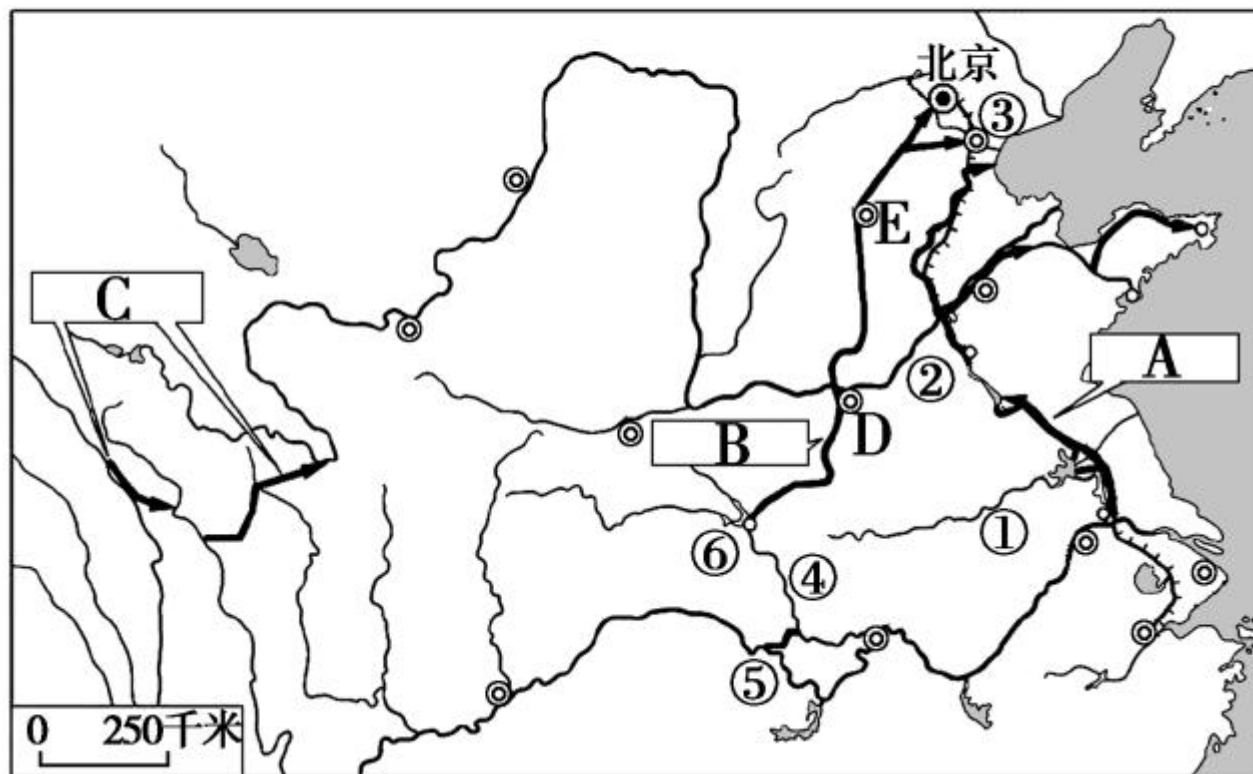




① _____, ② _____, ③ _____, ④ _____
_____, ⑤ _____。



4. 读“南水北调工程示意图”，完成下列各题。



(1)南水北调工程是将_____丰富的水资源
调到_____和_____地区。

(2)调水工程:A _____工程,B _____工程,C
_____工程。

(3)河流:①_____,②_____,③_____,④
_____。

(4)水库:⑤_____水库,⑥_____水库。

(5)省会城市:D_____,E_____。



























