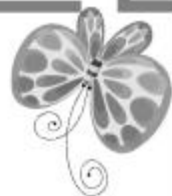






七年级地理·上册



# 期中综合测试卷

(时间：60分钟 分数：100分)





### 一、单项选择题(每小题 2 分,共 50 分)

题号	1	2	3	4	5	6	7	8	9	10	11	12	13	14	15
答案															
题号	16	17	18	19	20	21	22	23	24	25					
答案															

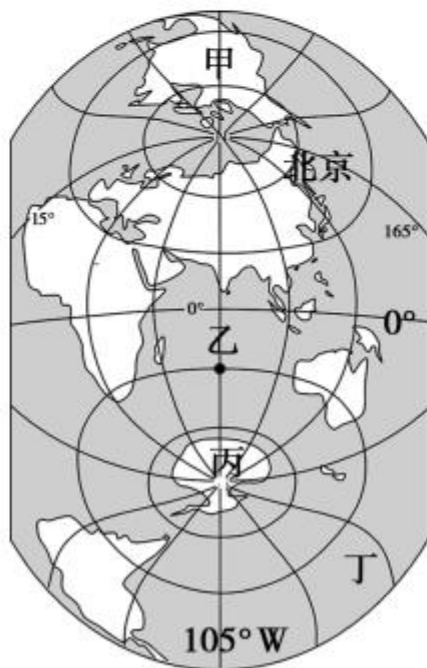


1. 下列关于地球仪和经纬网的说法,正确的是

( )

- A. 本初子午线是东、西半球的分界线
- B. 经线和纬线都有无数条
- C. 所有纬线的长度都相等
- D. 纬度  $30^{\circ} \sim 60^{\circ}$  称为低纬度

“竖版世界地图”以崭新的视野展示世界。读图,完成 2~4 题。



2. 甲、乙、丙、丁位于北半球的是 ( )

A. 甲                      B. 乙                      C. 丙                      D. 丁

3. 乙点所在的经纬度位置是 ( )

A. ( $30^{\circ}\text{S}$ ,  $105^{\circ}\text{E}$ )                      B. ( $30^{\circ}\text{S}$ ,  $105^{\circ}\text{W}$ )  
C. ( $30^{\circ}\text{S}$ ,  $75^{\circ}\text{E}$ )                      D. ( $30^{\circ}\text{S}$ ,  $75^{\circ}\text{W}$ )

4. 甲、乙、丙、丁对应的地理区域,正确的是 ( )

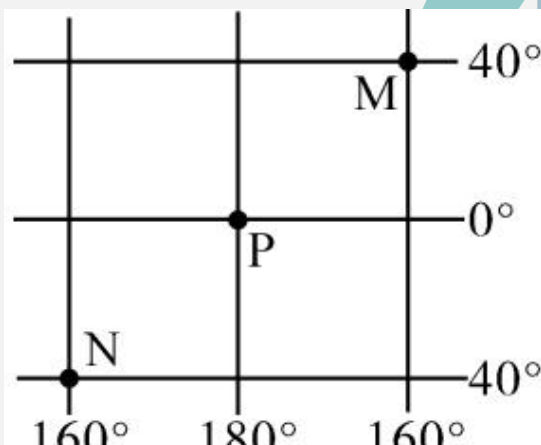
A. 甲—南美洲    B. 乙—太平洋    C. 丙—南极洲    D. 丁—印度洋

5. 下列关于地球公转的叙述,正确的是 ( )

A. 地球公转的方向与地球自转的方向相反  
B. 地球公转一周的时间为一个月  
C. 地球公转时,地轴是倾斜的,而且北极点总是指向北极星附近  
D. 地球公转产生了昼夜更替现象

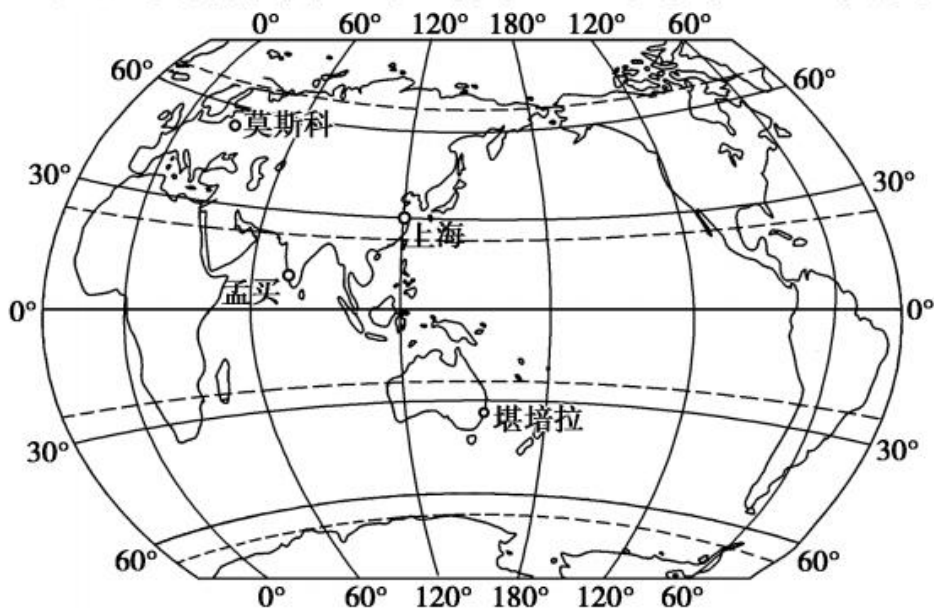
6. (2017年襄阳市)关于右边经纬网图的叙述,正确的是 ( )

- A. M点位于N点的西北方向
- B. M点位于热带,N点位于东半球
- C. M点位于中纬度,P点位于低纬度



D. 当太阳直射在P点所在的纬线时,N地昼短夜长

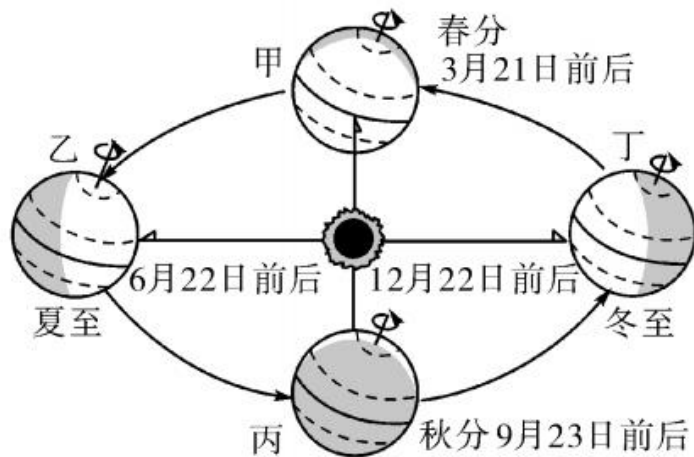
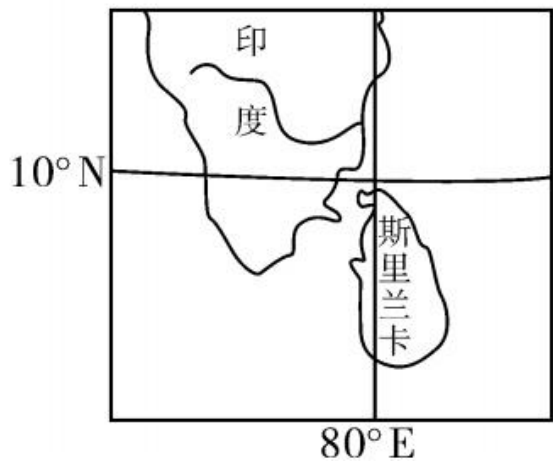
(2017年潍坊市)经纬网是我们在地球上准确定位地理事物的依据。如图是“上海、孟买、莫斯科、堪培拉四城市经纬度位置示意图”,读图完成7~9题。





7. 随地球自转一周,四个城市中绕地轴旋转距离最长的是 ( )
- A. 上海      B. 孟买      C. 莫斯科      D. 堪培拉
8. 6月14日,四个城市中白昼时间最长的是 ( )
- A. 上海      B. 孟买      C. 莫斯科      D. 堪培拉
9. 四个城市中,每天最早迎来日出的是 ( )
- A. 上海      B. 孟买      C. 莫斯科      D. 堪培拉

(2017年郴州市)2017年5月26日至29日,斯里兰卡普降大雨,引发洪涝灾害,造成巨大的经济损失。读“斯里兰卡位置图”和“地球公转示意图”,回答10~11题。



10. 下列关于斯里兰卡地理位置的描述,正确的是 ( )

A. 位于南半球

B. 位于高纬度地区

C. 位于北半球

D. 位于中纬度地区

11. 此次斯里兰卡洪涝灾害期间,地球正处于公转示意图中的 ( )

A. 甲—乙段

B. 乙—丙段

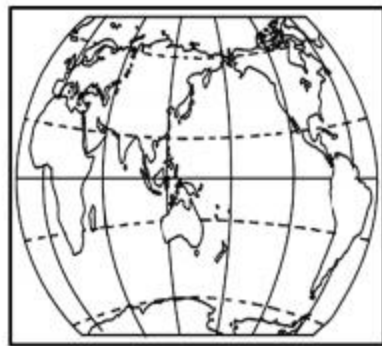
C. 丙—丁段

D. 丁—甲段

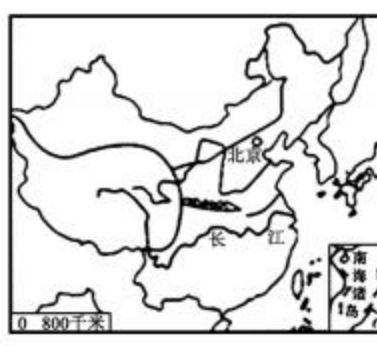
12. 下列四幅地图图幅大小相同,反映内容最详细的是 ( )



A



B



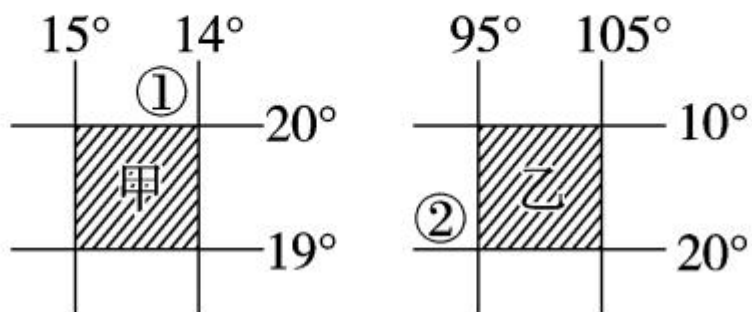
C



D

13. 读下边经纬网图,若甲乙两图阴影面积相等,下列说法正确的是

( )




A. 乙阴影比甲阴影内容详尽

B. ②地在①地西南方向


C. 甲图的比例尺比乙图大

D. 甲阴影表示的实地范围较乙阴影大

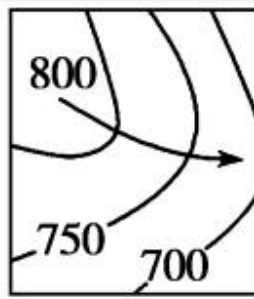
14. 下列四幅等高线(米)地形图中,正确表示河流流向的是 ( )




A



B



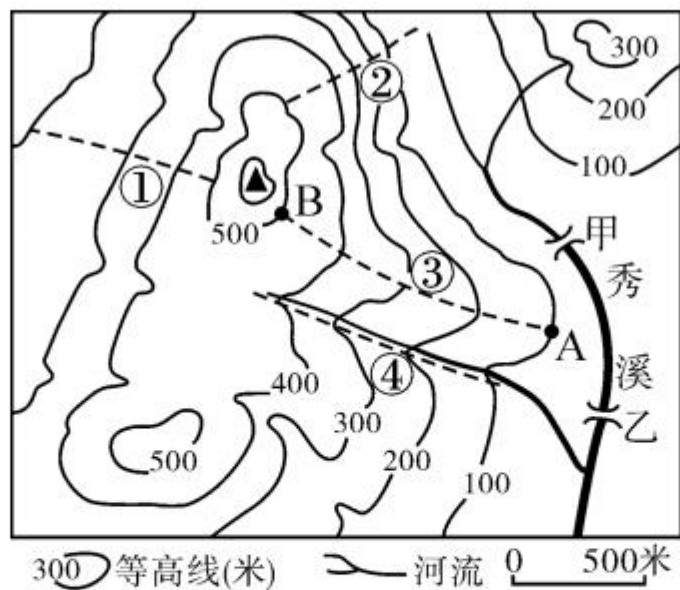
C



D



(2017年邵阳市)结合下面“某地等高线地形图”,完成15~17题。



15. 量得甲、乙两桥图上直线距离是1.2厘米,则实际距离是 ( )
- A. 1000米    B. 500米    C. 600米    D. 1200米
16. 图中四条登山路线坡度最陡的是 ( )
- A. ①    B. ②    C. ③    D. ④

17. 图示地区的地形特征是 ( )

- A. 以丘陵山地为主                      B. 典型的盆地地形  
C. 广阔的平原地形                      D. 高峻的高原地形

18. 关于地球表面海陆分布的描述正确的是 ( )

- A. 地球表面有三分海洋,七分陆地  
B. 地球表面陆地主要集中在北半球  
C. 地球表面有六块相互连着的大洲  
D. 地球上有彼此不相连的四个大洋

读图,完成 19~20 题。



19. 图中大洲位于太平洋沿岸的有 ( )

- A. ①②④      B. ①③④      C. ②③④      D. ①②③④

20. 关于图中大洲的叙述, 正确的是 ( )


- A. ①大洲跨寒温热三带      B. ②大洲面积最大  
C. ③大洲跨经度最广      D. ④大洲纬度最高

21. 下列事例中, 可证明海陆变迁的是 ( )

- ①在南极大陆发现了煤、铁资源    ②地球表面的陆地主要集中在北半球  
③印度尼西亚是一个多地震的国家    ④在我国喜马拉雅山上发现岩石中含有海洋生物的化石  
⑤在我国东部海底发现了古河道及水井等人类活动的遗迹

- A. ①和③      B. ②和④      C. ④和⑤      D. ①和②

湖南卫视 2 月 25 日新闻报道: 2 月 24 日 19 时 48 分 16 秒, 桃江县境内发生里氏 3.2 级地震, 震中位于桃江县境内(北纬 28.56 度, 东经 112.04 度), 震源深度 7 公里。据地震专家介绍, 里氏 3.2 级地震



属有感地震,人们能够感觉到,一般情况下不会对地面建筑物造成破坏。据此回答 22~23 题。

22. 家住长沙市的小明想知道桃江县在哪,需查阅 ( )

A. 中国气候分布图

B. 世界政区图

C. 湖南省政区图

D. 长沙市交通图


23. 据桃江县县志记载:有史以来,桃江县境内没有发生过里氏 5 级以上的地震。其原因可能是由于桃江县 ( )

A. 位于环太平洋地震带

B. 位于板块的内部

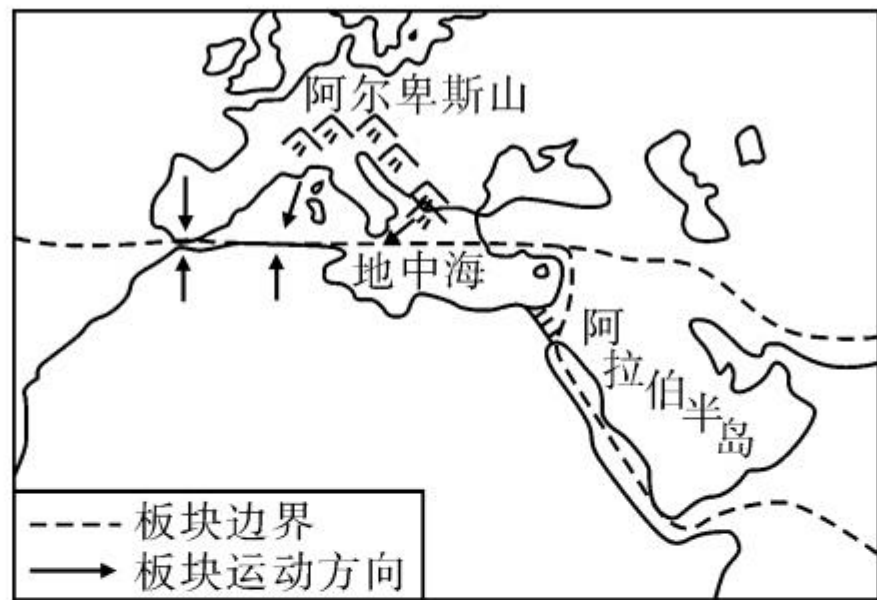
C. 位于板块的交界处

D. 位于地中海—喜马拉雅地震带





(2017年滨州市)读下图,完成24~25题。



24. 根据图中提供的信息,你提出的问题是 ( )

- A. 红海面积不断缩小
- B. 非洲气候类型分布
- C. 非洲河流水文特征
- D. 地中海面积不断缩小

25. 能够解释你所提问题的叙述是 ( )

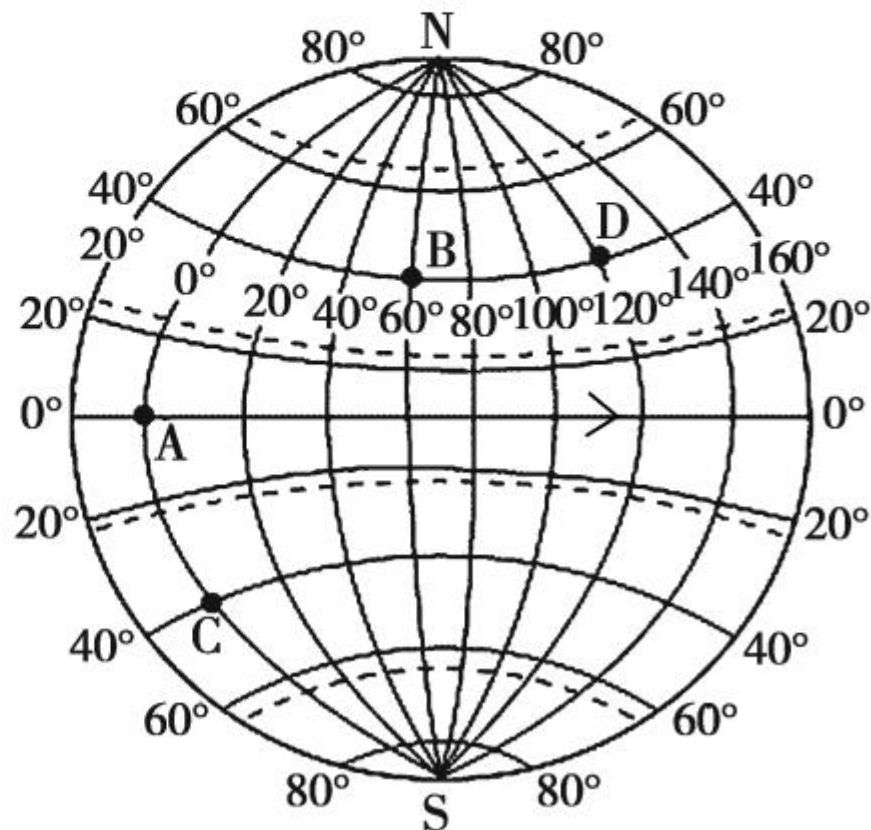
- A. 非洲板块与印度洋板块张裂拉伸形成
- B. 气候类型以温带季风气候为主

C. 流量大,有结冰期

D. 亚欧板块与非洲板块碰撞挤压形成

## 二、综合题(50分)

26. 读“经纬网图”,回答下列问题。(10分)



(1)图中通过 A、C 两点,连接南北两极的半圆是\_\_\_\_\_经线;通过 B、D 两点,环绕地球一周的圆圈是\_\_\_\_\_纬线。(2 分)

(2)写出图中 A、D 两点的经纬度。(2 分)

A \_\_\_\_\_,D \_\_\_\_\_。

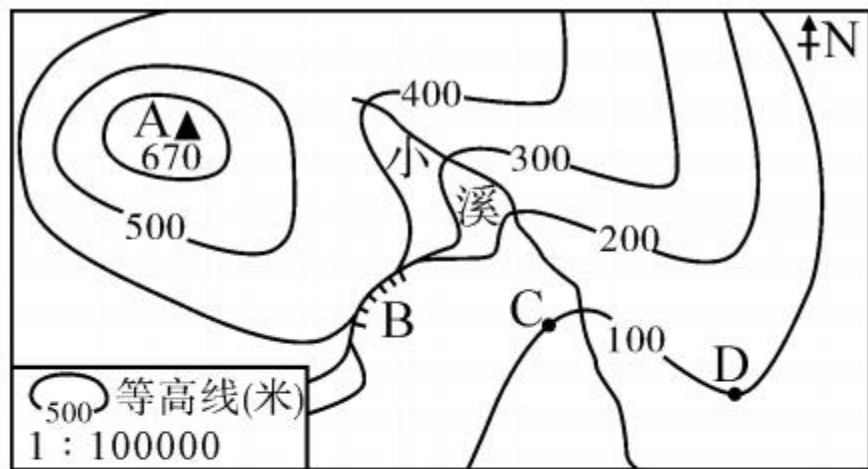
(3)从南北半球看,C 点位于\_\_\_\_\_半球;从东西半球看,D 点位于\_\_\_\_\_半球。(2 分)

(4)图中 D 点位于 B 点\_\_\_\_\_方向,C 点位于 B 点\_\_\_\_\_方向。(2 分)

(5)在图中赤道上用箭头标出地球的自转方向。(1 分)

(6)A 点和 B 点中,\_\_\_\_\_点最先迎来日出。(1 分)

27. (2017年无锡市)读“某地等高线地形图”,回答下列问题。(12分)



(1)写出图中字母代表的相应地形部位的名称。(3分)

A \_\_\_\_\_; B \_\_\_\_\_; D \_\_\_\_\_。

(2)A地与D地的相对高度约为\_\_\_\_\_米;同一时间测得A、D两地的气温相比,\_\_\_\_\_地气温更高。(2分)

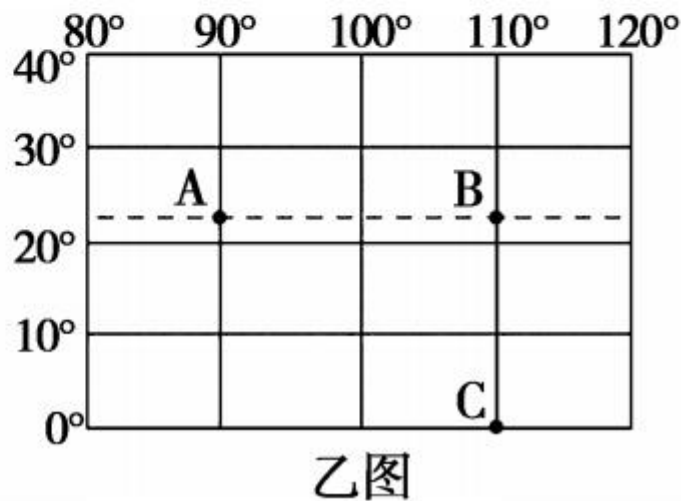
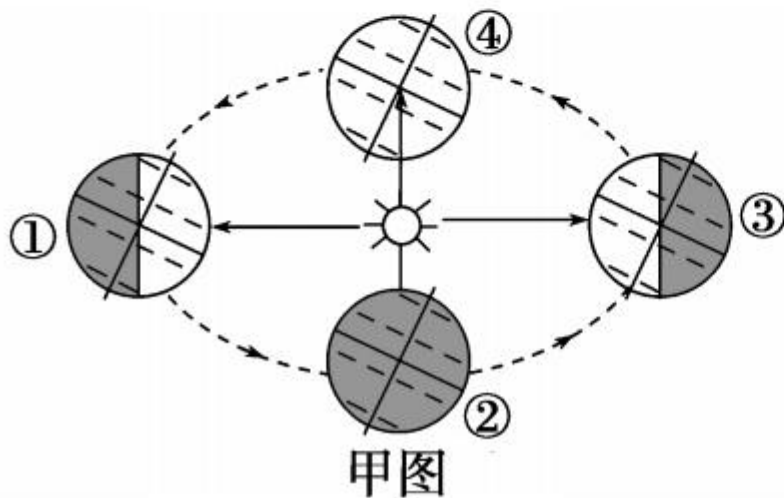
(3)C地位于D地的\_\_\_\_\_方向。若测得C、D两地图上距离约2厘米,两地实际距离是\_\_\_\_\_千米。(3分)



(4)某徒步旅行者在此山区迷路,他发现了一条如图中由\_\_\_\_\_ (方向)流向\_\_\_\_\_ (方向)的小溪,于是他沿着小溪向下游前进,摆脱了困境。请解释这种做法的合理性是\_\_\_\_\_

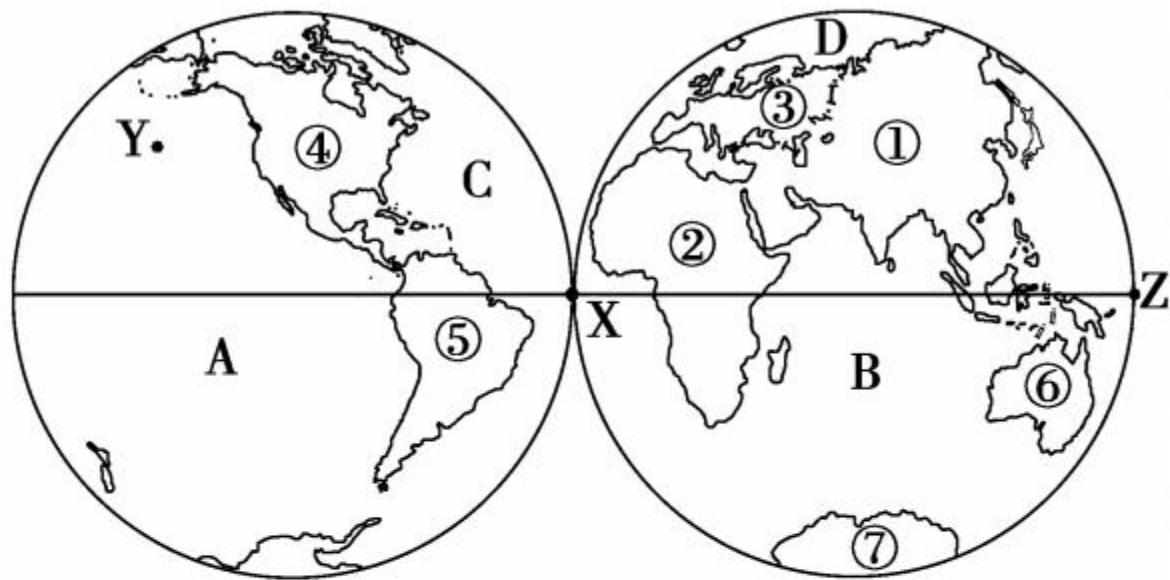
\_\_\_\_\_。(4分)

28. 读图甲“地球公转示意图”和图乙“经纬网图”,完成下列各题。(10分)



- (1)当地球位于公转轨道的③处时,太阳光直射在\_\_\_\_\_ (特殊纬线),此时北半球的节气是\_\_\_\_\_。(2分)
- (2)当太阳光直射乙图中的B点时,此时地球位于甲图中的\_\_\_\_\_处;此时,北极圈内为\_\_\_\_\_ (极昼或极夜),北京的白昼时间最\_\_\_\_\_ (长或短)。(3分)
- (3)我国国庆节这一天,地球位于公转轨道的\_\_\_\_\_ ( ) (1分)  
A. ①②之间 B. ②③之间 C. ③④之间 D. ④①之间
- (4)乙图中的A、B、C三点均位于\_\_\_\_\_ (东或西)半球。(1分)
- (5)当太阳直射乙图中的C点,且太阳直射点开始向B移动时,此时北半球的节气是\_\_\_\_\_。(1分)
- (6)乙图A、B、C三点中,一年中太阳直射两次的是\_\_\_\_\_点。(1分)
- (7)乙图中,B点在C点的\_\_\_\_\_方向。(1分)

29. 读“东西半球图”，完成下列问题。(10分)



(1) 写出图中地理事物表示的大洲或大洋的名称。(2分)

大洲④是\_\_\_\_\_洲,大洋C是\_\_\_\_\_洋。

(2) 大洲①与大洲②的分界线是\_\_\_\_\_,大洲④与大洲⑤的分界线是\_\_\_\_\_。(2分)

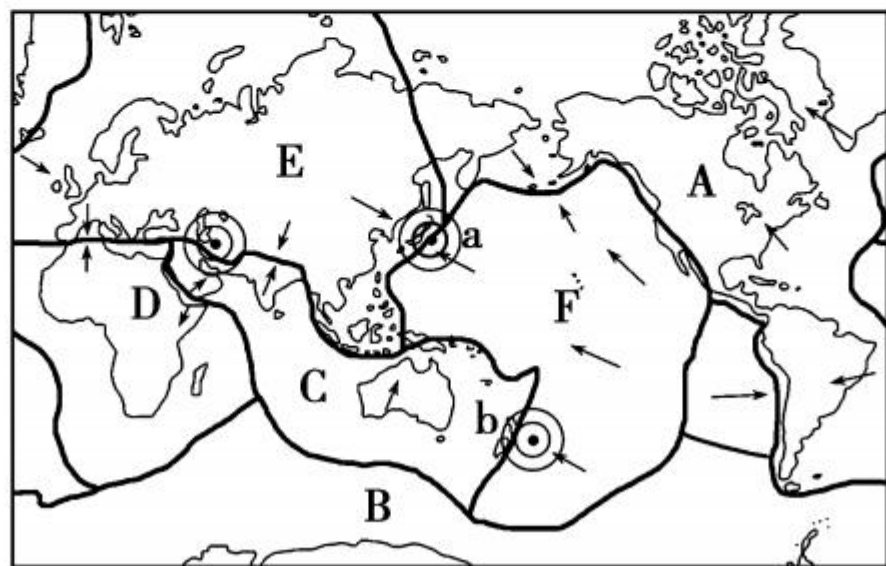
(3) 跨经度最广的大洲是\_\_\_\_\_,跨经度最广的大洋是\_\_\_\_\_。(填代号)(2分)

(4) 四大洋中,全部位于东半球的大洋是\_\_\_\_\_。(填代号)(1分)

(5) 图中 X 点的经纬度是\_\_\_\_\_, Z 点的经纬度是\_\_\_\_\_。(2分)

(6) 图中 Y 点在 Z 点的\_\_\_\_\_方向。(1分)

30. 读“六大板块示意图”,回答问题。(8分)



— 板块边界    → 板块运动方向    ⊙ 震中



(1) 板块构造学说是在德国科学家\_\_\_\_\_提出的大陆漂移说的基础上形成的。(1分)

(2) 图中 A 板块上的陆地主要属于\_\_\_\_\_洲和\_\_\_\_\_洲。(2分)

(3) F 板块以海洋为主, 主要属于\_\_\_\_\_洋。(1分)

(4) 板块 D 是\_\_\_\_\_板块, 板块 E 是\_\_\_\_\_板块。(2分)

(5) 图中 a、b 两国地震频发, 从地理位置上来看, 两国共同位于\_\_\_\_\_火山、地震带上。(1分)

(6) 根据板块运动的方向, 红海和地中海中, 面积不断扩大的是\_\_\_\_\_。(1分)