



第一章 章末综述



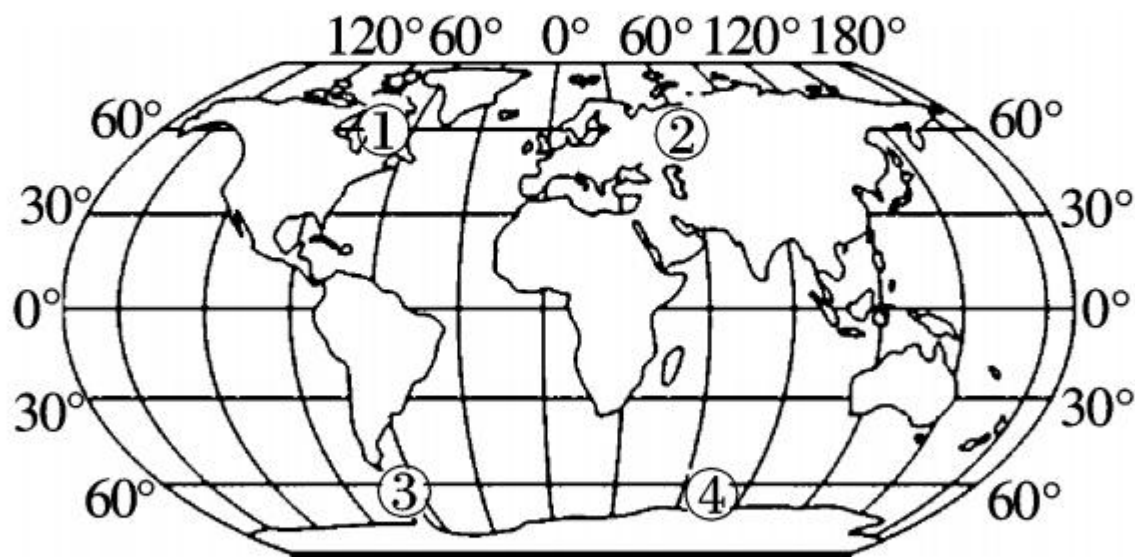
考点突破

高频考点 1 经纬网的判读及其特点的应用

【考情剖析】经纬网的特点、经纬度的划分、东西半球和南北半球的划分、高中低纬度的划分、根据经纬线定方向和依据经纬网确定位置是历次考试重点考查的内容。题型有选择题和读图分析题。

【对应训练】

(2017年内江市)一不明物体坠落在(62°N , 65°E)的地方。下图为“经纬网图”。据此完成1~3题。



1. 要寻找不明物体,应到 ()

- A. ①地 B. ②地 C. ③地 D. ④地

2. 不明物体坠落在 ()

A. 东半球、南半球 B. 东半球、北半球

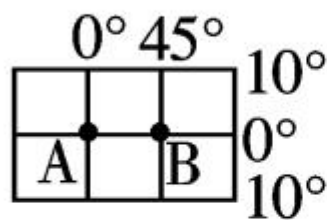
C. 西半球、南半球 D. 西半球、北半球

3. 从内江(30°N , 105°E)出发到图中四地考察, 距离最近的是 ()

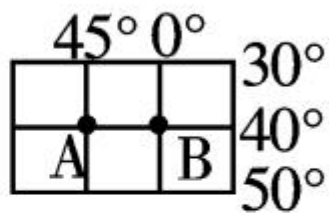
A. ①地 B. ②地 C. ③地 D. ④地

(2017年无锡市)读如下四幅经纬网图,回答4~

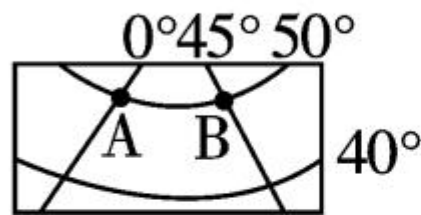
5题。



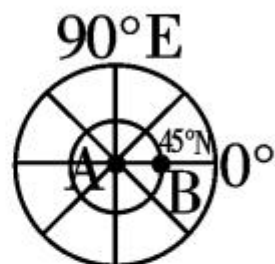
甲



乙



丙



丁

4. 四幅经纬网图中,A、B两点之间的实地距离相等的是 ()

A. 甲、乙

B. 甲、丁

C. 乙、丙

D. 丙、丁



5. 站在四幅图中的 A 点上环顾四周,只指示一个方向的是 ()

A. 甲图中的 A 点

B. 乙图中的 A 点

C. 丙图中的 A 点

D. 丁图中的 A 点

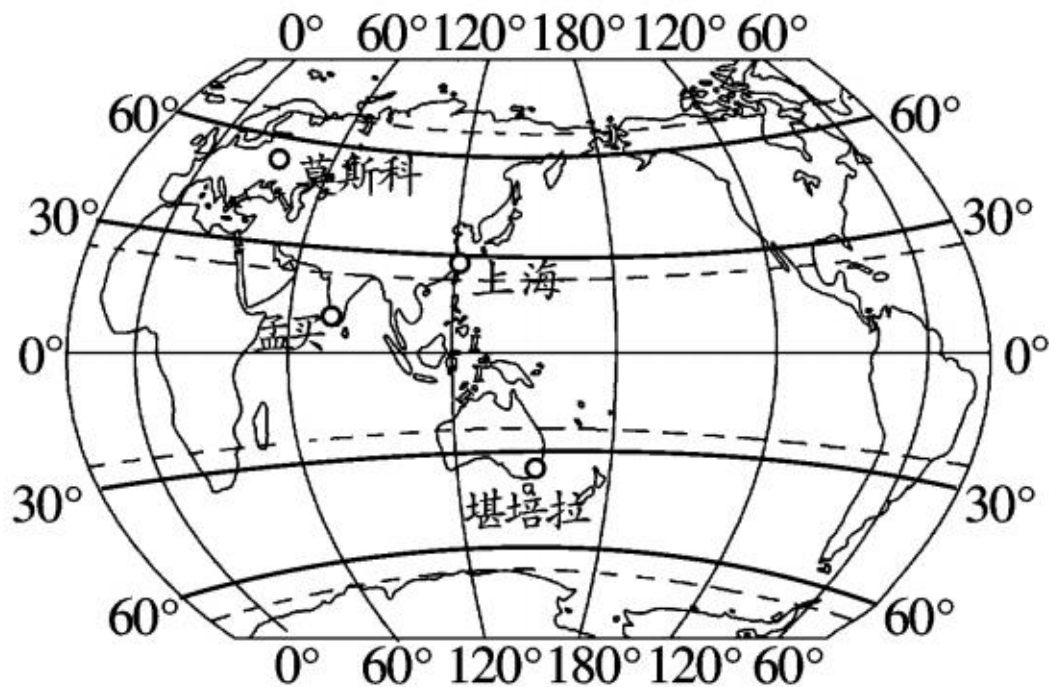


高频考点 2 地球运动及其产生的现象

【考情剖析】主要考查点有：①地球自转和公转的周期、方向；②地球自转导致的昼夜交替和时间的差异的现象；③地球公转导致的四季变化、昼夜长短变化、太阳高度的变化等现象；④地球的五带。近年来，经纬网与地球公转示意图结合成为命题趋势，常以选择题和读图分析题的形式出现。

【对应训练】

(2017年潍坊市)经纬网是我们在地球上准确定位地理事物的依据。下图是“上海、孟买、莫斯科、堪培拉四城市经纬度位置示意图”，读图完成6~7题。





6. 6月14日,四个城市中白昼时间最长的是 ()

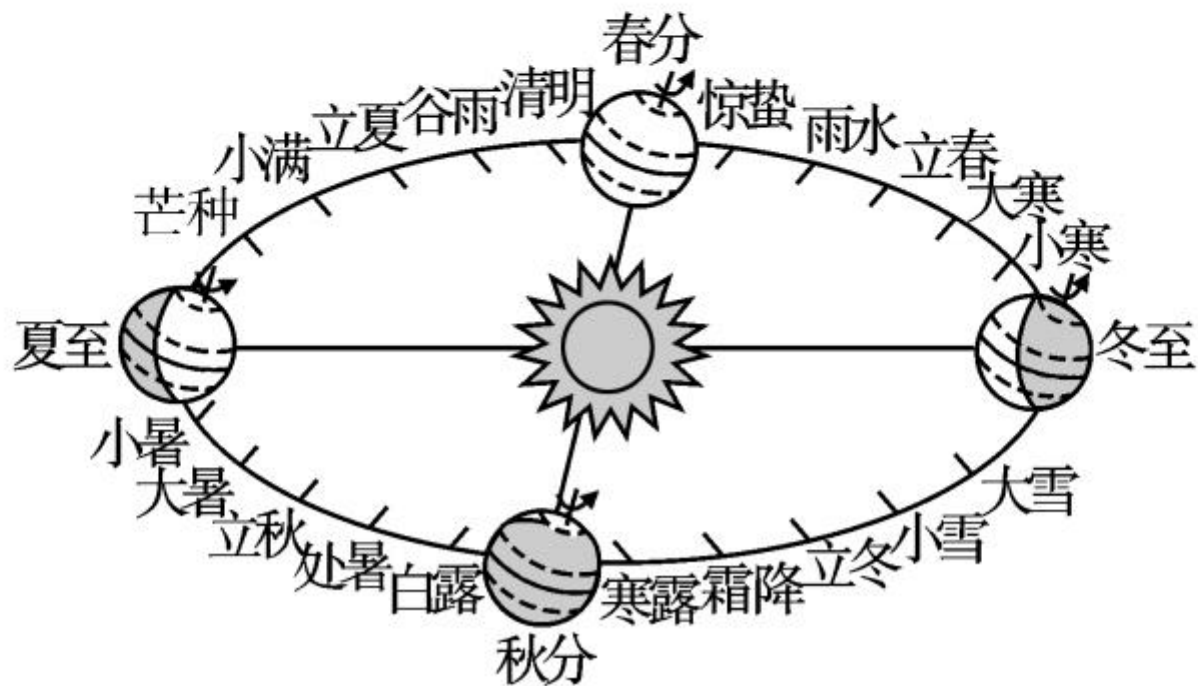
A. 上海 B. 孟买 C. 莫斯科 D. 堪培拉

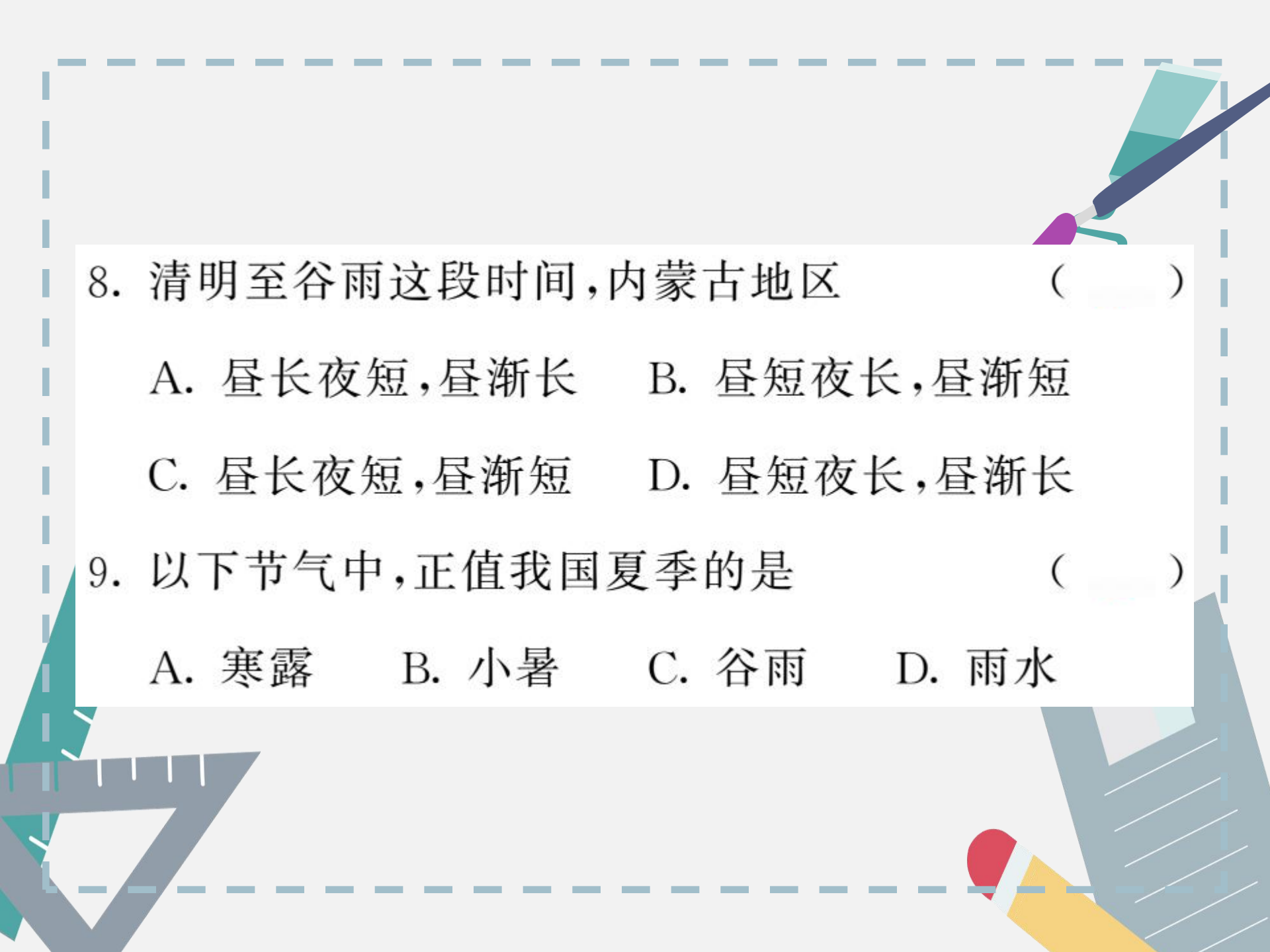
7. 四个城市中,每天最早迎来日出的是 ()

A. 上海 B. 孟买 C. 莫斯科 D. 堪培拉



(2017年包头市)中国的“二十四节气”,被列入联合国教科文组织人类非物质文化遗产代表作名录。下图为“二十四节气图”(“地球公转示意图”),读图完成8~9题。





8. 清明至谷雨这段时间,内蒙古地区 ()

A. 昼长夜短,昼渐长 B. 昼短夜长,昼渐短

C. 昼长夜短,昼渐短 D. 昼短夜长,昼渐长

9. 以下节气中,正值我国夏季的是 ()

A. 寒露 B. 小暑 C. 谷雨 D. 雨水

高频考点 3 地图的阅读

【考情剖析】主要考查点有：①计算比例尺；②在不同类型的地图上判断方向；③比例尺大小与地图内容的详略之间的关系；④根据需要选择合适的地图。在不同类型的地图上辨别方向和比例尺大小的判断是经常考查的知识点。多以选择题和读图分析题的形式出现。

【对应训练】

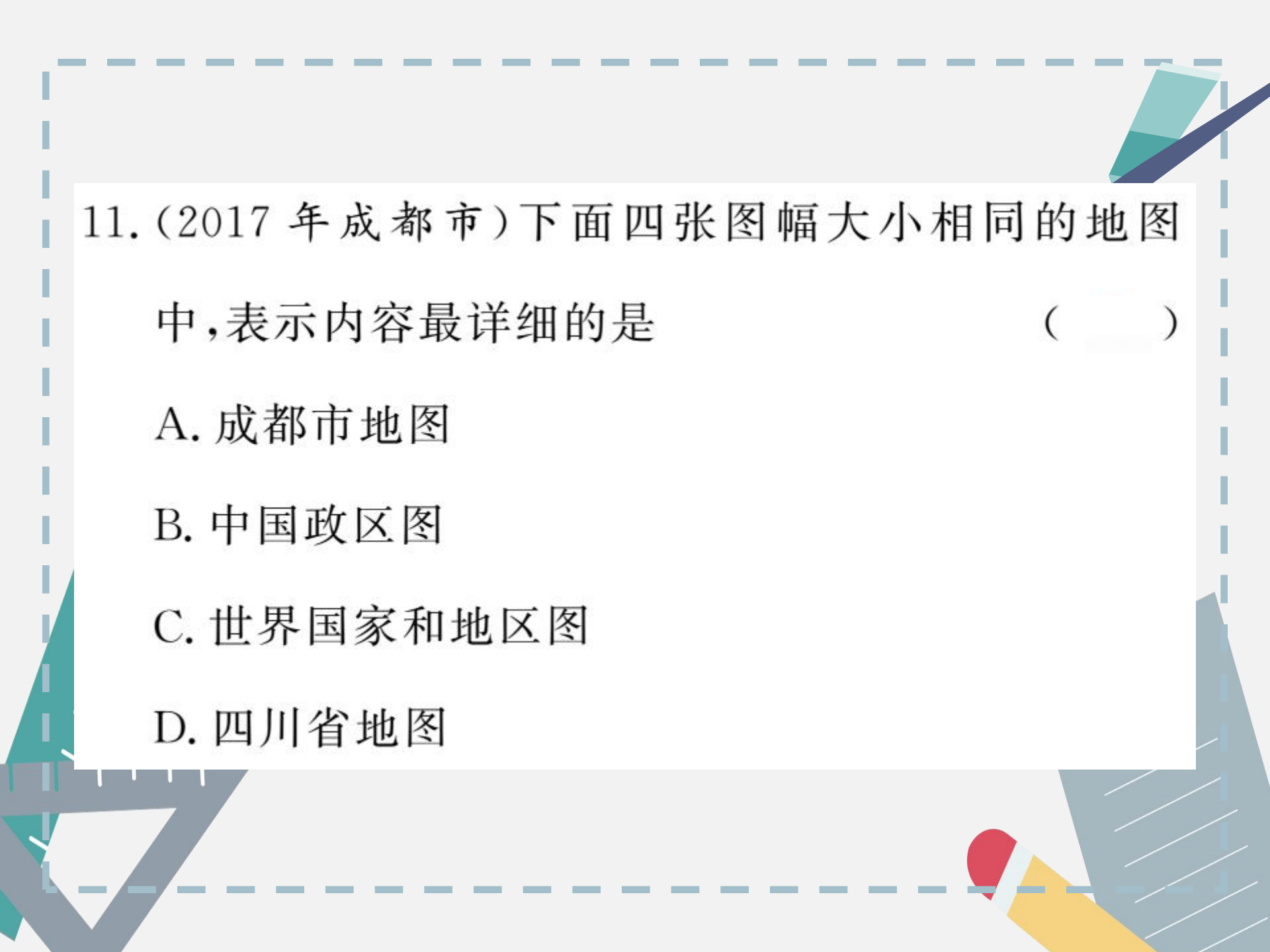
10. (2017年齐齐哈尔市)在比例尺 $1:100000$ 的地图中,量的甲乙两地的图上距离为 5 厘米,则甲乙两地的实地距离为 ()

A. 5 千米

B. 50 千米

C. 500 千米

D. 0.5 千米



11. (2017年成都市)下面四张图幅大小相同的地图中,表示内容最详细的是 ()

A. 成都市地图

B. 中国政区图

C. 世界国家和地区图

D. 四川省地图

12. (2017 年泰安市)将 $1:100000$ 的某地比例尺放大 1 倍后,制作形成一幅新图,新图与原图相比 ()

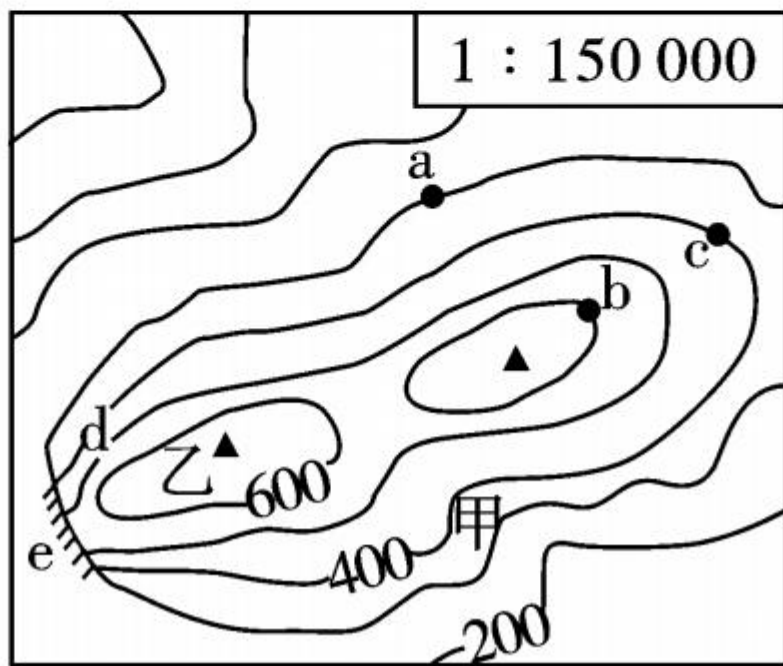
- A. 新图图幅面积是原图的 2 倍
- B. 新图表示的内容比原图简略
- C. 原图上某河流的长度为 10 厘米,新图上长 20 厘米
- D. 新图比例尺为 $1:200000$

高频考点 4 等高线地形图的判读

【考情剖析】主要的考查点有：①判读山体的部位和不同地形类型；②海拔和相对高度的计算；③等高线地形图在实际生活和生产中的应用，此时一般与地图的判读等其他的知识点相结合考查，题型多为选择题和读图分析题。

【对应训练】

(2017年无锡市)某中学地理学习夏令营到野外考察,考虑到暴雨可能引发山洪而产生危险,要求同学们不准在甲地搭帐篷宿营。读下图,回答13~14题。



13. 可能爆发山洪的甲地,其地形部位是 ()

A. 山顶 B. 鞍部 C. 山谷 D. 陡崖

14. 下列说法正确的是 ()

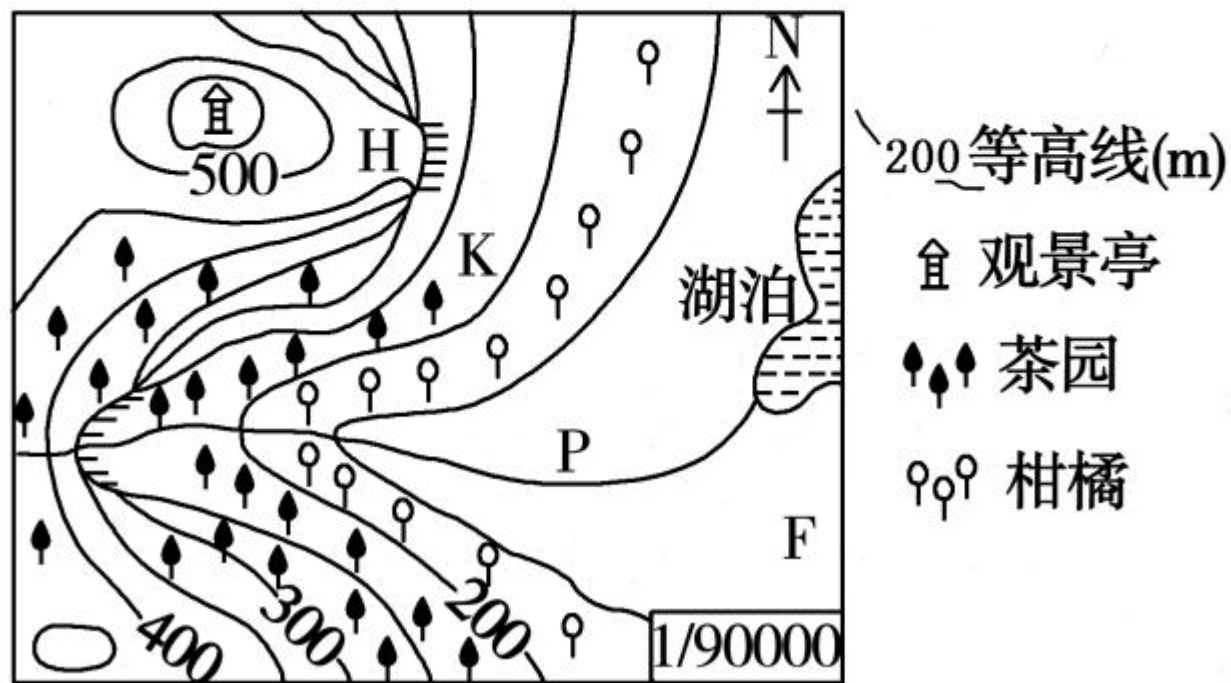
A. a、b 两地的温差约是 18°C

B. d 坡比 c 坡陡

C. 山顶乙的海拔高度是 800 米

D. c 处的地形部位是山谷

(2017年孝感市)下图为“我国某地等高线示意图”。读图,完成15~17题。





15. 图示区域最可能为我国的 ()

A. 青藏高原

B. 东南丘陵

C. 东北平原

D. 塔里木盆地

16. F 处地形为 ()

A. 平原

B. 高原

C. 山地

D. 丘陵



17. 关于图中说法正确的是

()

A. H 处可仰望飞瀑

B. F 处较 K 处更陡

C. P 处河流自东向西流

D. 观景亭海拔在 550 米以上