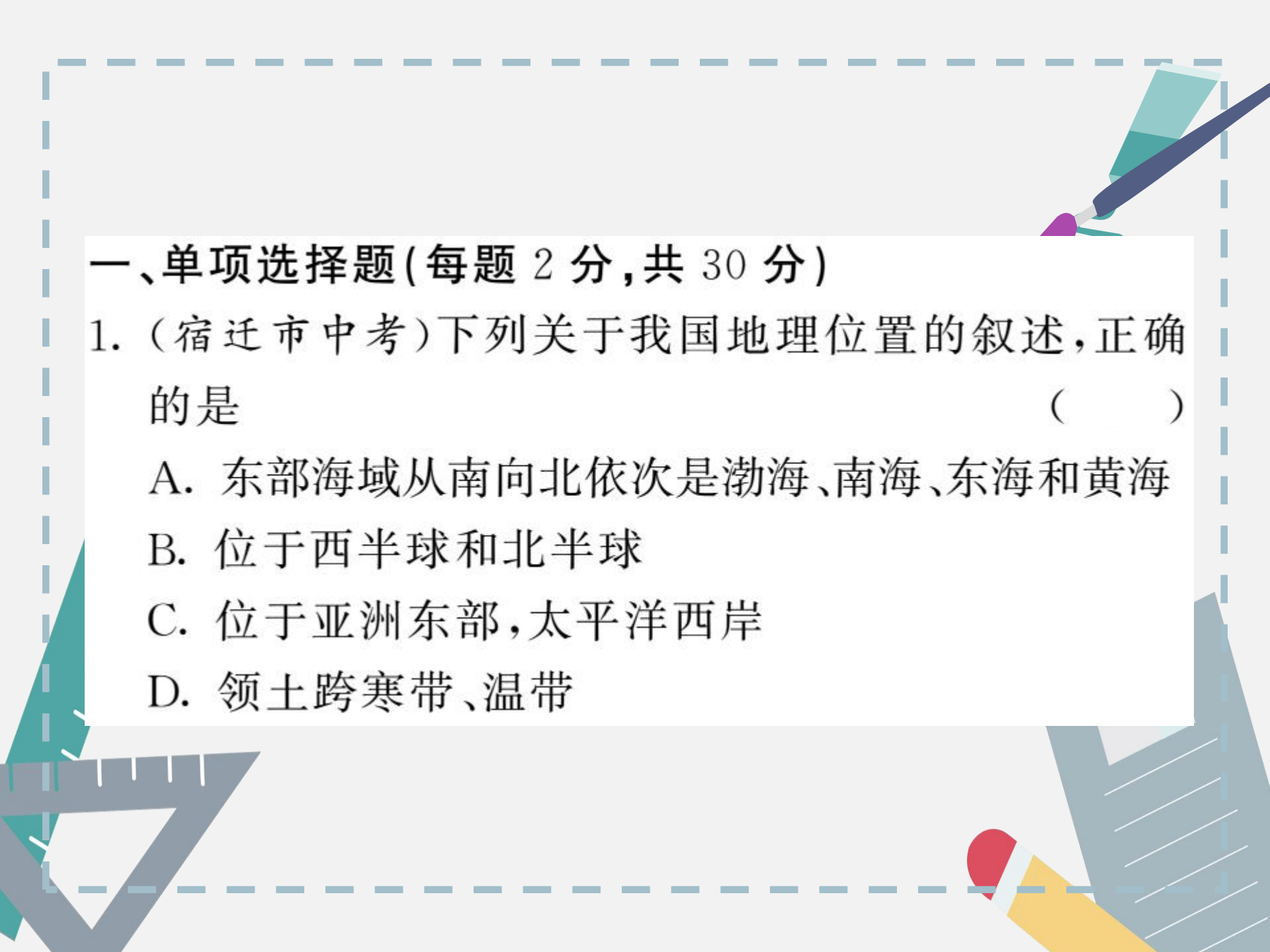




期末复习两周通

第一章 章末过关自测

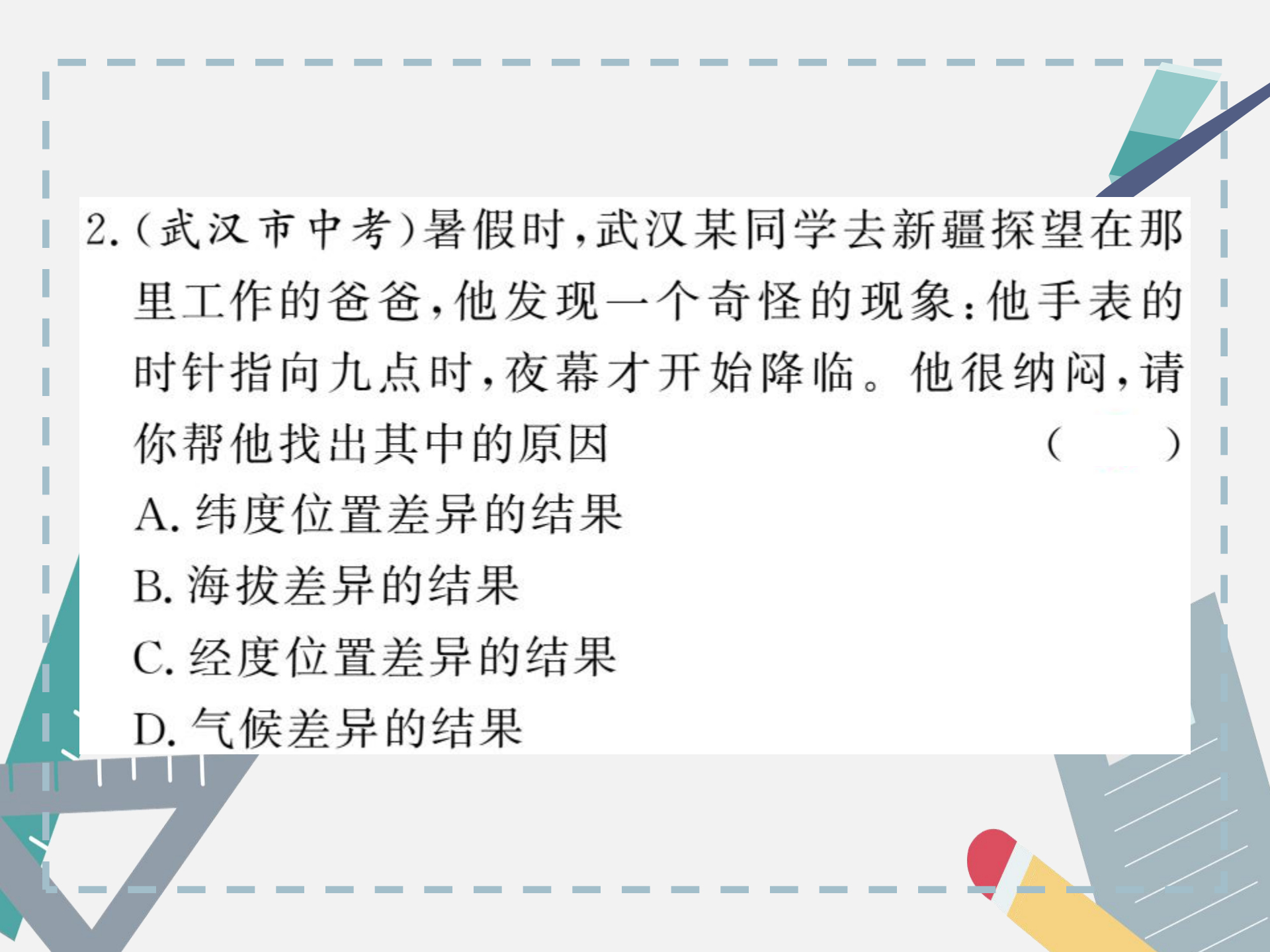




一、单项选择题(每题 2 分,共 30 分)

1. (宿迁市中考)下列关于我国地理位置的叙述,正确的是 ()

- A. 东部海域从南向北依次是渤海、南海、东海和黄海
- B. 位于西半球和北半球
- C. 位于亚洲东部,太平洋西岸
- D. 领土跨寒带、温带



2. (武汉市中考)暑假时,武汉某同学去新疆探望在那里工作的爸爸,他发现一个奇怪的现象:他手表的时针指向九点时,夜幕才开始降临。他很纳闷,请你帮他找出其中的原因 ()

- A. 纬度位置差异的结果
- B. 海拔差异的结果
- C. 经度位置差异的结果
- D. 气候差异的结果

3. 我国疆域辽阔,下列有关我国领土四至点的说法正确的是 ()

A. 我国领土最南端长夏无冬

B. 我国领土最东端在东海的钓鱼岛

C. 我国领土最北端有极昼现象

D. 我国领土最西端号称“世界屋脊”

4. 下列国家中,不属于与我国隔海相望的一组有 ()

A. 印度、泰国、老挝

B. 马来西亚、朝鲜、韩国

C. 日本、朝鲜、印度尼西亚

D. 马来西亚、菲律宾、日本

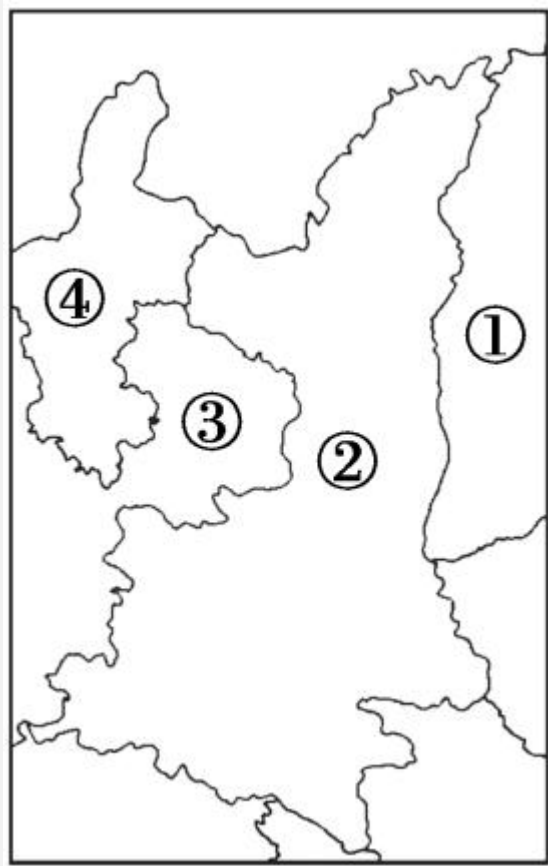
(聊城市中考)下图是“我国部分省级行政区域单位轮廓图”，读图完成5—6题。

5. 图中序号代表的省级行政区域单位与其简称、省会对应正确的一组是 ()

- A. ①—秦—太原
- B. ②—晋—西安
- C. ③—陇—兰州
- D. ④—宁—西宁

6. 四个省级行政区域单位中,少数民族分布最为集中的是 ()

- A. ①
- B. ②
- C. ③
- D. ④



生活中我们接触到很多的事物，它们蕴含着丰富的地理信息。读下面甲、乙、丙、丁四幅汽车牌照图，回答7—8题。

琼 AM7751

甲

鲁 BX5291

乙

桂 B5D077

丙

闽 GWA936

丁

7. 上面四幅汽车牌照属地中，纬度最低的是 ()
- A. 甲 B. 乙 C. 丙 D. 丁

8. 关于上面四幅汽车牌照属地所在省(区)的行政中心,正确的是 ()

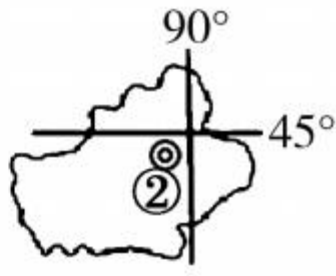
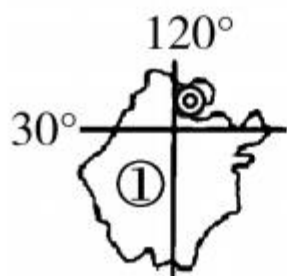
A. 甲—长沙

B. 乙—济南

C. 丙—贵阳

D. 丁—杭州

9. 读中国部分省级行政区域轮廓图,有我国人数最多的少数民族聚居,且濒临海洋的是 ()



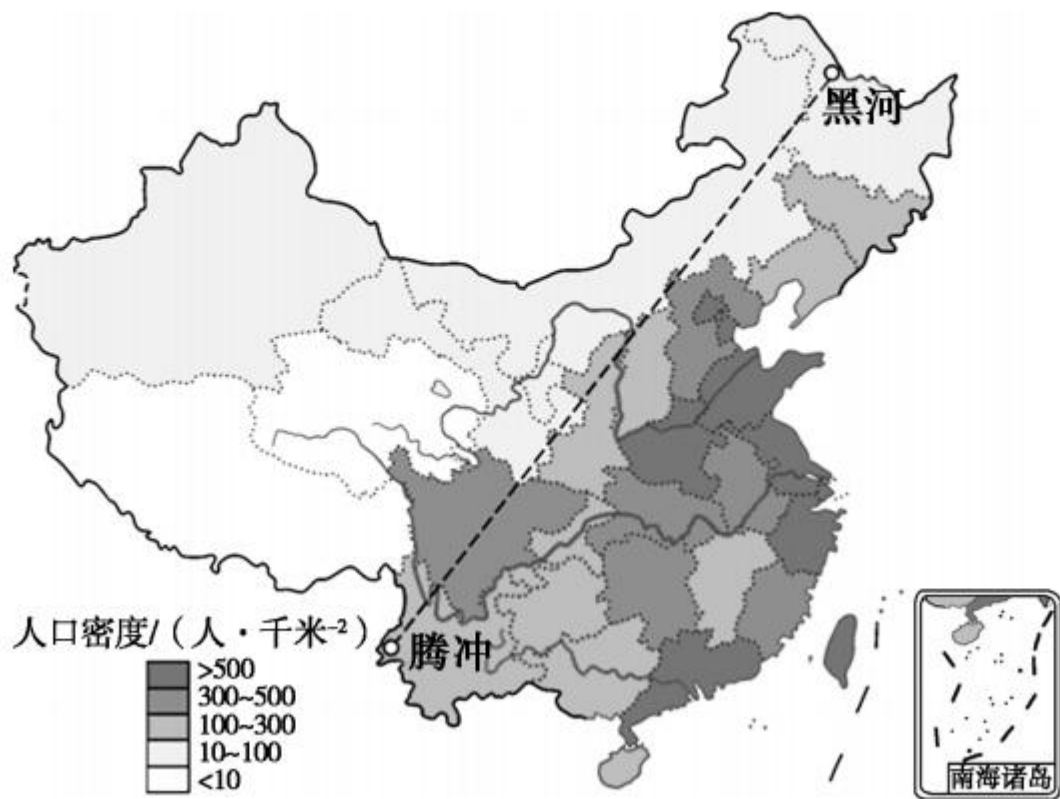
A. ①

B. ②

C. ③

D. ④

(陕西省中考)读“中国人口分布图”,完成 10—11 题。



10. 关于中国人口分布描述正确的是 ()

A. 我国人口分布整体特点是东密西疏

B. 内蒙古自治区人口密度大于山东省

C. 华北平原人口密度相对较小

D. 青藏高原地区人口密度相对较大

11. 下列叙述不符合我国人口国情的是 ()

A. 人口基数大, 每年净增人口数量仍较大

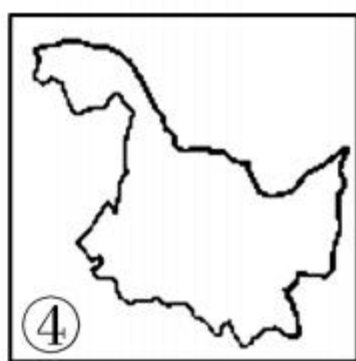
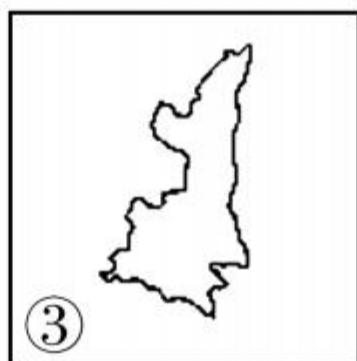
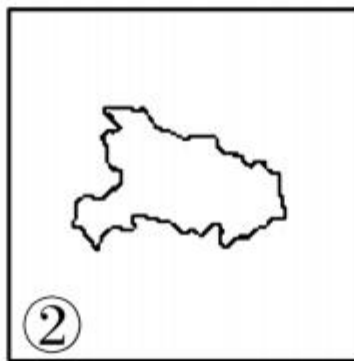
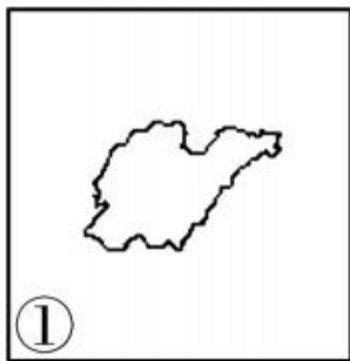
B. 老龄人口比例不断升高, 养老负担日益增大

C. 实行计划生育是我国一项基本国策

D. 人口已全面进入负增长时代, 人口数量不断减少

12. 读我国四省区轮廓图,分析以下说法正确的是

()



- A. ①省区行政中心是沈阳
- B. ②省区位于我国最西端
- C. ③省区是我国面积最大的省区
- D. ④省区的简称是黑

13. 下列四组省级行政区域中,人口密度最大的一组是 ()

A. 苏、鲁、沪

B. 辽、吉、黑

C. 黔、滇、桂

D. 甘、青、宁

14. (滨州市中考)我国是一个多民族的大家庭,民族文化丰富多彩。下图中信息搭配正确的是 ()



①



②




③

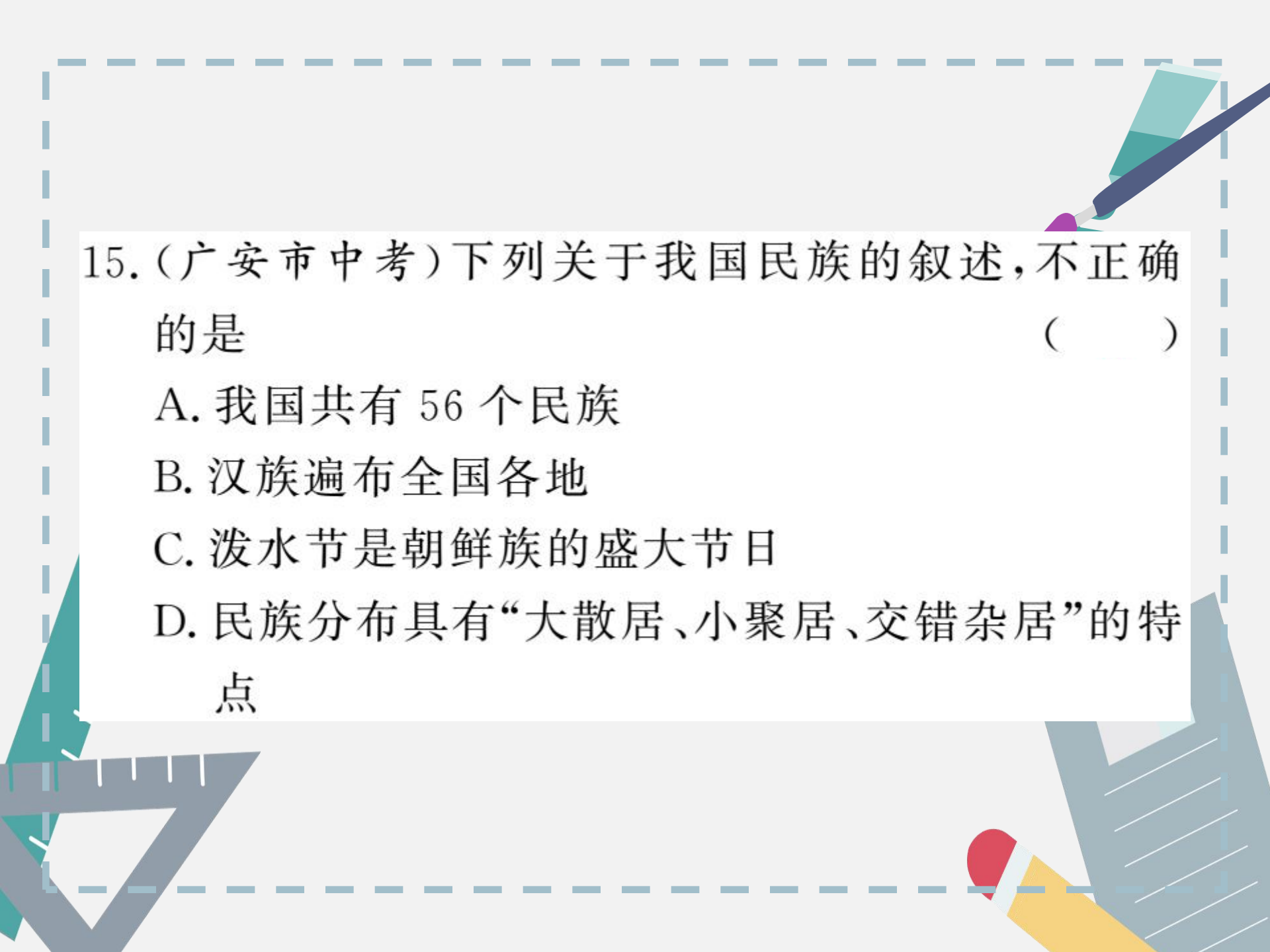


④



- A. ①—维吾尔族—住窑洞,唱信天游
- B. ②—朝鲜族—跳孔雀舞,吃竹筒饭
- C. ③—蒙古族—参加那达慕大会,骑马、摔跤
- D. ④—苗族—气候炎热,喜欢跳板





15. (广安市中考) 下列关于我国民族的叙述, 不正确的是 ()

A. 我国共有 56 个民族

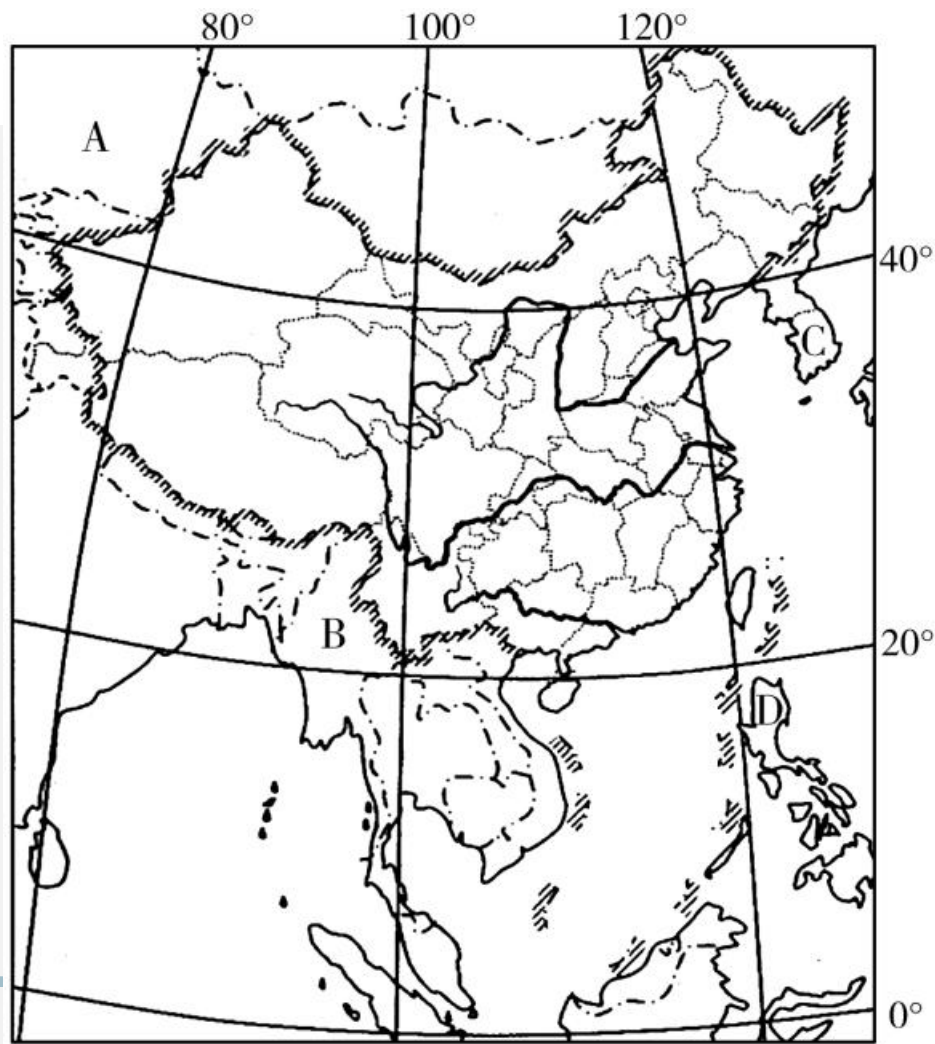
B. 汉族遍布全国各地

C. 泼水节是朝鲜族的盛大节日

D. 民族分布具有“大散居、小聚居、交错杂居”的特点

二、综合题(共 20 分)

16. (成都市中考)下图为“我国政区图”,读图回答下列问题。(12分)



(1)从海陆位置看,我国位于_____洲东部,_____洋西岸,陆地领土面积约为_____平方千米,是一个海陆兼备的国家。(3分)

(2)写出图中字母表示的我国陆上相邻或隔海相望的国家名称。(2分)

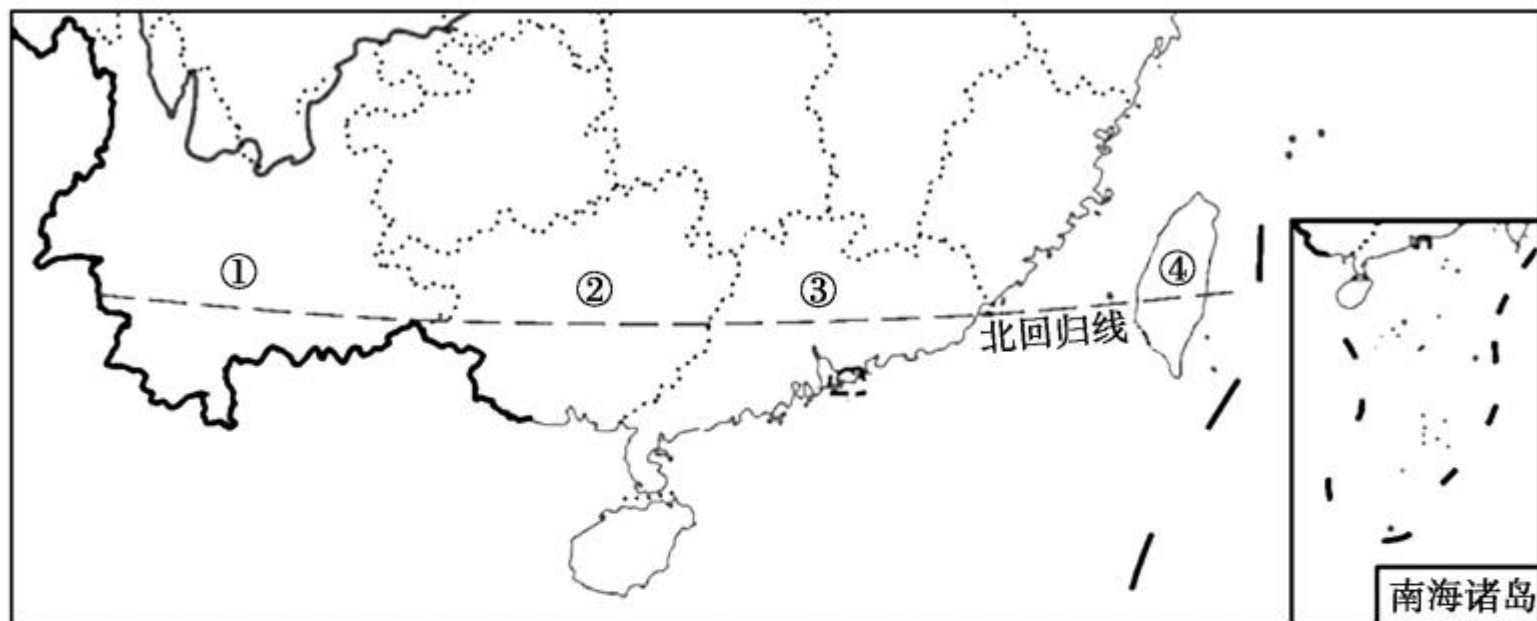
A _____; B _____; C _____;
D _____。

(3)从图上看,位于我国最东边的省(区)是_____;与台湾隔海相望的省(区)是_____省。(2分)

(4) 黄河在 _____ (省) 流入我国的渤海; 珠江在广东省流入 _____ 海。(2分)

(5) 继 2008 年成功举办夏季奥运会后, 2015 年 7 月 31 日, 北京再次获得 2022 年第 24 届冬奥会主办权, 将成为第一个举办冬、夏两季奥运会的城市。请简要列举冬奥会的举办对北京有哪些积极的影响。(至少答三点)(3分)

17. 读图,完成下列各题。(8分)



(1)图中四省区中,人口密度较大的两个省区是 _____;少数民族分布数量最多的 _____;既有陆上国界线,又有海岸线的是 _____。(填序号)(3分)

(2) 下列少数民族及其主要分布, 正确的是

() (1分)

A. 壮族——①

B. 傣族——②

C. 回族——③

D. 高山族——④

(3) 图中③省的人口主要分布在_____

_____, 其主要原因是_____

_____。(2分)

(4) 改革开放以后, ③省的人口数量增长迅速, 其

主要原因是_____

_____。(2分)



