
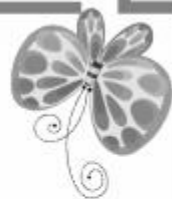




八年级地理·上册



期中综合测试卷


(时间：60分钟 分数：100分)



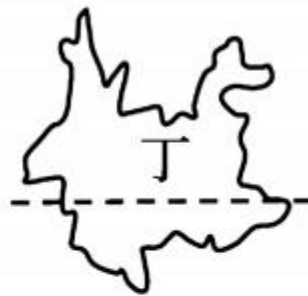


一、单项选择题(25 小题,每小题 2 分,共 50 分)

1. (凉山州中考)下列关于我国地理位置的叙述,正确的是 ()
- ①位于东半球和北半球 ②西临大西洋 ③位于亚洲东部和太平洋西岸 ④横跨亚欧大陆北部
- A. ①② B. ①③ C. ②③ D. ③④
2. (海南省中考)我国西沙群岛、中沙群岛、南沙群岛所在的海域是 ()
- A. 东海 B. 南海 C. 黄海 D. 渤海



(衡阳市中考)下图为我国四省区轮廓图。读图完成 3—4 题。



3. 下列省区简称和行政中心对应正确的是 ()

A. 甲——黑——长春

B. 乙——豫——济南

C. 丙——粤——郑州

D. 丁——云——昆明

4. 可大面积种植甘蔗的省份是 ()

A. 甲省和乙省

B. 乙省和丙省

C. 丙省和丁省

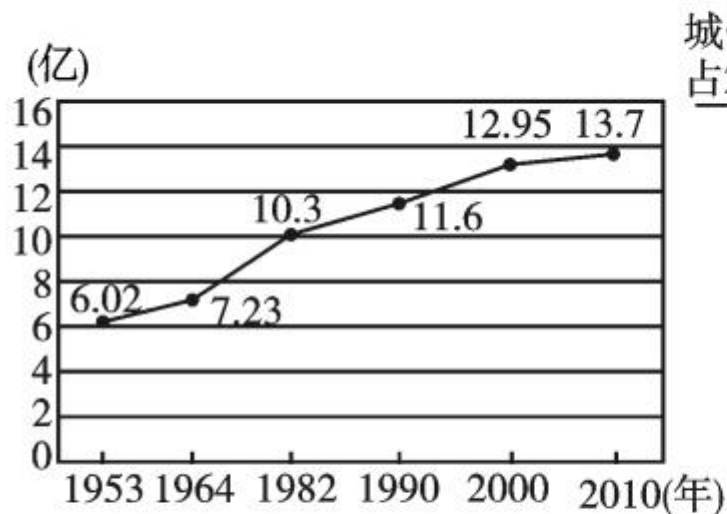
D. 甲省和丁省

(海南省中考)读“中国部分省区轮廓图”,完成5—7题。




5. 甲、乙、丙、丁所在的省区与其简称及行政中心的连线,正确的是
- | | |
|-------------|-----------------|
| A. 甲——晋——太原 | B. 乙——冀——济南 () |
| C. 丙——湘——长沙 | D. 丁——陕——西安 |
6. 某旅行团计划参观三峡水利枢纽工程,应前往 ()
- | | | | |
|------|------|------|------|
| A. 甲 | B. 乙 | C. 丙 | D. 丁 |
|------|------|------|------|
7. 甲、乙两省生态环境脆弱,面临的主要问题是 ()
- | | |
|------------|-----------|
| A. 常受台风影响 | B. 气候过于炎热 |
| C. 高寒缺氧多冻土 | D. 水土流失严重 |

(海南省中考)我国是世界第一人口大国,根据图中的数据分析,完成8—9题。



中国人口增长曲线图



中国城镇人口与农村人口比例

8. 对图中数据分析正确的是

- A. 人口增长呈直线上升
- C. 城镇人口比重上升

- B. 人口总数迅速减少
- D. 农村人口比重上升

()

9. 人口的增长应该与

()

- A. 社会经济发展和资源环境相适应
- B. 居民的传统生育观念相适应
- C. 国民人均收入水平相致
- D. 发展中国家的高增长率相一致

10. (凉山州中考改编)下列关于我国人口与民族的叙述,不正确的是

()

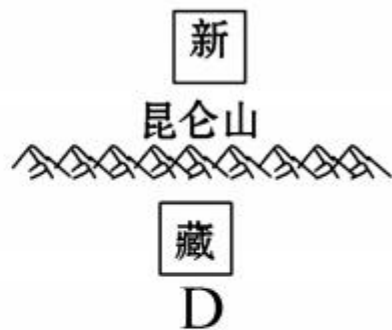
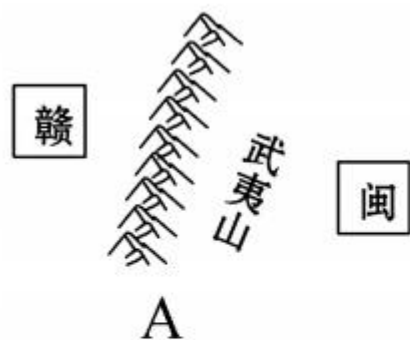
- A. 是世界上人口最多的国家
- B. 人口分布不均,东南部人口稀疏,西北部人口稠密
- C. 民族分布具有“大散居、小聚居、交错杂居”的特点
- D. 我国傣族的传统节日有“泼水节”

11. (昆明市中考) 下图为我国某地区民居图及少数民族舞蹈邮票, 下列判断错误的是 ()



- A. 从民居形式分析, 该地区气候湿热
- B. 从舞蹈、服饰分析, 该少数民族为傣族
- C. 该少数民族的传统节日为雪顿节
- D. 该少数民族主要分布于我国的云南省

12. 下列山脉两侧的省级行政单位, 不正确的是 ()



13. 下列关于我国干湿地区的说法, 正确的是 ()

A. 干湿地区划分的依据是降水量的多少

B. 长江三角洲是半湿润区

C. 东北三省全部位于半湿润区

D. 秦岭—淮河一线是湿润区和半湿润区的分界线

14. (海南省中考)海南建设全国南繁育制种基地的优势条件是 ()

A. 位于热带地区

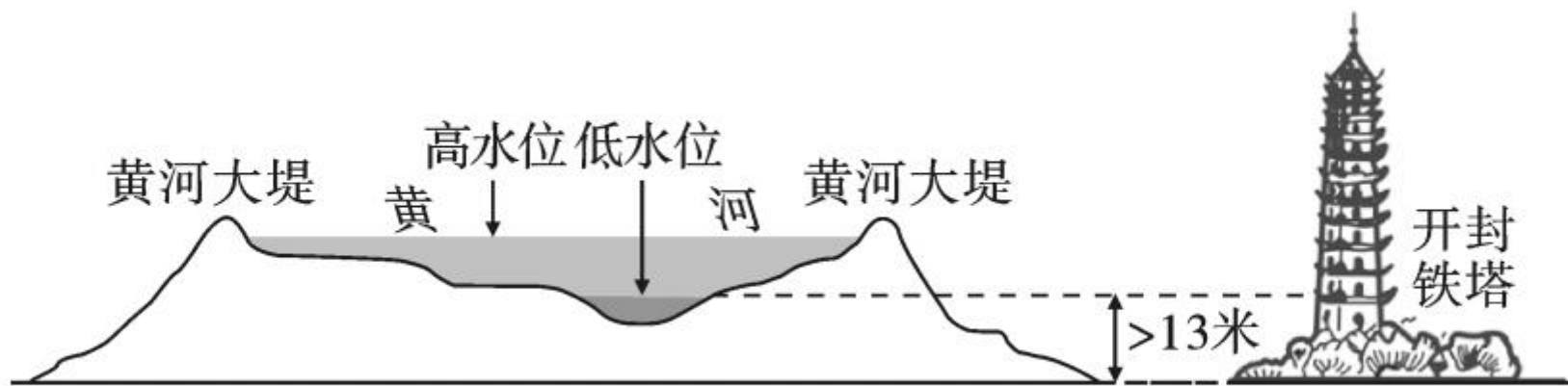
B. 耕地面积广

C. 农耕技术水平高

D. 粮食消耗量大

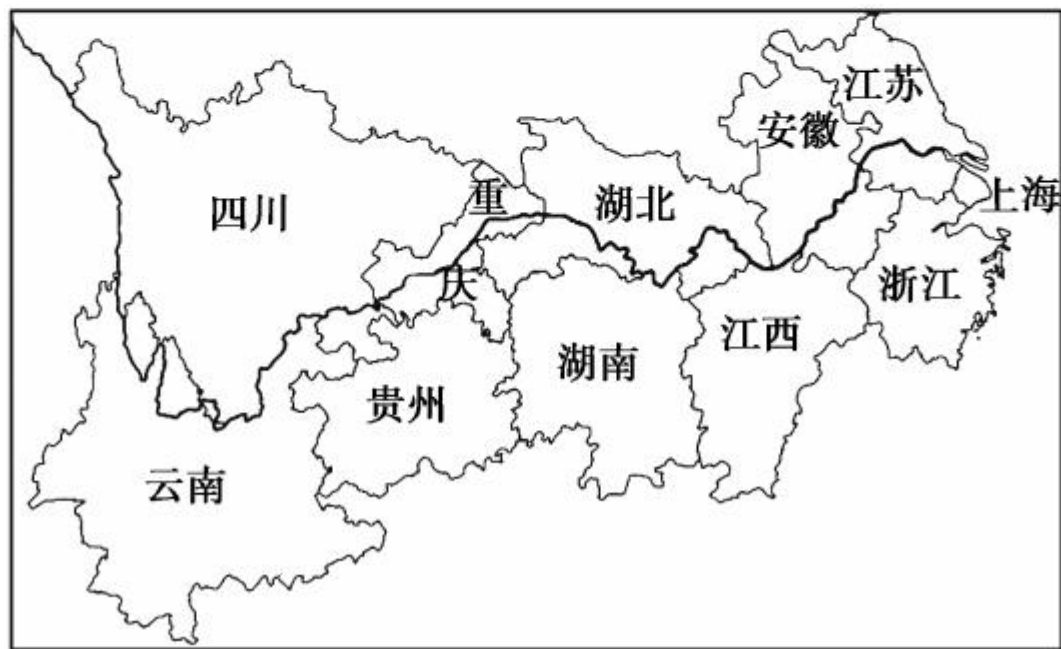
15. (龙东地区中考)不同的温度带出产的水果有所不同,下列出产于我国暖温带的水果是 ()
A. 椰子、香蕉 B. 榴莲、芒果 C. 梨、苹果 D. 香蕉、柑橘
16. (长沙市中考)“才从塞北踏冰雪,又向江南看杏花”反映的气候影响因素是 ()
A. 海陆位置 B. 纬度位置 C. 地形地势 D. 人类活动
17. (湘潭市中考)“共享单车”“共享雨伞”已成为城市居民一种新的生活方式。从气候角度看,下列城市“共享雨伞”使用率最高的是 ()
A. 乌鲁木齐 B. 西宁 C. 哈尔滨 D. 长沙
18. 下列关于我国河流叙述正确的是 ()
A. 我国河流大多自西向东注入太平洋,如黄河、长江、雅鲁藏布江
B. 西北地区的河流流量小、汛期短,全部属于内流河
C. 长江中下游河段水能资源丰富,有“黄金水道”之称
D. 黄河下游河段可以看到“人在地上走,船在天上行”的景观

19. (北部湾经济区中考)读“黄河‘地上河’示意图”,对“地上河”的治理与开发,下列措施符合可持续发展的是 ()



- A. 继续加高加固河堤
- B. 抽取河沙,疏通河道
- C. 开挖河堤,引流改道
- D. 在中上游植树种草,保持水土

(永州市中考)长江经济带包括11个省(市)。2018年11月,中共中央、国务院明确要求长江经济带要以“共抓大保护,不搞大开发”为导向,以“生态优先,绿色发展”为引领,依托长江黄金水道,推动长江上中下游地区协调发展和沿江地区高质量发展。读图,回答20—22题。



20. 下列省(市)与其行政中心及简称匹配正确的是 ()

- A. 四川省——昆明、川 B. 湖北省——武汉、鄂
C. 安徽省——南昌、皖 D. 重庆市——成都、沪


21. 有关长江的说法,正确的是 ()

- A. 发源于青藏高原,注入渤海
B. 宜宾与城陵矶是长江上、中、下游的划分地点
C. 与黄河相比,长江的汛期更长,含沙量更大
D. 因通航里程长,货运量大而被称为“黄金水道”

22. 推动长江经济带协调发展是建设美丽中国的需要。下列措施中不符合生态优先、绿色发展理念的是 ()

- ①在上游进行水电梯级开发,增加能源供应 ②在中游进行围湖造田,扩大粮食种植面积
③在长江流域大力推行“河长制”,让“绿水青山就是金山银山”的理念深入人心 ④建立跨省区的国家级森林保护区或珍稀水生动物保护区

- A. ①② B. ②③ C. ②④ D. ③④



23. (襄阳市中考)下列关于长江、黄河的说法,正确的一组是 ()

①长江汛期的持续时间长于黄河 ②黄河中游易产生水土流失和凌汛现象 ③长江荆江河段的治理措施主要是在下游地区加强水土保持 ④三峡水利枢纽具有防洪、发电、供水等综合效益 ⑤长江、黄河共同发源于青藏高原

A. ②③⑤

B. ①②⑤

C. ②③④

D. ①④⑤

24. 下列我国各省与其易发自然灾害组合正确的是 ()

A. 新——洪涝

B. 台——地震

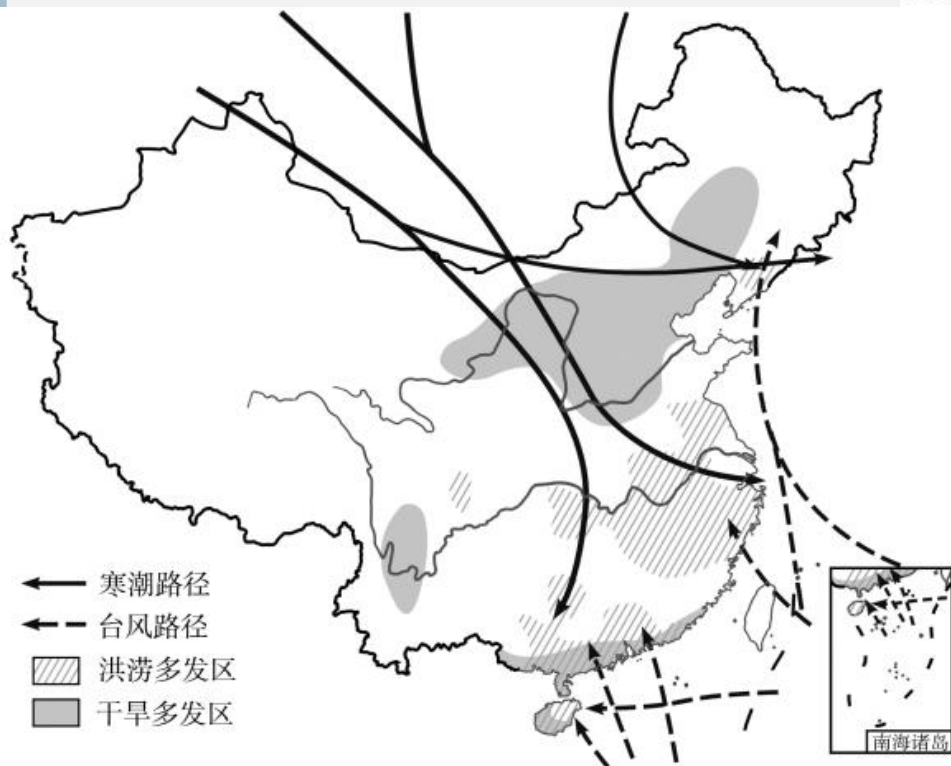
C. 内蒙古——泥石流

D. 川——雪灾



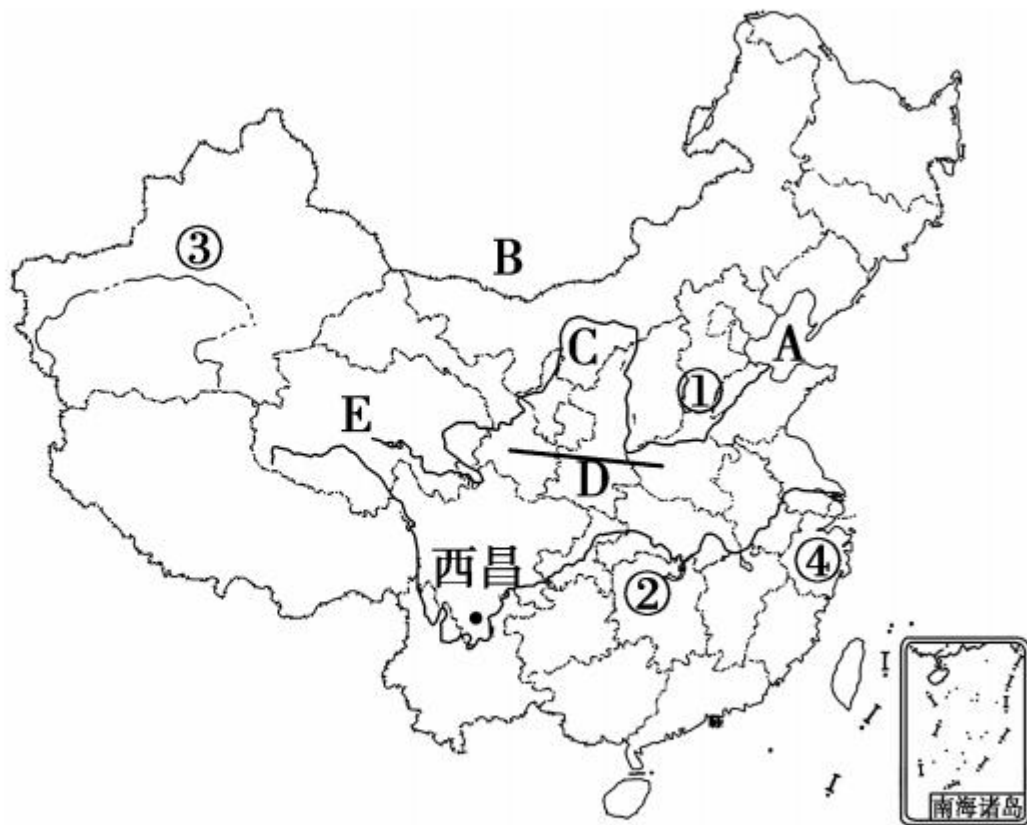
25. (东营市中考)我国是世界上自然灾害发生最为频繁的国家之一。读“中国主要气象灾害分布图”,下列说法正确的是 ()

- A. 全国各地普遍受到寒潮侵袭
- B. 台风只影响我国东南沿海地区
- C. 西北地区干旱灾害最为严重
- D. 长江中下游地区洪涝灾害频繁




二、综合题(共 50 分)

26. 读“中国略图”,回答下列问题。(13 分)



(1) 写出字母所代表的近海、邻国名称。(2 分)

内海 A _____, 邻国 B _____。



(2) 写出字母所代表的河流、山脉名称。(2分)

河流 C _____, 山脉 D _____。

(3) ①、②两地区中, 年降水量较少的是 _____ 地区; ③、④两地区中, 人口密度较小的是 _____ 地区。(2分)


(4) 西昌是我国卫星发射中心, 西昌位于 _____ 省, 该省简称为 _____。(2分)

(5) E 省所在的地形区是 _____, 该省的主要少数民族是 _____。(2分)

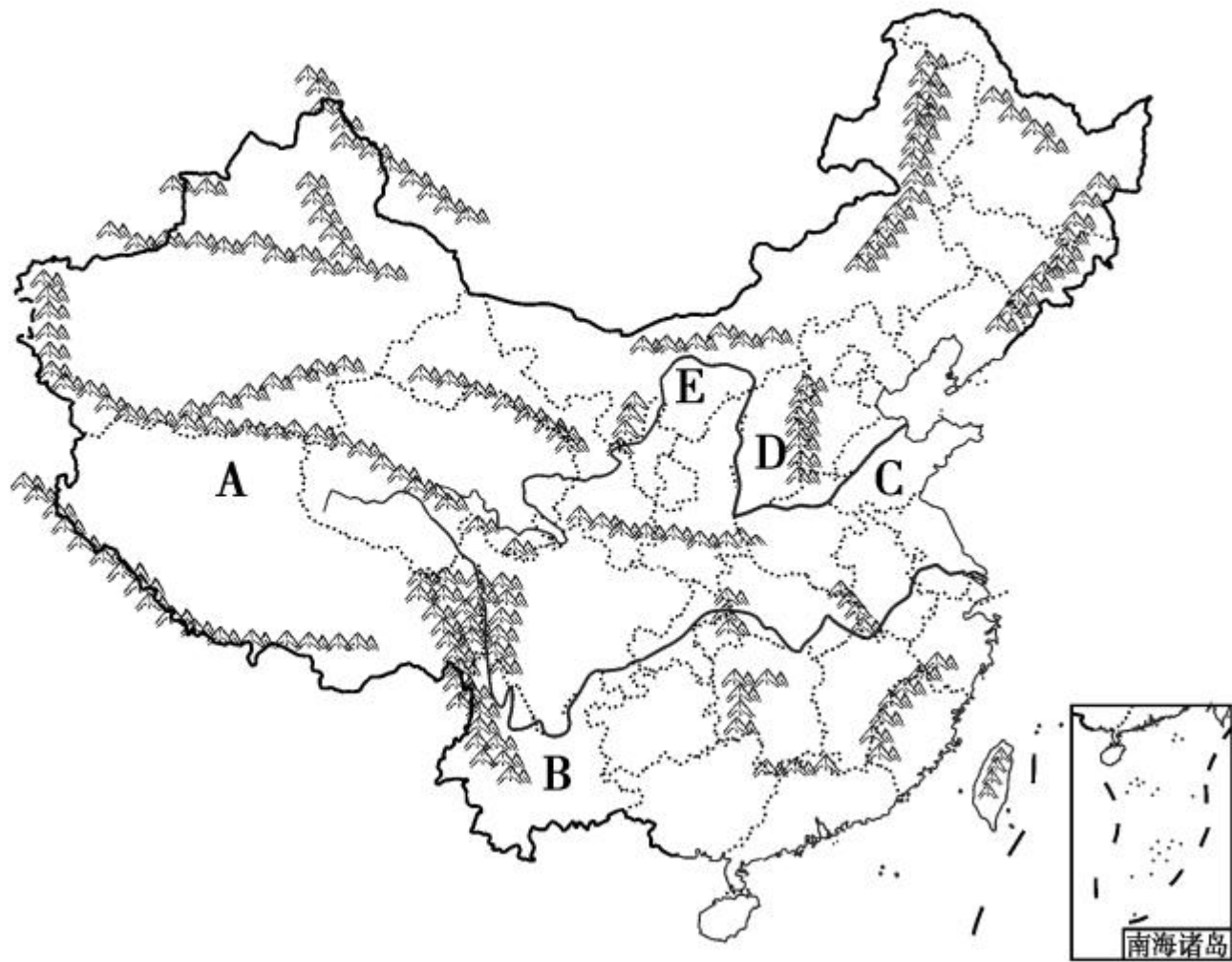
(6) ③地有我国最长的内流河, 该河流是 _____。(1分)

(7) 西昌卫星发射中心的气候类型是 _____。(1分)

(8) ②地所处的温度带是 _____。(1分)



27. (大庆市中考)读图,回答下列问题。(10分)



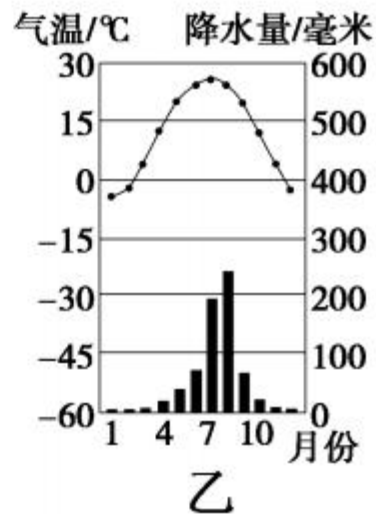
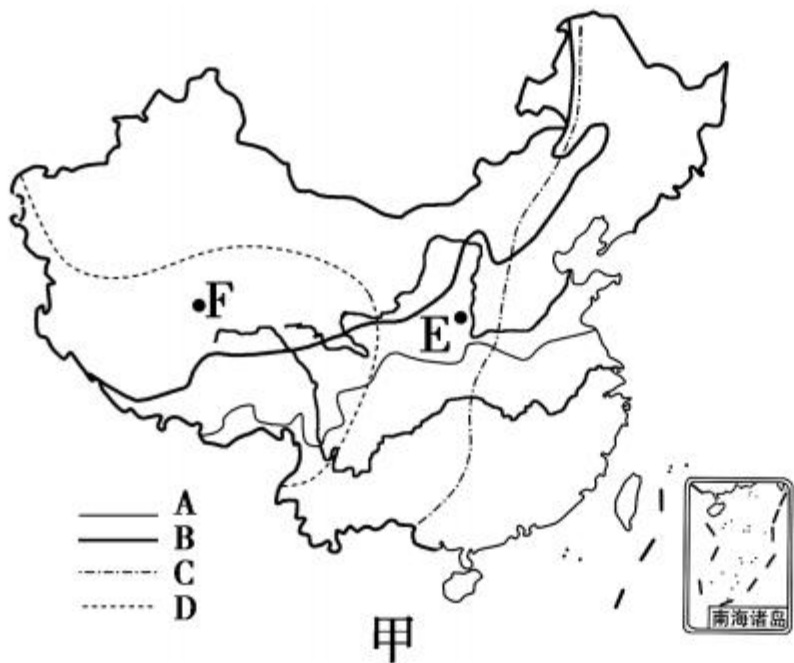
(1)仔细观察 A、B、C 三个省级行政区的轮廓及位置完成填空。(3分)

A _____ (行政中心), B _____ (全称), C _____ (简称)。

(2)D _____ 山脉,此山脉东侧的地形区是 _____ 平原。(2分)

(3)E _____ (河流)干流像一个巨大的“几”字。发源于 _____ 高原,曲折东流,流入 _____ 海。该河上游多在高山、高原的峡谷中穿行,落差大,蕴藏着丰富的 _____ 资源,我国已陆续建成了多座大型的水电站;下游进入平原地区,河道变宽,河床坡度变缓,水流速度减慢,河流携带的泥沙沉积下来,使河床逐渐抬高,成为“ _____ ”。(5分)

28. 读下面的两幅图,完成下列各题。(10分)



(1)图甲的四条曲线中,与400毫米年等降水量线基本一致的是_____ ,我国的四类干湿地区中,分布在该线以西的主要是_____ 区和_____ 区。(3分)



(2) 图甲的四条曲线中,表示我国地势第二、第三级阶梯分界线的是_____,此线以东地形以_____为主。(2分)

(3) 图甲中曲线_____是我国 1 月 0°C 等温线。(1分)

(4) 下列数字有可能为图中 E 点多年平均降水量的是 () (1分)

A. 260 毫米 B. 50 毫米 C. 600 毫米 D. 990 毫米

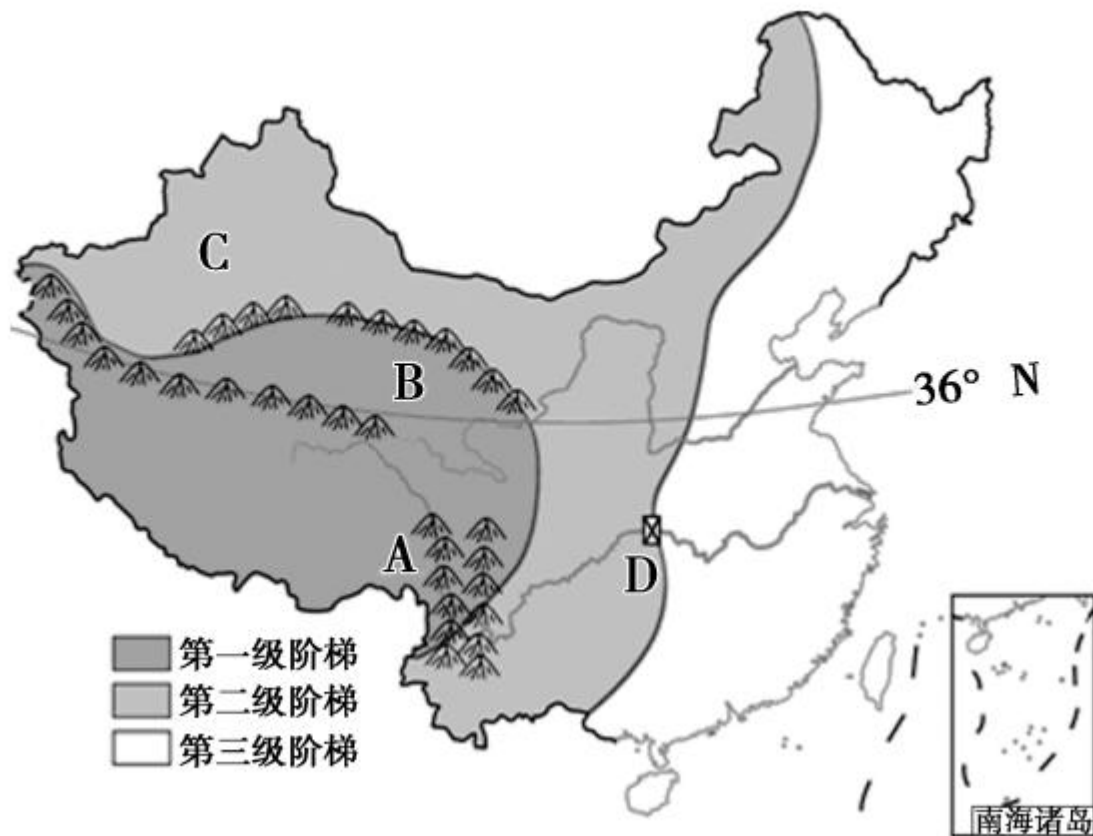
(5) 图甲中 F 地夏季气温_____,其原因是_____。(2分)

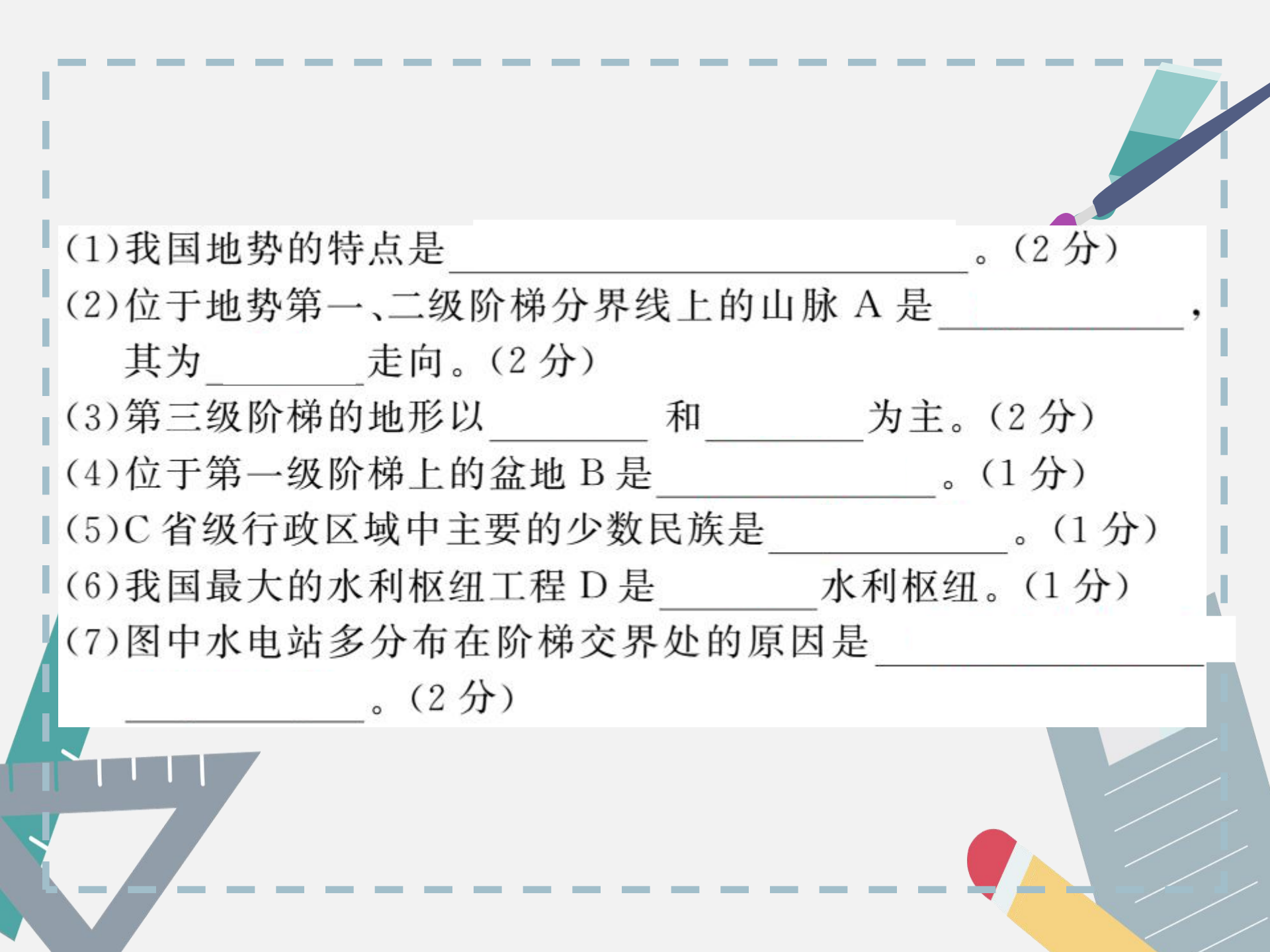
(6) 根据图乙的气温和降水状况判断,该地可能位于 () (1分)

A. 青藏高原 B. 华北平原
C. 四川盆地 D. 长江中下游平原

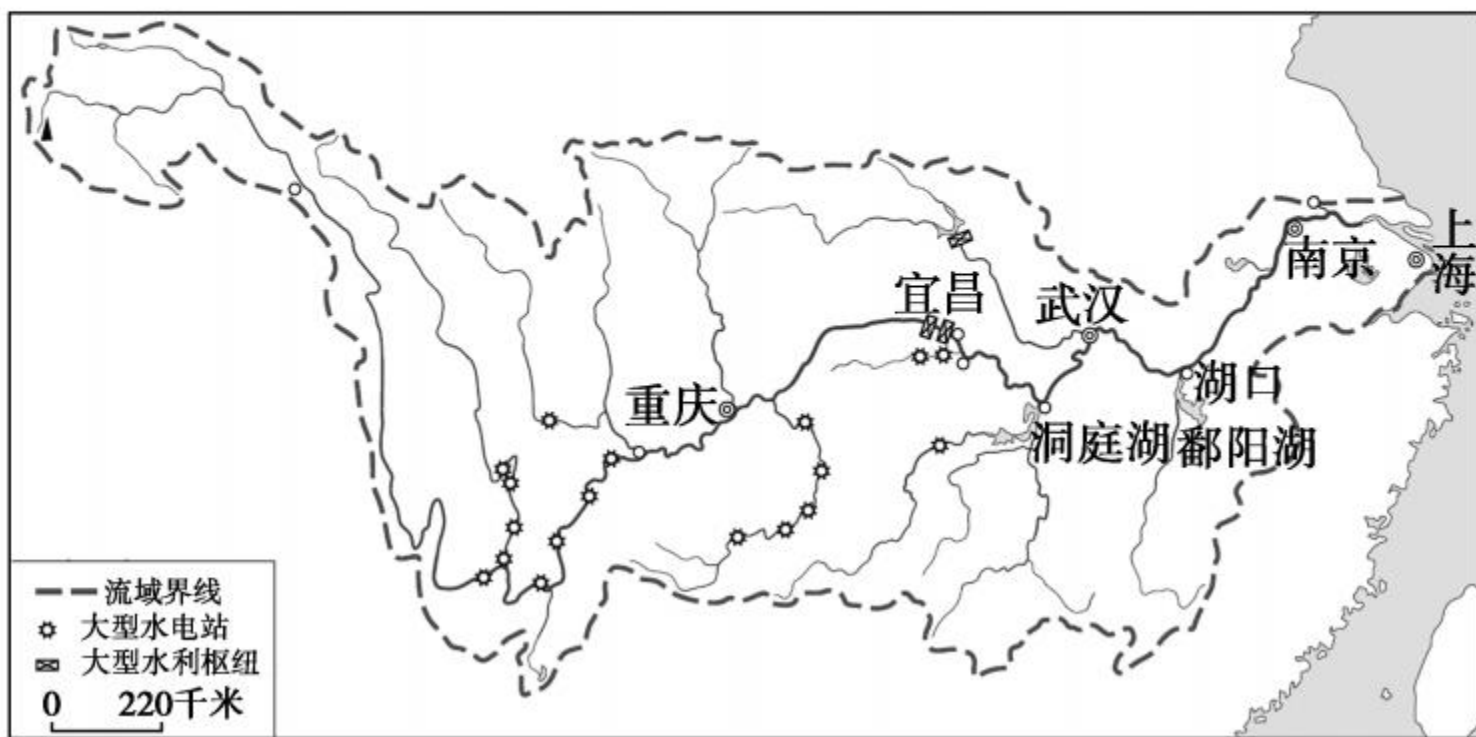


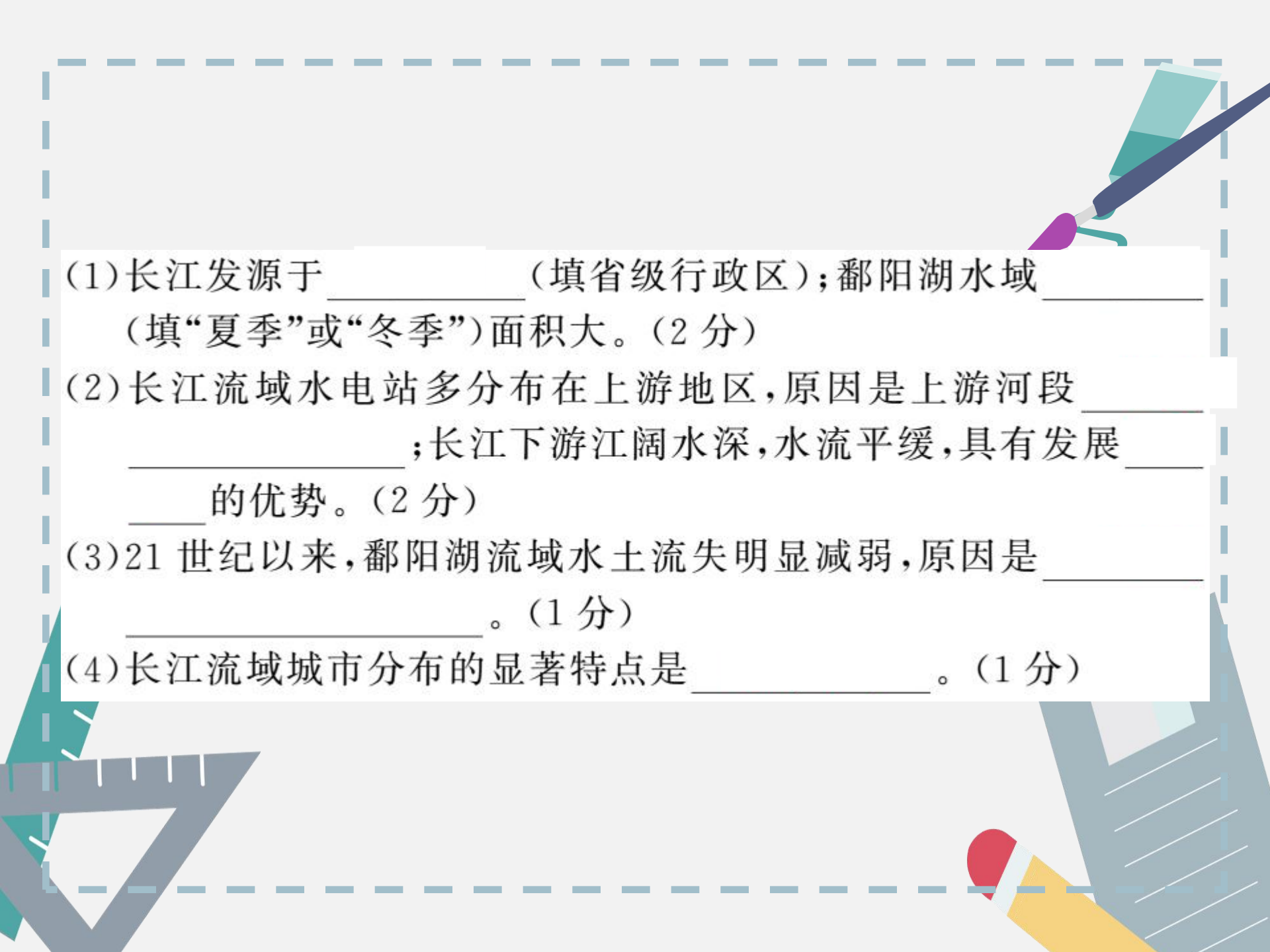
29. (齐齐哈尔市中考)读“我国地势阶梯分布图”,回答问题。(11分)



- 
- (1)我国地势的特点是_____。(2分)
- (2)位于地势第一、二级阶梯分界线上的山脉 A 是_____,
其为_____走向。(2分)
- (3)第三级阶梯的地形以_____和_____为主。(2分)
- (4)位于第一级阶梯上的盆地 B 是_____。(1分)
- (5)C 省级行政区域中主要的少数民族是_____。(1分)
- (6)我国最大的水利枢纽工程 D 是_____水利枢纽。(1分)
- (7)图中水电站多分布在阶梯交界处的原因是_____。
_____。(2分)

30. (江西省中考)长江发源于青藏高原,上游流经我国地势的第一级阶梯和第二级阶梯,中下游流经长江中下游平原。读“长江流域略图”,完成下列问题。(6分)





(1)长江发源于_____ (填省级行政区);鄱阳湖水域_____ (填“夏季”或“冬季”)面积大。(2分)

(2)长江流域水电站多分布在上游地区,原因是上游河段_____ ;长江下游江阔水深,水流平缓,具有发展_____ 的优势。(2分)

(3)21世纪以来,鄱阳湖流域水土流失明显减弱,原因是_____ 。(1分)

(4)长江流域城市分布的显著特点是_____ 。(1分)





