


7 条形统计图

认识条形统计图 (2)

一、复习导入，揭示课题



同学们，你们都喜欢吃什么早餐呢？



牛奶



豆浆






粥



二、探究新知

下面是四（1）班同学最喜欢的一种早餐（不包括主食）统计表。

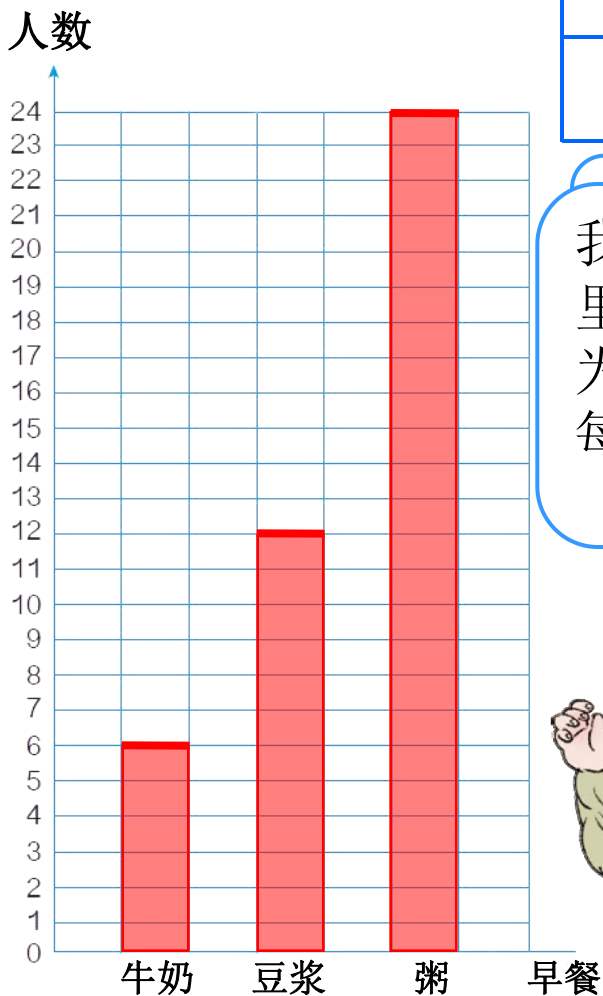
最喜欢的早餐	 牛奶	 豆浆	 粥
人 数	6	12	24



请选一个条形图把统计结果表示出来。

最喜欢的早餐	 牛奶	 豆浆	 粥
人 数	6	12	24

二、探究新知



最喜欢的早餐

人 数

你认为用哪个图表示这里的数据比较合适？为什么？



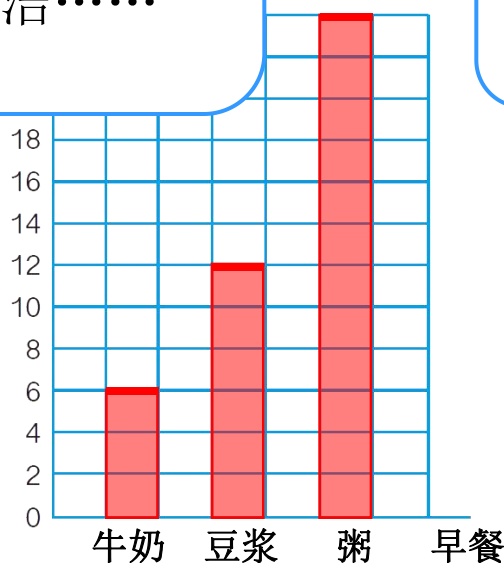
粥

24

我认为右边的图表示这里的数据比较合适，因为这些数据比较大，用每格代表2人更简洁……

你选择出来。

我画的这幅条形图，每格代表2人。



三、知识运用

(一) 做一做

日	一	二	三	四	五	六
						1
2	3	4	5	6	7	8
9	10	11	12	13	14	15
16	17	18	19	20	21	22
23	24	25	26	27	28	29
30						

- 暴雨
- 中雨
- 小雨

这是北京市
2012年9月
的天气情况。



根据例1的数据和上面的记录单填写下表。

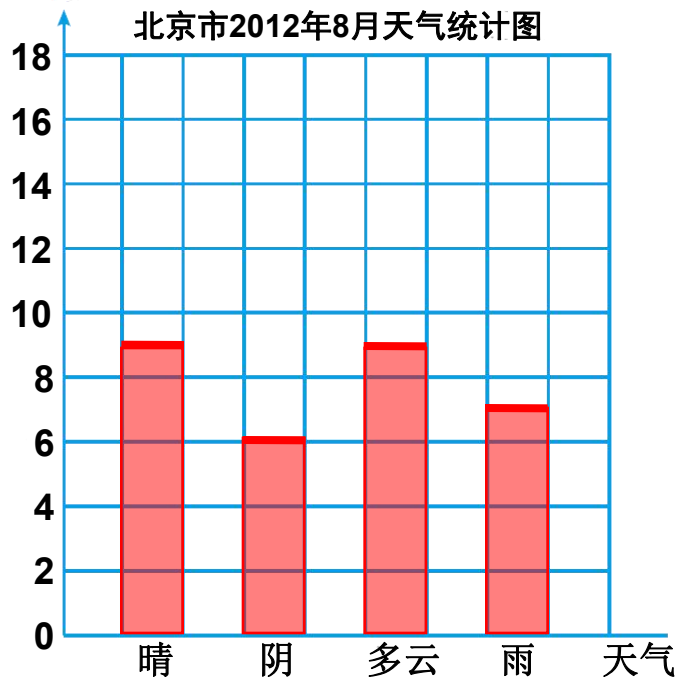
天数 \ 天气	晴	阴	多云	雨
8月	9	6	9	7
9月	18	4	3	5

三、知识运用

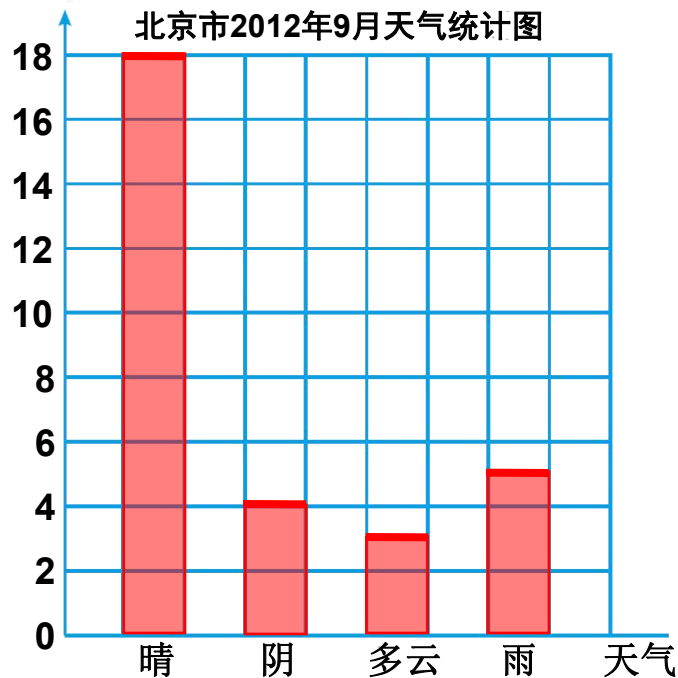
天数 \ 天气	晴	阴	多云	雨
8月	9	6	9	7
9月	18	4	3	5

把上面的数据在下面分别用条形图表示出来。

天数



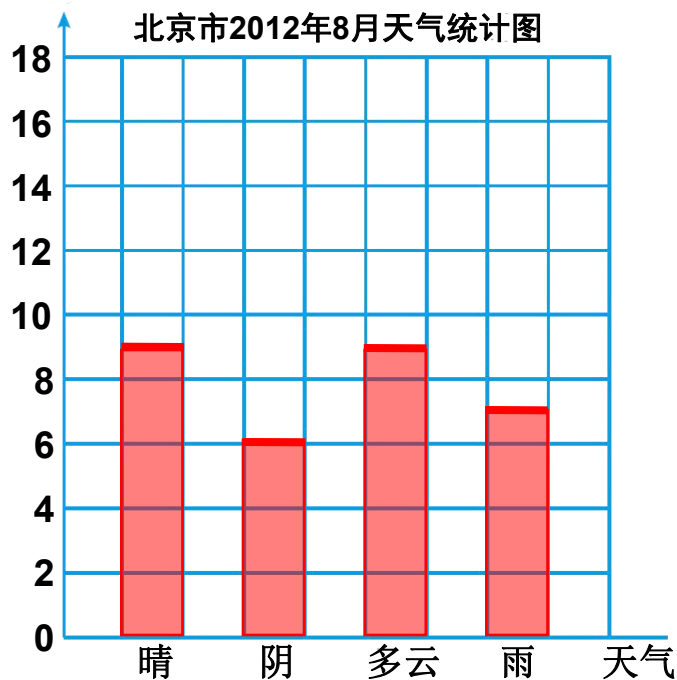
天数




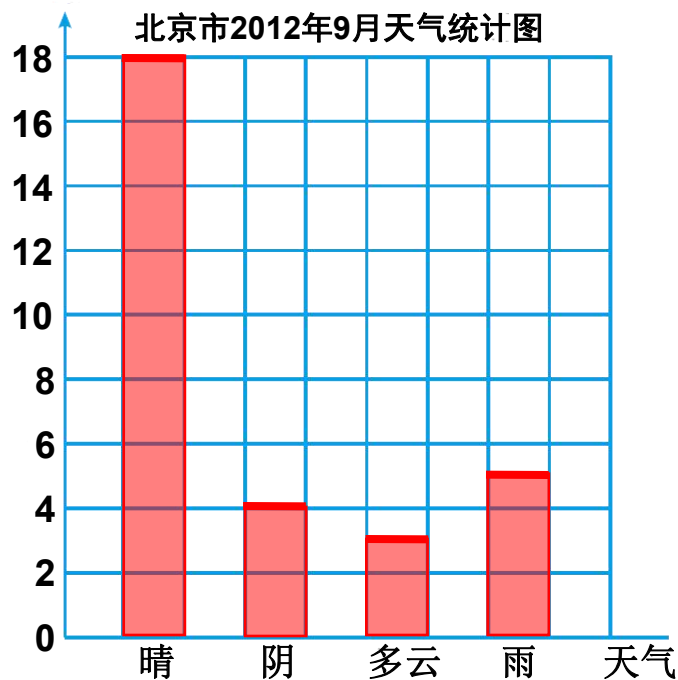
三、知识运用

(一) 做一做


天数



天数



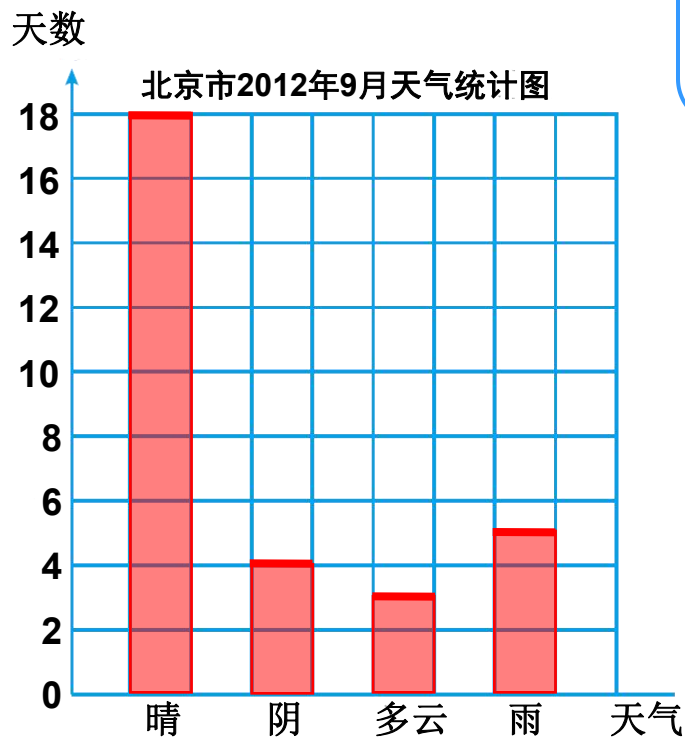
9月和8月比较，天气有什么变化？



9月的晴天比8月多……

三、知识运用

(一) 做一做



9月北京已正式进入秋季，你认为北京9月的天气有什么特点？



9月的天气比较凉爽，空气慢慢开始变得干燥了……



三、知识运用

(二) 同学们最喜欢下面哪个卡通形象？



下面是四（1）班同学调查的结果。

第一组：

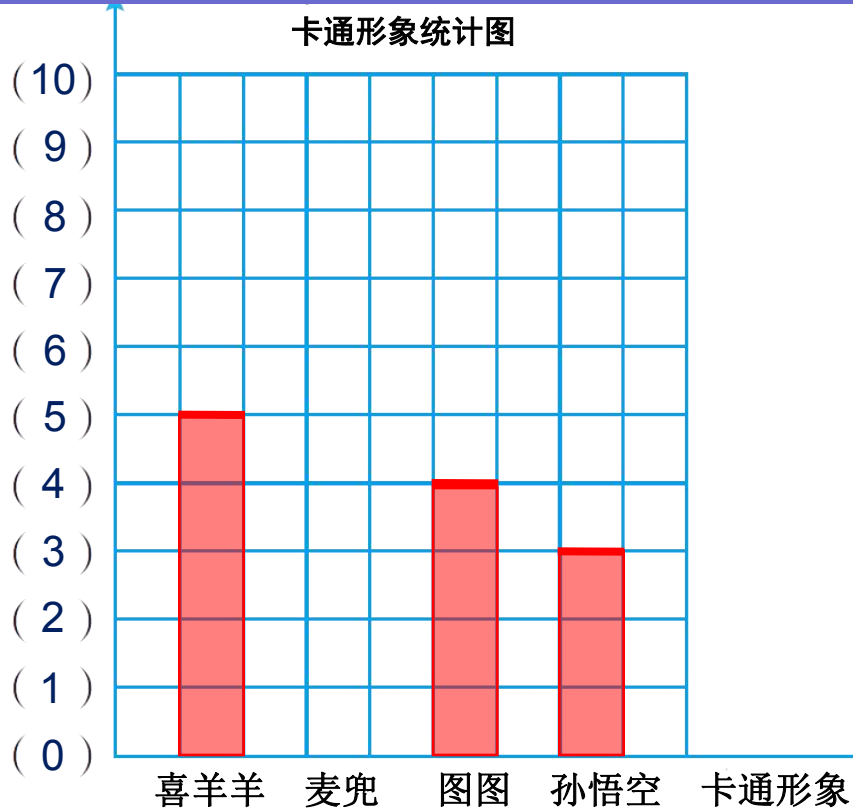
卡通形象	喜羊羊	麦兜	图图	孙悟空
人 数	5	0	4	3
全 班：				
卡通形象	喜羊羊	麦兜	图图	孙悟空
人 数	18	5	14	10

把统计的结果分别在下图用条形图表示出来。

三、知识运用

第一组:

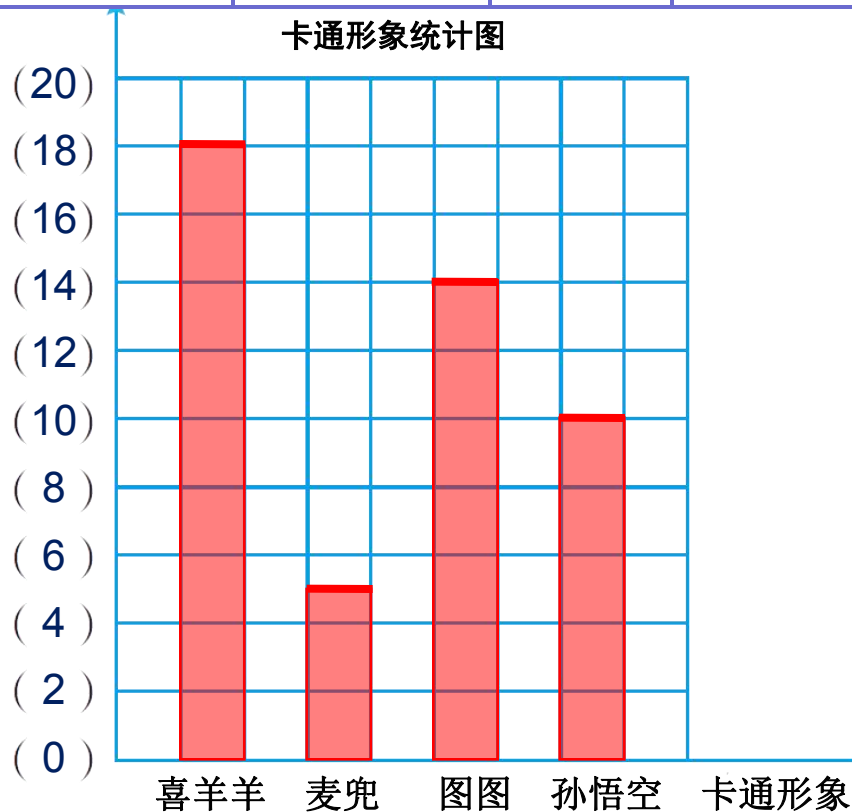
卡通形象	喜羊羊	麦兜	图图	孙悟空
人数	5	0	4	3



三、知识运用

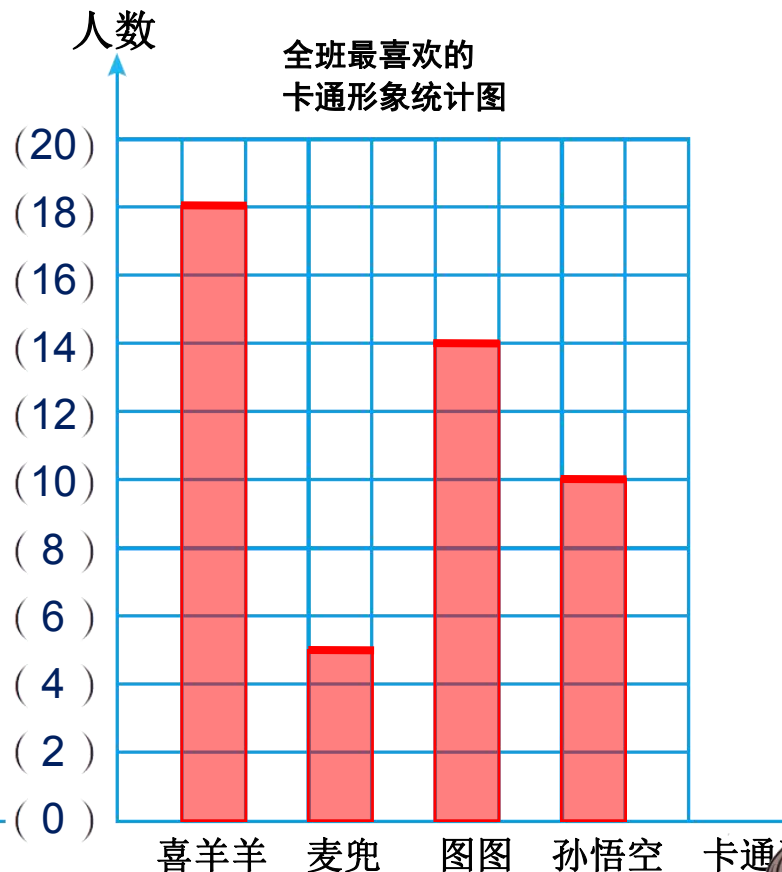
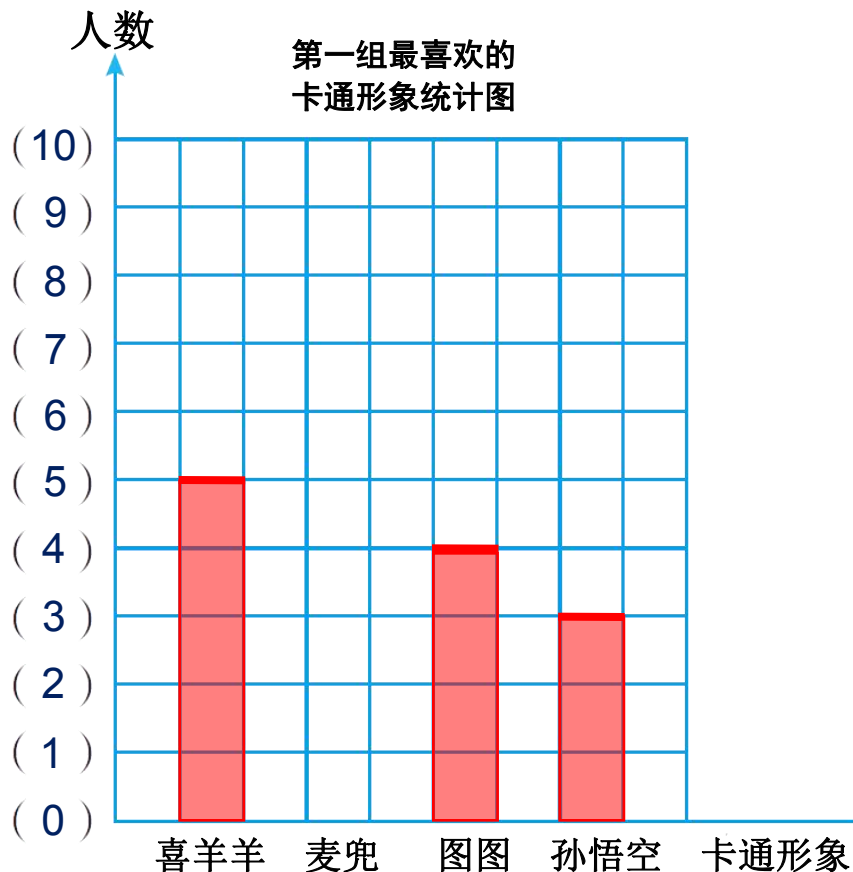
全 班:

卡通形象	喜羊羊	麦兜	图图	孙悟空
人 数	18	5	14	10



三、知

通过条形图你获得了什么信息？



第一组的图每格代表 (1) 人，全班的图每格代表 (2) 人。

喜羊羊最受同学们喜爱……



四、布置作业

作业：第101页练习十九，第4题。