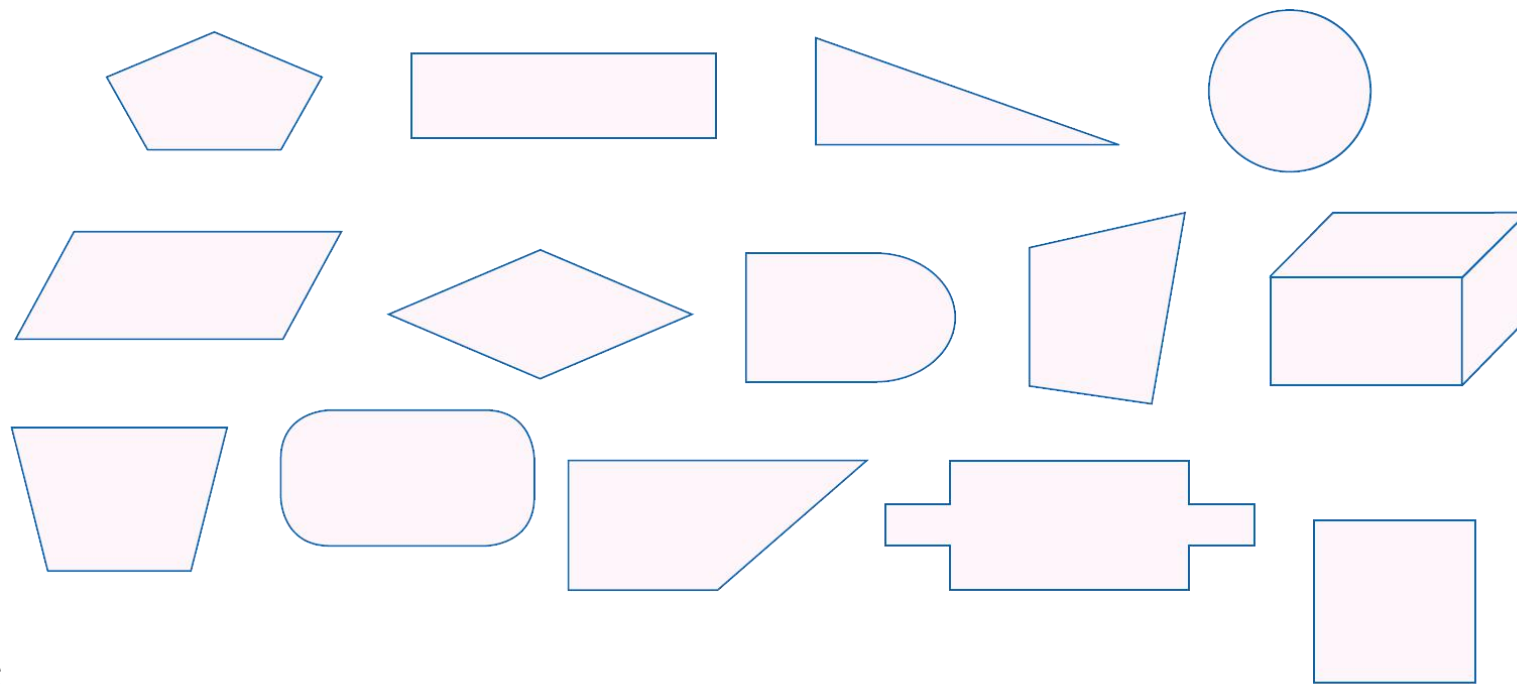



7 长方形和正方形

四边形(例1、例2)

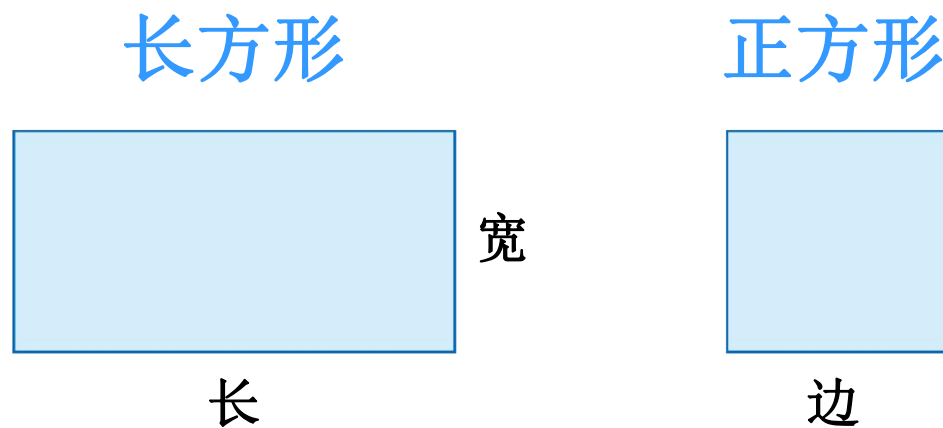
一、观察感知，认识四边形





二、观察操作，体会长方形、正方形特点

(一) 认识边的名称



问题1：你认识这两个图形吗？

问题2：你还知道什么？

二、观察操作，体会长方形、正方形特点

(二) 操作体会长方形、正方形特点


长方形和正方形有什么特点？



长方形



正方形



问题：请你动手折一折、量一量、比一比，你有什么发现？

二、观察操作，体会长方形、正方形特点

(二) 操作体会长方形、正方形特点



问题：请你动手折一折、量一量、比一比，你有什么发现？


折

量

比

三、巩固练习，应用拓展

(一) 在下面的点子图上画出几个不同的四边形

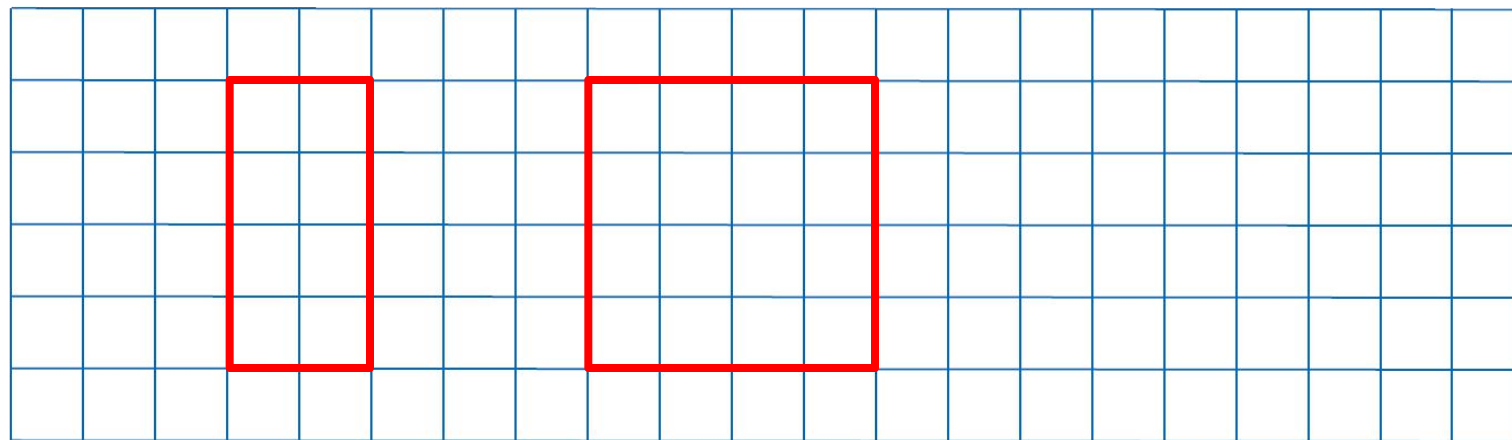


问题1：你能画出几个不同的四边形吗？

问题2：你还能画出跟上面不一样的四边形吗？

三、巩固练习，应用拓展

(二) 画一画



问题：请你在上面的方格纸上画出一个长方形和一个正方形。

四、布置作业

作业：第81页练习十七，第1~4题。