

一年级思维训练题 1

班级_____ 姓名 _____

- 1、晾晒 1 块手帕，要用 2 只夹子；2 块手帕，要用 3 只夹子；11 块手帕，要用（ ）只夹子。
- 2、老师带了一些小朋友去看电影，一共买了 11 张票。问和老师一起看电影的有（ ）个小朋友。
- 3、8 名女同学站成一排，每隔 2 名女同学插进 3 名男同学，共插进（ ）名男同学。
- 4、把 2、3、4、5 分别填入（ ）中，每个数只能用一次。
() + () - () = ()
- 5、小朋友排队。小平的左面有 4 个人，右面有 8 个人。这一行有（ ）个人。
- 6、小朋友排队。从左数过来小平是第 4 个，从右数过来是第 8 个。这一行有（ ）个人。
- 7、按规律写数。
- 8、 15、10、13、12、11、()、()
1、4、3、6、5、()、()
1、2、4、8、()、()
- 8、

 () 个正方形

--	--	--	--

 () 个长方形
- 9、小明、小林和小红一起比体重，结果是小明比小林重，小林比小红重，小明比小红重。他们三人中（ ）最重，（ ）最轻。
- 10、小明、小红、小林进行 100 米跑步比赛。小明用了 13 秒，小林用了 12 秒，小红用了 11 秒。那么，（ ）是第一，（ ）是第二。
- 11、强强的体重是 27 千克，芳芳的体重是 25 千克。东东的体重居于第三，他和强强体重相差 5 千克，东东的体重是（ ）千克。

一年级思维训练题 2

班级 _____ 姓名 _____

- 1、小猫、小狗、小兔、小猴、小熊排成一横排做广播操：兔的左边是狗；猴在熊的左边；猫的右边是狗；猴在兔的右边。（ ）排在队伍的最左边。
- 2、1、2、4、5、7、8、（ ）、（ ）
15、1、12、1、9、（ ）、（ ）、（ ）、（ ）
75、（ ）、（ ）、60、（ ）、50、（ ）、（ ）、（ ）
10、5、9、6、8、7、7、（ ）、（ ）、（ ）
- 3、拔河比赛结束后老师买了些饮料给同学们喝，可乐比雪碧多4瓶，可乐比芬达多6瓶。老师买的是（ ）多，多（ ）瓶。
- 4、举行跳绳比赛。秋秋跳得比丁丁少，小牛跳得比阿婷多，比秋秋少。
第一名：（ ）第二名：（ ）第三名：（ ）第四名：（ ）

5、在○里填上“+”或“-”，使算式成立。

$$6 \bigcirc 5 \bigcirc 4 \bigcirc 3 \bigcirc 2 \bigcirc 1 = 1$$

$$6 \bigcirc 5 \bigcirc 4 \bigcirc 3 \bigcirc 2 \bigcirc 1 = 21$$

$$6 \bigcirc 5 \bigcirc 4 \bigcirc 3 \bigcirc 2 \bigcirc 1 = 11$$

$$6 \bigcirc 5 \bigcirc 4 \bigcirc 3 \bigcirc 2 \bigcirc 1 = 9$$

$$6 \bigcirc 5 \bigcirc 4 \bigcirc 3 \bigcirc 2 \bigcirc 1 = 15$$

6、你能把0、1、2、3、7、8、9填入下面的算式，使等式成立吗？

$$\square + \square = \square \square \quad \square - \square = \square$$

$$7、 \begin{array}{r} 6 \quad () \\ + \quad 5 \\ \hline () 3 \end{array} \quad \begin{array}{r} 3 \quad () \\ - \quad 7 \\ \hline () 4 \end{array} \quad \begin{array}{r} 2 \quad () \\ + \quad 5 \quad 7 \\ \hline 8 \quad () \end{array} \quad \begin{array}{r} 7 \quad () \\ - \quad 4 \quad 8 \\ \hline 2 \quad () \end{array}$$

$$\begin{array}{r} () 8 \\ + \quad 1 \quad () \\ \hline 7 \quad 6 \end{array} \quad \begin{array}{r} () 8 \\ - \quad 3 \quad () \\ \hline 6 \quad 4 \end{array} \quad \begin{array}{r} () 8 \\ - \quad 8 \quad () \\ \hline 9 \end{array} \quad \begin{array}{r} () \quad () \\ - \quad () \quad 7 \\ \hline 2 \quad 6 \end{array}$$

一年级思维训练题 3

班级_____ 姓名_____

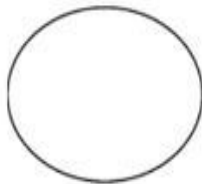
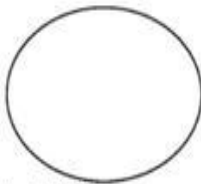
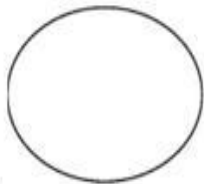
1、按要求把数填入相应的方框里。

7 6 5 3 8 8 2 6 1 9 3 6 6 7 3 1

双数

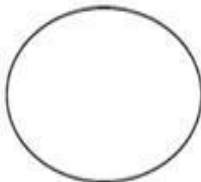
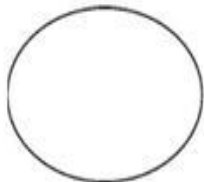
个位是6的数

比45大的数



单数

比60小的数



2、共有12名小选手参加比赛，比秋秋得分高的有4人，比秋秋得分低的有()人，秋秋排名第()。

3、小朋友排队去参观纪念馆，从前面数阿婷是第5个，从后面数秋秋是第3个。她们中间还有6个人，这一列队伍共有多少人？

4、力力的教室在一楼，美术教室在三楼，电脑教室在五楼，每一层有15个台阶。力力从教室到美术教室要走()个台阶。从美术教室到电脑教室要走()个台阶。如果从教室到电脑教室往返一次要上下()层楼。

5、张老师把红、白、蓝各一个气球分别送给三位小朋友，根据下面三句话，请你猜一猜他们分别得到什么颜色的气球？

小红：“我分到的不是蓝气球。” 小军：“我分到的不是白气球。”

小彩：“他们俩的气球一只是红色的，一只是蓝色的。”

小红()、小军()、小彩()。

6、小牛和叶叶各有10颗糖，小牛给叶叶2颗，他们相差()颗。

7、教室里有8台吊扇，下课关掉5台，还有()台吊扇。

8、河里有5只鸭子，6只鹅，游走了6只，游走的至少有()只鹅。

一年级思维训练题 4

班级_____ 姓名_____

- 1、衣服正面有4个扣子，一个袖子上有2个扣子，这件衣服上有多少个扣子？
- 2、星期天，爸爸、妈妈带小牛去动物园，车票每张1元。动物园门票全票6元，半票3元，这次游玩，车票、门票一共花了多少钱？
- 3、一根电线，对折后从中间剪开，剪开的电线一共有（ ）段。
- 4、丁丁和小彩的铅笔支数一样多，他们的铅笔合起来超过10支但不到20支，他们可能各自有几支铅笔？
- 5、小军喝一杯牛奶，第一次喝了半杯，用水加满，第二次喝了半杯后又用水加满，然后全部喝完。小军一共喝了（ ）杯牛奶，（ ）杯水。
- 6、1桶水可以装5壶水，1壶水可以冲4杯水。1桶水可以冲几杯水？

7、

5	6	7	8	9
6	6	7	8	9
7	7	7	8	9

1	2	3	4	5
5	1	2	3	4
4	5	1	2	3

- 8、18个网球分成数量不同的4堆，数量最多的一堆有（ ）个。
- 9、5个小朋友用5分钟吃了5个桔子，15个小朋友吃15个桔子要用（ ）分钟。
- 10、房间内有10支点燃的蜡烛。风从窗外吹进来，吹熄了2支蜡烛，后来又吹熄了1支，这时主人把窗户关了。第二天，打开房门，房内还有（ ）支蜡烛。
- 11、去看电影，进了电影院后对号坐下，正数我坐13排，倒数还是13排。这个电影院座位有（ ）排。

一年级思维训练题 5


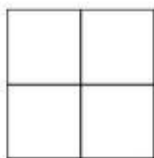
1、按规律在 () 里填数。

- (1) 3, 5, 7, (), 11
 (2) 2, 4, 6, 8, (), ()。
 (3) 1, 2, 4, 7, 11, (), ()。

2、在每组中圈出不同的。

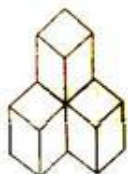


3、数一数。



有 () 个正方形

有 () 个长方形



有 () 个正方体

有 () 个正方体



4、一根绳子有 2 个头，三根半绳子有 () 个头。

5、强强和小华打了 2 小时的乒乓球，每人打了 () 小时。

6、8 个人排成一排，从左边数起，小明排第 7，从右边数起，小明排第 ()。

7、红花、黄花一共有 9 朵，猜一猜，红花最多有 () 朵。

8、华华家上面有 3 层，下面有 2 层，这幢楼共有 () 层。

9、把 4 本本子分给小方和小兰，小方最多可以分 () 本，最少分 () 本。

10、□ 可以填几。

$$\square - \square = \square - \square = \square - \square = 0$$

一年级思维训练题 6

1. 小红有 15 本书，小东有 5 本书，小红给小东（ ）本书，两个人的书就同样多？
2. 一头猪换 2 只羊，一只羊换 4 只兔，2 只羊换（ ）只兔，1 头猪换（ ）只兔
3. 按规律填数字
 - (1) 3、5、7、（ ） 9 (2) 6、9、12、15（ ）
 - (3) （ ） 11、9、7、（ ） (4) 1、8、1、10、1、12、（ ）（ ）
4. 林林前面有 2 人，后面有 7 人，这一排一共有（ ）人。
5. 小红的左边有 5 人，右边有 3 人，这一行一共有（ ）人。
6. 从前面数起，小林是第 5 个，从后面数起，小林第 4 个，一共有（ ）个。
7. 11 个小孩子站成一行，从前往后数，林林站在第 3 个，从后往前数，东东站在第 3 个，林林和东东中间还有（ ）个小朋友。
8. 2 6 10 1 4 5 6
9. 一根钢丝长 8 米，要截成 8 小段，需要截（ ）次。
10. 学校插了 6 面彩旗，在两面彩旗之间又插了黄旗，黄旗有（ ）面。
11. 妈妈买回一些巧克力，名名吃了 4 块，还有 9 块，妈妈买了（ ）块巧克力
12. 大光和小名每人有 5 块糖，大光给小名 4 块后，大光有（ ）块。
13. 小花买一支铅笔和一块橡皮用去 3 元，小力买同样的铅笔和一个卷笔刀用了 5 元，橡皮和卷笔刀（ ）贵，贵（ ）元。
14. 三个小朋友比大小，方方比扬扬大 3 岁，燕燕比方方小 1 岁，燕燕比扬扬大 2 岁。（ ）最大，（ ）最小
15. 今年妈妈比小力大 26 岁，10 年后，妈妈比小力大（ ）岁
16. 小芳今年 8 岁，姐姐今年 12 岁，5 年后，姐姐比小芳大（ ）岁
17. 连长带着 10 名战士过河，已经有 6 个战士过了河，没过河的还有（ ）人。
18. 一只小猫 5 分钟吃完一条小鱼，5 只小猫同时吃 5 条同样的小鱼要（ ）分钟。
19. 小化过生日，请来 5 个小朋友一起吃饭。每人一个饭碗，2 人一个菜碗，3 人一个汤碗，请你算一算，他们一共用了（ ）个碗。