


5 倍的认识

例3

(一个数的几倍是多少)

一、复习巩固

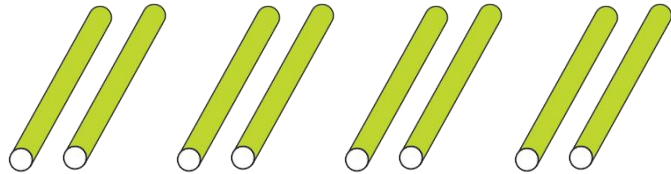
第一行：



数一数第一行
有几根小棒。



第二行：



第二行小棒的根数是第一行的4
倍，第二行摆多少根？



二、探究新知

(一) 阅读与理解

可以提出一个什么问题？



军棋的价钱是8元，象棋的价钱是军棋的4倍。

知道了军棋的价钱，
要求象棋的价钱。

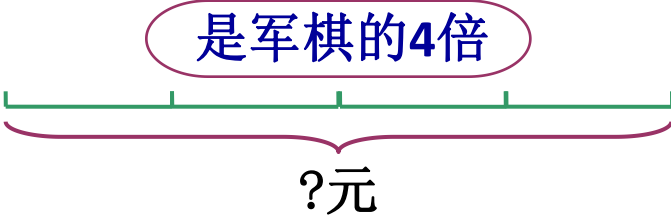
还知道了两种价钱
之间的关系。

二、探究新知


(二) 分析与解答

军棋：

8元

象棋：

?元

可以画图帮助理解。



要求象棋的价钱，就是求（ 4 ）个（ 8 ）是多少。

$$8 \times 4 = 32 \text{ (元)}$$

二、探究新知

(三) 回顾与反思



我们解答得对吗？

32元是8元的4倍吗？





$32 \div 8 = 4$ ，解答正确。

答：象棋的价钱是32元。

三、知识应用

(一) 画一画

第一行：

第二行画的  是第一行的5倍。第二行有多少个  ?



5个2，解答正确。

我是这样画的。



第二行：



三、知识应用

(三) 看图填空



的只数是 的 4 倍。


有 (20) 只。

三、知识应用

(二) 看图列算式




你知道了哪些信息？



你是怎么想的？

$$7 \times 3 = 21 \text{ (只)}$$

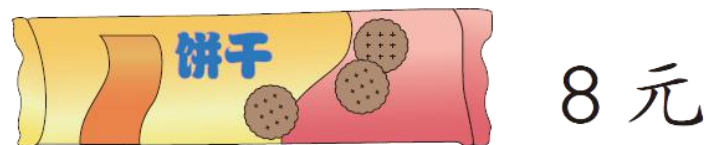
还知道了两种动物

要求：  有多少只，就是求
(3) 个 (7) 是多少。



三、知识应用

(三) 看图填空




的价钱是  的3倍。

是 (24) 元。

三、知识应用

(三) 看图填空



 的只数是  的 5 倍。
 有 (15) 只。

三、知识应用

(三) 看图填空

1 只



收 7 个玉米。

6 只



收 (42) 个玉米。

三、知识应用

你能提出数学问题并解答吗？



(四) 解决问题



李芳踢的个数是王平的几倍？

$$18 \div 3 = 6$$

答：李芳踢的个数是王平的6倍。



刘梅踢的个数是王平的2倍。刘梅踢了多少个？

$$3 \times 2 = 6 \text{ (个)}$$

答：刘梅踢了6个。

四、布置作业

作业：第**55**页练习十一，第**11**题。