



第 14 课时 整理和复习(2) [教材 P<sub>93</sub>]





# 开心！一练

一 列竖式计算，带※的要验算。

$$312 \div 52$$

$$\ast 345 \div 38$$

$$572 \div 26$$

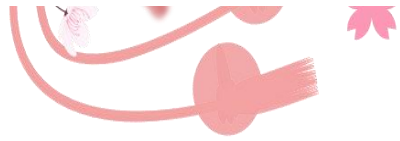
$$\text{※ } 8400 \div 600$$

二 下面的计算对吗？把不对的改正过来。

$$\begin{array}{r} 123 \\ 60 \overline{) 740} \\ \underline{6} \\ 14 \\ \underline{12} \\ 20 \\ \underline{18} \\ 2 \end{array} \quad ( \quad )$$



$$\begin{array}{r}
 8 \\
 53 \overline{) 422} \\
 \underline{424} \\
 2 \quad ( \quad )
 \end{array}$$



三 在下面的方格里,填哪几个数字商是一位数? 填哪几个数字商是两位数?

$53 \overline{) \square 38}$	商是一位数	
	商是两位数	
$37 \overline{) 3 \square 9}$	商是一位数	
	商是两位数	

四 1. 计算下面各组题,你发现了什么?

$$480 \div (4 \times 3) =$$

$$480 \div 4 \div 3 =$$

$$640 \div (8 \times 2) =$$

$$640 \div 8 \div 2 =$$

我发现:

\_\_\_\_\_

\_\_\_\_\_



2. 用你喜欢的方法计算。

$$630 \div 21 =$$

$$630 \div 3 \div 7 =$$

$$540 \div (6 \times 9) =$$

$$540 \div 6 \div 9 =$$





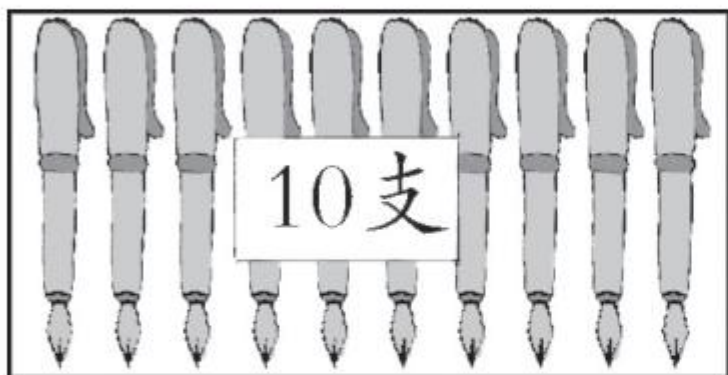
**五** 买 25 本《百科全书》需要 800 元。如果小方只买 9 本,需要多少钱?



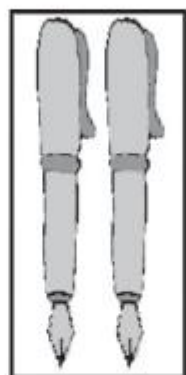


# 快乐!提升

六



每盒60元



2支15元



1支9元

上面是同一种钢笔的价钱。一位老师要买16支这种钢笔,怎样买最省钱?买17支又该怎样买?

