

第一學期四年級數學期末試卷

(考試時間 90 分鐘 · 滿分 100 分)

題號	一	二	三	四	五	六	七	總分
得分								



這些都是本學期學過的內容，只要認真思考，細心答題，你們一定能行的。加油哦！

一、我會算：(共 37 分)

1、直接寫得數：(每題 1 分 12 分)

$400 \times 70 =$

$320 \div 40 =$

$15 \times 60 =$

$63 \div 7 \times 8 =$

$15 \times 40 =$

$1600 \div 80 =$

$7200 \div 9 =$

$640 \div 80 \div 4 =$

$634 \div 70 =$

$25 \times 40 =$

$100 - 67 =$

$12 \times 4 \div 2 =$

2、用豎式計算：(每題 2 分 10 分)

$507 \times 46 =$

$265 \times 68 =$

$840 \div 35 =$

$762 \div 19 =$

驗算

3. 遞等式計算：(每題 3 分 9 分)

$(160 - 48 \div 12) \times 4$

$336 \div [(36 - 29) \times 6]$

$62 \times (300 - 145 \div 5)$

4. 列式計算 (每小題 3 分 6 分)

(1) 什麼數中包含 85 個 320 ?

(2) 884 是 34 的多少倍 ?

二、我會填。(每題 2 分，共 16 分)

1. 80040920 最高位是 () 位，這個數讀作 ()

2. 一個七位數，個位上是 1，千位上是 2，萬位上是 9，百萬位是 4，其餘各位都是 0，
這個數寫作 ()，四捨五入到萬位約是 ()。

3. 三十二億零五十萬七千零一，寫作_____。改作以“億”作單位時，寫
作_____。

4. 84×390 的積是____位數。

5. $(480 \div 10) \div (120 \div \square) = 4$ \square 裡能填 ()。

三、我會選。(每題 1 分，共 6 分。)

1、下面三個數中，一個 0 也不讀出來的是： ()

A、90000900

B、90090000

C、90009000

2、要使 $8\square418 \approx 8$ 萬， \square 裡不能填 ()

A、5

B、3

C、2

D、1

3、下列四個數中，最接近 8 萬的是： ()



A、80101

B、79989

C、79899

D、79979

4、下列線中，() 是直線，() 射線，() 是線段。



5、北京到天津的公路長 120 千米，貨車要行 2 小時，貨車的速度是 ()。

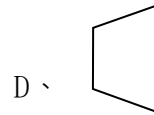
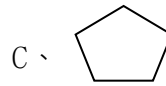
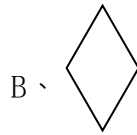
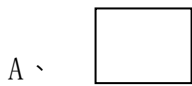
A、60 時

B、60 千米/分

C、60 千米/時

D、240 千米/時

6、下麵圖形中，有兩組平行線的圖形是 ()。



四、我會判斷。對的打“√”，錯的打“×”。(每題 2 分，共 10 分。)

1、北京某一天的氣溫是 $-8^{\circ}\text{C} \sim 8^{\circ}\text{C}$ ，這一天的最高氣溫和最低氣溫是一樣的。

()

2、過一點只能畫一條直線。

()

3、在乘法裡，兩個因數都擴大 10 倍，積也擴大 10 倍。

()

4、要使 $\square 345 \div 45$ 的商是兩位數， \square 裡最大能填 3。

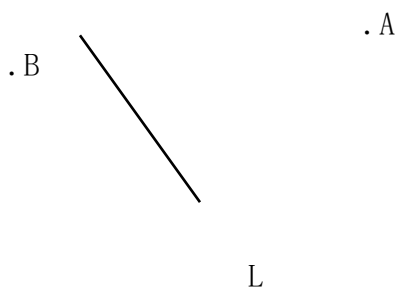
()

5、手電筒的光線中有無數條射線。

()

五、我會畫。(第 1 題 6 分，第二題 4 分，共 10 分。)


1、過 A 點作直線 L 的垂線，過 B 點作直線 L 的平行線。



2、請你用量角器畫出一個 60 度的角。

六、我會解決問題。(21分)

1、



小玲 我 12 分鐘打

小芳 我 18 分鐘打

她們倆誰打字的速度快？(4分)

2. 小林家的果園今年收了310千克梨，收的蘋果是梨的19倍，大約收了多少千克蘋果？

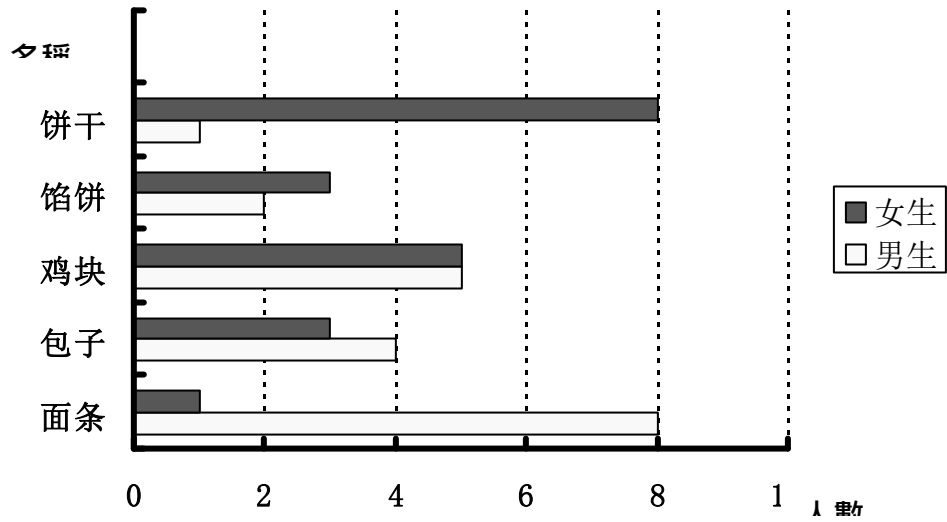
(4分)

3. 每千克蘋果6元，每千克梨子3元，媽媽買了4千克蘋果，媽媽如果用同樣多的錢可以買多少千克梨子？(4分)

4. 5箱蜜蜂一年可以釀375千克蜂蜜。小林家養了這樣的蜜蜂12箱，一年可以釀多少千克蜂蜜？(4分)

5. 看圖回答問題：(5分)

四(1)班同學喜歡的午餐統計圖



(1) 男生最喜歡的午餐是 ()，女生最喜歡的午餐是 ()。

(2) 女生最不喜歡的午餐是 ()，有 () 人。

(3) 你還能得到哪些資訊？
